

سلطنة عمان

وزارة التربية والتعليم

المديرية العامة للتربية والتعليم بمحافظة شمال الباطنة

مدرسة عاتكة للتعليم ما بعد الأساسي

أسرة الدراسات الاجتماعية



ملتزمون بتحقيق رؤيتنا ، الإجابة في موادنا

رؤية المدرسة

غايتنا التميز بروح عالية ومشاركة فاعلة

دفنري سر تميزي

مادة الدراسات الاجتماعية

الصف العاشر / الفصل الدراسي الثاني

اسم الطالب :

الصف :

إعداد المعلمات :

أصيلة بنت ناصر الخالدية

خديجة بنت سعيد السعيدية

نعيمة بنت سعيد البريكية

العام الدراسي ٢٠١٨ / ٢٠١٩م



الصف: العاشر

الفصل الدراسي الثاني

عنوان الوحدة: عمان خلال القرون الثلاثة الاولى من الهجرة

عنوان الدرس: نشأة المذهب الاباضي وتطوره.

السؤال الاول : اختاري الاجابة الصحيحة من بين البدائل المعطاة:

1. الامام الاباضي الذي قتل في معركة النهروان:

أ. مرداس بن حدير. ب. جابر بن زيد.

ج. عبدالله بن وهب. د. مسلم بن أبي كريمة.

2. الامام الاباضي الذي قتله عبيد الله بن زياد سنة (61 هـ):

أ. مرداس بن حدير. ب. جابر بن زيد.

ج. عبدالله بن وهب. د. مسلم بن أبي كريمة.

3. المؤسس الحقيقي للمذهب الاباضي ويرجع الفضل اليه في تكوينه الامام:

أ. مرداس بن حدير. ب. جابر بن زيد.

ج. عبدالله بن وهب. د. مسلم بن أبي كريمة.

4. الامام الاباضي الناطق العلني للمذهب وكانت له مراسلات مع الخليفة الاموي عبد الملك بن مروان حول مبادئ المذهب:

أ. مرداس بن حدير. ب. جابر بن زيد.

ج. عبدالله بن اباض. د. مسلم بن أبي كريمة.

5. الامام الاباضي الذي كان له دور كبير في نشر المذهب في كلا من عمان وحضرموت واليمن :

أ. مرداس بن حدير. ب. جابر بن زيد.

ج. عبدالله بن وهب. د. مسلم بن أبي كريمة.

6. الامام الاباضي الذي يكنى بأبو بلال هو:

أ. مرداس بن حدير. ب. جابر بن زيد.

ج. عبدالله بن وهب. د. مسلم بن أبي كريمة.

7. الامام الاباضي الذي يكنى بأبو الشعثاء هو:

أ. مرداس بن حدير. ب. جابر بن زيد.

ج. عبدالله بن وهب. د. مسلم بن أبي كريمة.

8. الامام الاباضي الذي يكنى بأبو عبيده هو :

- أ. مرداس بن حدير.
ب. جابر بن زيد.
ج. عبدالله بن وهب.
د. مسلم بن أبي كريمة.

9. العام الهجري الذي قتل فيه ابي بلال مرداس بن حدير التميمي :

- أ. 61. ب. 62. ج. 63. د. 64.

10. العام الهجري الذي حدث فيه انقسام نهائي في صفوف المحكمة :

- أ. 61. ب. 62. ج. 63. د. 64.

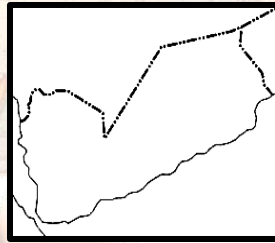
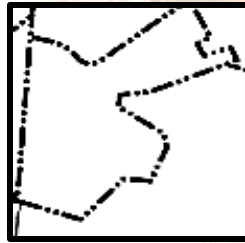
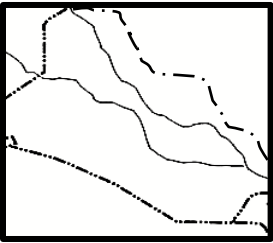
11. العام الهجري الذي توفي فيه الامام جابر بن زيد الازدي :

- أ. 91. ب. 92. ج. 93. د. 94.

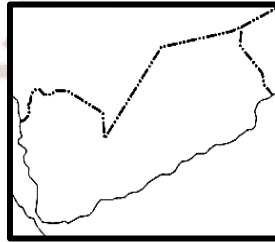
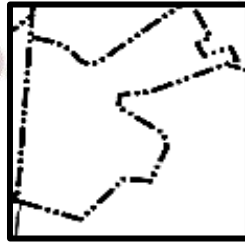
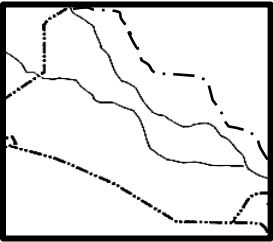
12. العام الهجري الذي توفي فيه الامام ابو عبيدة مسلم بن أبي كريمة التميمي :

- أ. 142. ب. 143. ج. 144. د. 145.

13. خريطة الدولة التي ولد فيها الامام ابو الشعثاء جابر بن زيد الازدي البصري:



14. خريطة الدولة التي لم ينتشر فيها المذهب الاباضي زمن الامام جابر بن زيد هي:



السؤال الثاني:

1. " يعد عام (64 هـ) نقطة تحول بالنسبة لتاريخ الدعوة الاباضية (دلي على صحة العبارة.

2. عللي تسمية (جماعة القعدة) التي انشقت عن المحكمة بهذا الاسم.

3. ارسمي جدولاً بأئمة المذهب الاباضي بعد عبدالله بن وهب الراسبي وحتى الامام ابو عبيدة مسلم بن ابي كريمة التميمي على ان يشمل اهم الاعمال:

4. صممي بطاقة تعريفية لكلا من :

أ. جابر بن زيد على ان تشمل: (الاسم / الكنية / القبيلة / مكان الميلاد / سنة الميلاد / العلماء الذين اخذ العلم منهم / سنة الوفاة).

ب. ابو عبيدة مسلم بن ابي كريمة التميمي على ان تشمل : (الاسم / الكنية / القبيلة / سنة الميلاد / المهنة / العلماء الذين اخذ العلم منهم / سنة الوفاة).

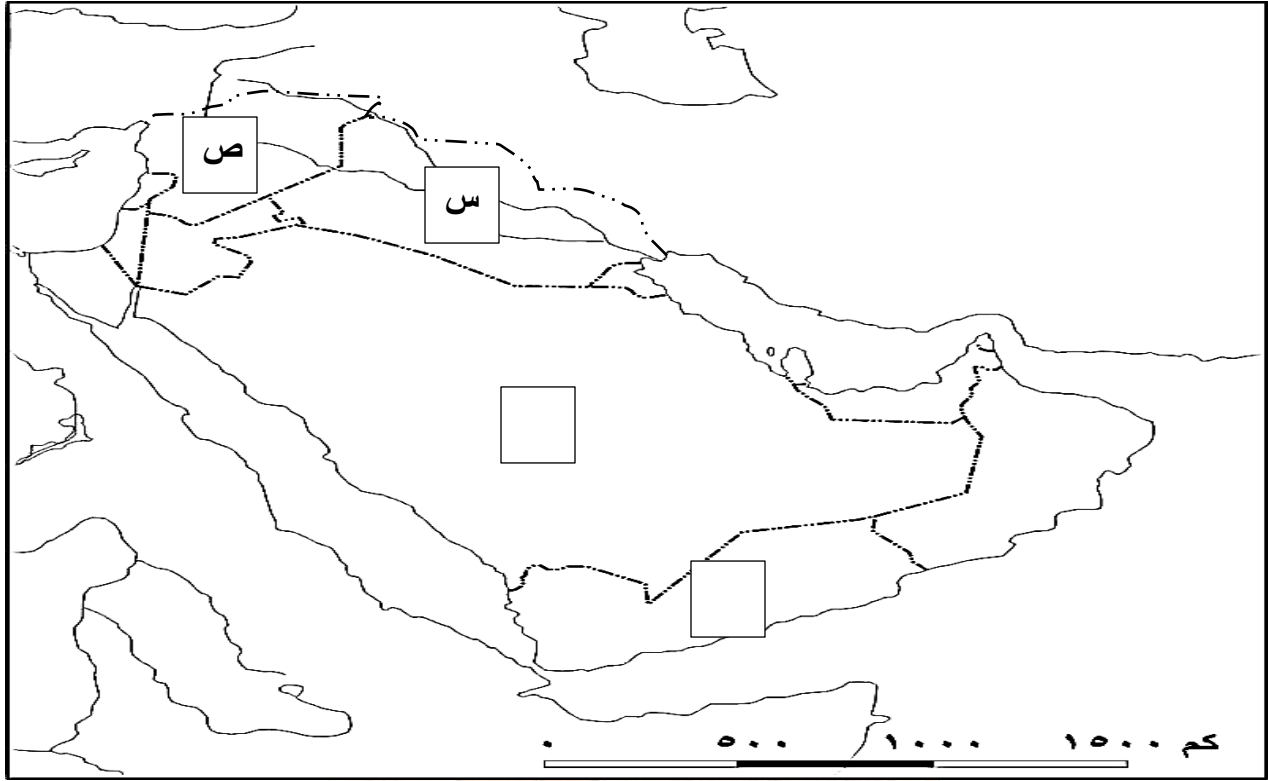
5. " العلاقات السلمية لها اهمية كبيرة في حياة الشعوب وتطورها " طبق هذه العبارة على فترة حكم الامام ابو عبيدة مسلم بن ابي كريمة التميمي.

6. امامك مجموعة من الاعمال لأئمة المذهب الاباضي الواردة اسماءهم في الجدول صنفها الى الامام الذي قام بها (انشأ بيت المال / دعا الى التسامح وحقق الدماء / استغل مواسم الحج لنشر المذهب الاباضي / حث اتباعه على المشاركة في الحياة الاجتماعية / انكر قتل المخالفين / نشر المذهب الاباضي في عمان واليمن وحضرموت / كون مدرسة علمية / نهى عن قتل الناس / المؤسس الحقيقي للمذهب الاباضي / استفاد من التجار في نشر المذهب / الناطق العلني للمذهب).

ابو بلال بن حدير التميمي	ابو الشعثاء جابر بن زيد	ابو عبيدة مسلم بن ابي كريمة

السؤال الثالث:

ادرسى الخريطة التالية واجيبى عن الآتى:



1. ضعي عنوانا مناسباً للخريطة.

2. استخرجي الرمز الذي يشير إلى الدولة التي أقام فيها أبو بلال مرداس بن حدير التميمي بعد تولي الإمامة.

3. ضعي الرمز (م) في المربع المناسب الذي يشير إلى الدولة التي انتشر فيها المذهب الإباضي زمن الإمام جابر بن زيد.

4. ظللي على الخريطة الدولة التي ولد فيها الإمام جابر بن زيد .

حل النشاط " 1 " في الكتاب المدرسي ص 13. **استمراري بتتبع رؤيتنا ، الإجابة في موادنا**

" أ " 1. نشر آرائه وأفكاره في مدينة البصرة.

2. أنكر قتل المخالفين ودعا أتباعه أن لا يجردوا سلاحاً إلا إذا تعرضوا لعدوان.

3. عقد المناظرات لإقناع الناس بآرائه.

" ب " 1. ظهور الإباضية بعد انقسام المحكمة وتميزهم بالتسامح والاعتدال مما ساعد على استمرار مذهبهم.

2. يدل ذلك دعوته إلى التسامح وحقن الدماء ودرء الفتن وإنكار قتل المخالفين ودعوة أتباعه إلى عدم مقاتلة أحد.

.

عنوان الوحدة: عمان خلال القرون الثلاثة الاولى من الهجرة
عنوان الدرس: الامام جابر وانتشار المذهب الاباضي.

الفصل الدراسي الثاني

السؤال الاول : اختاري الاجابة الصحيحة من بين البدائل المعطاه:

1. اصبحت اهم الحواضر في الدولة الاباضية منذ تمصيرها سنة 14 هـ :

أ. البصرة ب. الكوفة ج. صنعاء د. خراسان

2. اصبحت البصرة من اهم الحواضر في الدولة الاباضية في العام الهجري :

أ. 12 ب. 14 ج. 16 د. 18

3. اصبحت " عين العراق " وبعد ان زاد ثراءها " جنة الدنيا " :

أ. البصرة ب. الكوفة ج. صنعاء د. خراسان

4. قائل عبارة " نحن اكثر ساجا وعاجا وديباجا ونهرا عجاجا " هو :

أ. الاحنف بن قيس.
ج. عبدالله بن اباض.
ب. جابر بن زيد.
د. عبدالله بن يحيي.

5. المدينة التي افتخر بها الاحنف بن قيس في مقولته " نحن اكثر ساجا وعاجا وديباجا ونهرا عجاجا " :

أ. البصرة ب. الكوفة ج. صنعاء د. خراسان

6. قدم جابر بن زيد الى البصرة ينهل من علمها في منتصف القرن الهجري :

أ. الاول ب. الثاني ج. الثالث د. الرابع

7. صاحب مقولة " لان اتصدق بدرهم على يتيم احب الي من حجة بعد حجة الاسلام " هو :

أ. الاحنف بن قيس.
ج. عبدالله بن اباض.
ب. جابر بن زيد.
د. عبدالله بن يحيي.

8. العالم الذي عرف ب " عالم البصرة والعراق " واعلم اهل الارض بين معاصريه :

أ. الاحنف بن قيس.
ج. عبدالله بن اباض.
ب. جابر بن زيد.
د. عبدالله بن يحيي.

9. احد علماء حضرموت واليمن الملقب ب " طالب الحق " واعاد الاستقرار الى حضرموت :

أ. الاحنف بن قيس.
ج. عبدالله بن اباض.
ب. جابر بن زيد.
د. عبدالله بن يحيي.

10. القائد العماني الذي كان صمام الامن والامان لأهل البصرة حتى سميت باسمه :

- أ. عبد الملك بن المهلب.
ب. جابر بن زيد.
ج. المهلب بن ابي صفرة.
د. الربيع بن حبيب.

11. الحاضرة التي عرفت باسم " بصرة المهلب " لكونه صمام الامن والامان لأهلها :

- أ. حضرموت
ب. البصرة
ج. صنعاء
د. خراسان

12. اصبحت اهم ميادين سيادة ازد عمان في المشرق بعد نزول المهلب بن ابي صفرة بها في العصر الاموي :

- أ. حضرموت
ب. البصرة
ج. صنعاء
د. خراسان

13. الاقليم المعروف ب "بلاد المغرب " وانتشرت فيه آراء الامام جابر بن زيد :

- أ. خراسان
ب. شمال افريقيا
ج. عمان
د. حضرموت واليمن

14. وصل فكر المذهب الاباضي الى شمالي افريقيا نهاية القرن الاول الهجري على يد :

- أ. عبد الملك بن المهلب.
ب. جابر بن زيد.
ج. المهلب بن ابي صفرة.
د. سلمة بن سعد الحضرمي.

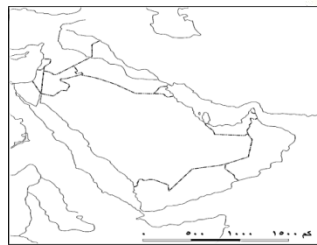
15. الاسم الذي اطلق على اقليم جنوب الصحراء الافريقية من البحر الاحمر وحتى سواحل المحيط الاطلسي بلاد :

- أ. المغرب
ب. العرب
ج. السودان
د. الشام

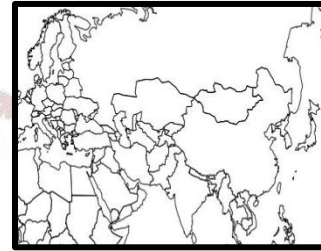
16. تدل الكلمات التالية (الجود والعطاء عن كرم وسخاء مع المساهلة) على قيمة :

- أ. العدل
ب. المساواة
ج. المودة
د. التسامح

17. الخريطة التي تشير الى بلاد السودان هي:



ب.



أ.



د.



ج.

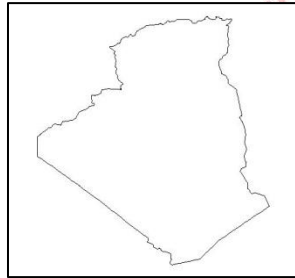
17. خريطة الاقليم الشرقي لبلاد السودان هي:



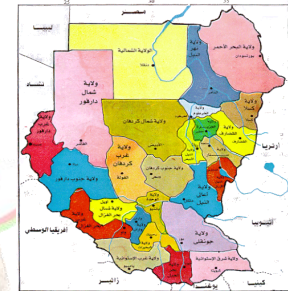
ب.



أ.



د.



ج.

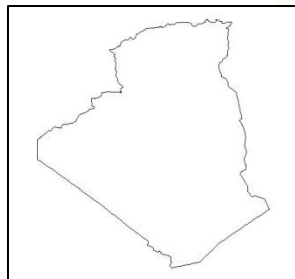
17. خريطة الاقليم الاوسط لبلاد السودان هي :



ب.



أ.



د.



ج.

السؤال الثاني:

1. " أصبحت البصرة من اهم الحواضر والامصار في الدولة منذ تمصيرها سنة 14 هـ " علي ذلك.
2. اعط نتيجة ترتبت على زيادة ثراء البصرة وتعدد خيراتها.
3. فسري ظهور واشتهار العديد من العلماء والفقهاء في البصرة.

4. ما أهمية :

البصرة لجابر بن زيد	الامام جابر بن زيد للبصرة

5. اعط امثلة لأشهر تلاميذ جابر بن زيد.

6. " تعرضت منطقة الجنوب الغربي من شبه الجزيرة العربية لظروف صعبة خلال العصر الاموي " ما النتائج المترتبة على ذلك ؟

الاجابية	السلبية

7. دلي على دور " طالب الحق " عبدالله بن يحيى في عامي : " بذكر اهم الانجازات "

129 هـ :

130 هـ :

8. ما موقف الامويين من الانجازات التي حققها طالب الحق.

9. وضحي الآثار الانسانية والاجتماعية التي تركها طالب الحق في تاريخ حضرموت واليمن.

10. كيف ارتبط اهل عمان بالفكر المعتدل والمستقيم لجابر بن زيد؟

11. اذكرى العوامل التي ادت الى ارتباط اهل عمان بفكر الاعتدال والتسامح منذ البداية.

12. دلي على اعتماد اهل خراسان على فكر جابر وآراؤه.

13. فسري تبدل احوال خراسان سنة 102 هـ .

14. فسري وصول افكار جابر بن زيد وآراؤه الى سواحل المحيط الهندي.

15. دللي على نجاح اهالي شمال افريقيا في تأسيس دول على نهج الفكر المعتدل لاتباع وتلاميذ الامام جابر بن زيد.

16. اعط امثلة لمراكز الفكر الاباضي المعتدل في شمالي افريقيا في القرنين الثالث والرابع الهجريين.

17. ما المقصود ببلاد السودان؟

18. استخرجي السمات التي التزمت بها مدرسة جابر بن زيد في مسيرتها التاريخية الطويلة من التالي :

أ. قال تعالى : " لا نفرق بين احد من رسله " .

ب. قال تعالى : " ادفع بالتي هي احسن فاذا الذي بينك وبينه عداوة كأنه ولي حميم " .

ج. قال رسول الله صلى الله عليه وسلم : " احب الدين الى الله الحنيفية السمحاء " .

19. اعط نتيجة ترتبت على السلوكيات الاخلاقية في انتشار افكارها بين كافة الاجناس وشتى البينات.

20. قارني بين التسامح في :

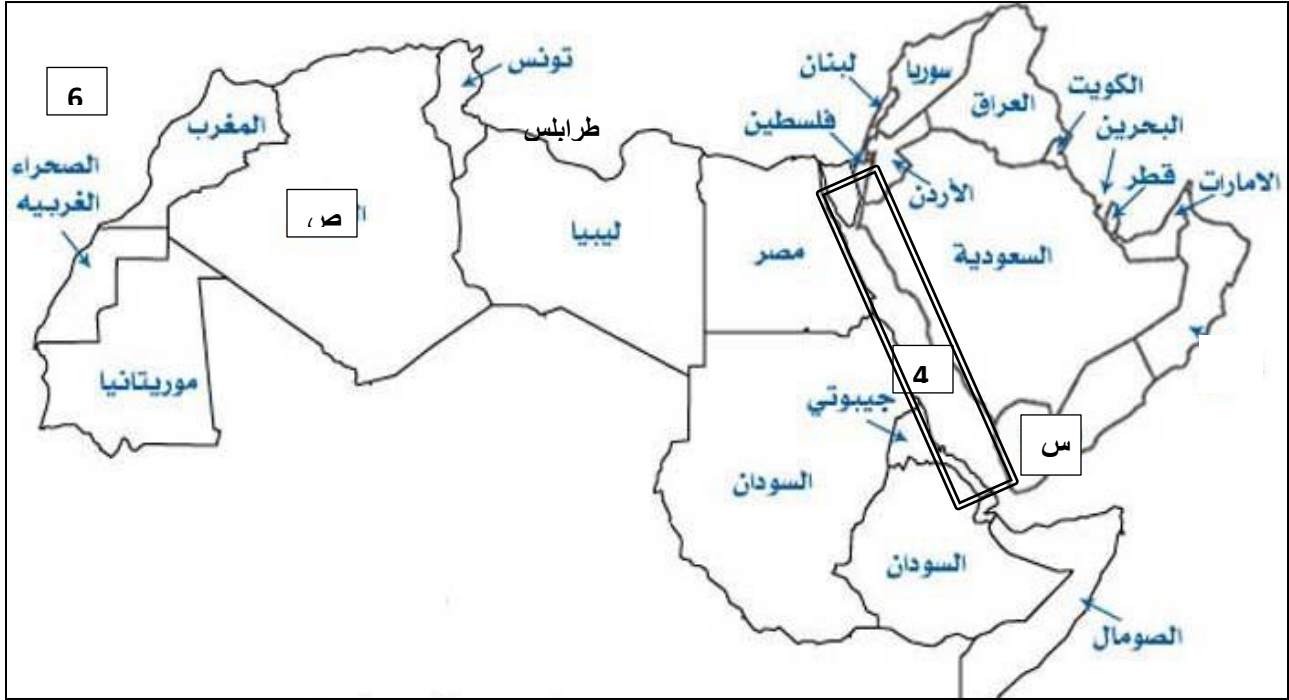
التسامح		
المفهوم الديني		اللغة

21. من انا ؟ " زعيم قبيلة تميم بالبصرة في منتصف القرن الاول الهجري "

ملتزمون بتحقيق رؤيتنا , الإجابة في موادنا

السؤال الثالث :

ادرسى الخريطة التالية واجيبى عن الآتى:



1. وقعي على الخريطة اسم الدولة التي ولد فيها الامام جابر بن زيد.
2. استخرجي الرمز الذي يشير الى الاقليم الذي انتشرت فيها آراء الاباضية في الجنوب الغربي من شبه الجزيرة العربية.
3. ضعي دائرة حول مركز الدولة الاباضية في شمالي افريقيا عام 140هـ .
4. استنتجي الجهة الرئيسية التي يحدها المسطح المائي المحاط بمستطيل على الخريطة لبلاد السودان.
5. استخرجي رقم المسطح المائي الذي يحده بلاد السودان من جهة الغرب.
6. ظللي اقاليم بلاد السودان حسب التالي:
 أ. الشرقي " الاحمر " .
 ب. الاوسط " الاخضر " .
 ج. الغربي " الاصفر " .
 اجابة النشاط " 3 " في الكتاب المدرسي ص 19 .
 " أ " ادب الحوار: هو الحوار الذي يقوم على مبدأ المجادلة الحسنة ويؤسس لاحترام الرأي والرأي الآخر.

الغلاة: مصدر من الغلو في الدين وهو مجاوزة حد الاعتدال والتوسط الى التشدد والتطرف وقد نهى الله تعالى عن ذلك في قوله : " قل يا أهل الكتاب لا تغلوا في دينكم غير الحق ولا تتبعوا أهواء قوم قد ضلوا من قبل وأضلوا كثيرا وضلوا عن سواء السبيل "

من امثلة هؤلاء الغلاة الازارقة والنجداث.

بصرة المهلب: هو الاسم الذي اطلق على البصرة بعد محاربة المهلب بن ابي صفرة للخوارج وتصفيتهم من البصرة.

" ب " - ابتعادهم عن الفتن التي تعرضت لها الدولة منذ عصر الخلفاء الراشدين.

- محاربتهم للغلاة من الازارقة والنجداث.

- توفير الامن والاستقرار للمجتمعات التي عاشوا فيها وتعاملوا مع اهلها.

- دور المهلب في توفير الامن والامان لأهل البصرة.

اجابة النشاط " 2 " ص 17 في الكتاب المدرسي.

" 1 " الحسن: هو الحسن بن ابي الحسن بن يسار البصري ولد بالمدينة المنورة سنة 21هـ / 642هـ ونشأ في وادي القرى ثم انتقل الى البصرة وروى عن عدد كبير من اهل بدر واكثر مروياته عن انس بن مالك .

ابن سيرين : هو ابو بكر محمد بن سيرين التابعي وامام التفسير والحديث وافقه وتعبير الرويا توفي سنة 110هـ وكان عمره نيفا وثمانين سنة.

ابن عباس: هو عبدالله بن عباس بن عبد المطلب بن هاشم بن مناف ابن عم رسول الله صلى الله عليه وسلم ولد قبل الهجرة بثلاث سنوات وكان يلقب بالحبر لكثرة علمه كما لقب بترجمان القرآن .

حلقة بجامع البصرة: عبارة عن التفاف الطلاب حول شيخهم والمقصود هنا الامام جابر بن زيد عندما كان يجلس للفتوى.

" 2 " دور جابر في الحياة العامة للبصرة:

- السعي الى المصلحة والاجابة عن اسئلة المستفسرين في امور الدين والدنيا.

- الارتباط بقضايا الناس وهمومهم.


- مراقبة العملة المزيفة ومقاومة تداولها.

- مساعدة المحتاجين من الناس. **نؤمن بتحقيق رؤيتنا , الإجابة في موادنا**

الازارقة : اتباع نافع بن الازرق الحنفي المكنى بأبي راشد ولم تكن للخوارج قط فرقة اكثر عددا ولا اشد منهم شوكة وزعم نافع واتباعه ان دار مخالفهم دار كفر ويجوز فيها قتل الاطفال والنساء.

النجداث: اتباع نجدة بن عامر الحنفي وكان السبب في رناسته وزعامته ان نافع بن الازرق لما اظهر البراءة من القعدة عنه بعد ان كانوا على رأيه وسماهم مشركين واستحل قتل اطفال مخالفيه ونسائهم وفارقه ابو فديك وعطية الحنفي وراشد الطويل ومقلاص وغيرهم وذهبوا الى اليمامة فاستقبلهم نجدة بن عامر في جند من الخوارج يريدون للحاق بعسكر نافع فاخبروهم بأحداث نافع وردوهم الى اليمامة وبايعوا بها نجدة بن عامر.

البربر: سكان بلاد المغرب وهو اسم اطلقه الرومان عليهم لانهم كانوا يعتبرونهم غرباء على حضارتهم وينقسم البربر الى طائفتين : الحضر الذين يسكنون المناطق الخصبة ويشتغلون بالزراعة والصناعة . والبربر الذين يسكنون الصحاري ويعيشون على الرعي . دخلوا الاسلام بعد فتح المغرب وكان لهم دور كبير في فتح الاندلس ومن اشهر قبائلهم صنهاجة وزناتة وكتامة.



عنوان الوحدة: عمان خلال القرون الثلاثة الاولى من الهجرة
عنوان الدرس: الحياة الثقافية والاجتماعية والاقتصادية.

الفصل الدراسي الثاني

السؤال الاول : اختاري الاجابة الصحيحة من بين البدائل المعطاة:

1. اول كتاب الفقه العمانيين في الفقه هو:

أ. الكامل في اللغة والادب ب. الجماهرة ج. ديوان جابر بن زيد د. معجم العين

2. ابرز العلماء العمانيين في مجال اللغة خلال القرن الثاني الهجري:

أ. جابر بن زيد. ب. الخليل بن احمد.

ج. ابو بكر محمد. د. الربيع بن حبيب.

3. صاحب كتاب " الجماهرة " هو:

أ. جابر بن زيد. ب. الخليل بن احمد.

ج. ابو بكر محمد. د. المبرد.

4. صاحب كتاب " الكامل في اللغة والادب " هو:

أ. جابر بن زيد. ب. الخليل بن احمد.

ج. ابو بكر محمد. د. المبرد.

5. اشهر اعلام عمان في مجال " الفقه " خلال القرون الثلاثة الاولى من الهجرة:

أ. جابر بن زيد. ب. الخليل بن احمد.

ج. الربيع بن حبيب. د. جعفر بن السماك.

6. اشهر اعلام عمان في مجال " اللغة " خلال القرون الثلاثة الاولى من الهجرة:

أ. جابر بن زيد. ب. الخليل بن احمد.

ج. الربيع بن حبيب. د. جعفر بن السماك.

7. اشهر اعلام عمان في مجال " الحديث " خلال القرون الثلاثة الاولى من الهجرة:

أ. جابر بن زيد. ب. الخليل بن احمد.

ج. الربيع بن حبيب. د. جعفر بن السماك.

8. انشأ بيت مال خاص بالاباضية في البصرة :

أ. جابر بن زيد. ب. ابو عبيدة مسلم بن ابي كريمة.

ج. الربيع بن حبيب. د. عبدالله بن اباض.

9. المركز الرئيسي للتجارة البحرية مع بلاد الهند والشرق الاقصى وافريقيا عند الاباضية :

أ. حضرموت واليمن ب. خراسان ج. عمان د. العراق

10. تشير المصادر الى ان اول رحلة بحرية عمانية الى الصين خلال النصف الاول من القرن الهجري الثاني قام بها:

أ. جابر بن زيد. ب. ابو عبيدة مسلم بن ابي كريمة.

ج. ابو عبيدة عبدالله بن القاسم. د. الحر علي بن الحصين.

11. العالم الذي ذكر في كتابه " معجم البلدان " بان " قلهاة " مرفأ لأكثر سفن الهند :

أ. ابن حوقل. ب. المقدسي.

ج. الاصطخري. د. ياقوت الحموي.

12. العالم الذي ذكر ان " صحار " قصبة عمان وتقع على البحر وبها من التجارة والتجار ما لا يحصى :

أ. ابن حوقل. ب. المقدسي.

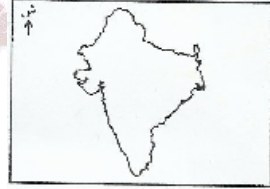
ج. الاصطخري. د. ياقوت الحموي.

13. العالم الذي ذكر ان " صحار " مدينة طيبة الهواء كثيرة الخيرات والفاكهة ولها اسواق عجيبة:

أ. ابن حوقل. ب. المقدسي.

ج. الاصطخري. د. ياقوت الحموي.

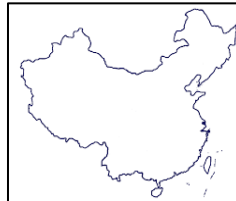
14. خريطة الدولة التي كان للعانيين دور كبير في نشر الاسلام فيها في الشكل المقابل هي :



أ. الصين ب. العراق

ج. بلاد فارس د. الهند

15. تشير الخريطة الى الدولة التي كان للنضر بن ميمون دور كبير في نشر الاسلام فيها:



أ. الصين ب. العراق

ج. بلاد فارس د. الهند

السؤال الثاني:

1. دلي على اهتمام العمانيون بالتأليف.
2. امامك مجموعة من المؤلفات العمانية في العلوم الدينية وفي اللغة وآدابها صنفها الى علماتها (الجمهرة / ديوان جابر بن زيد / الروضة / معجم العين / الاشتقاق / الكامل في اللغة والادب / المقتضب)

الميرد	ابو بكر محمد بن الحسن	الخليل بن احمد	جابر بن زيد

3. ارسمي جدولاً بأشهر العلماء العمانيين على ان يشمل:

العلماء	الفترة الزمنية	القرن الهجري	اشهر المؤلفات

4. دلي على اهتمام العمانيون بالمدارس العلمية منذ دخولهم الاسلام.

5. " لا يختلف المجتمع العماني عن غيره من المجتمعات الاسلامية " فسري العبارة.

6. برهني على روح التكافل والتعاون بين افراد المجتمع العماني.

7. " لم يكن الداعية الاباضي ابو الحر علي بن الحصين متعاوناً مع افراد مجتمعة "

موافق ☐ غير موافق ☐

الدليل:

8. " سادت الاخلاق الحميدة افراد المجتمع الاباضي " وضح.

9. " اهتم الائمة الاباضية بالمرأة والاسرة اهتماما كبيرا " دلي.

10. برهني على اهتمام علماء الاباضية بالنواحي الاقتصادية منذ بداية دعوتهم .

11. ما الانشطة الاقتصادية التي اهتم بها علماء المذهب الاباضي ؟

12. " ازدهرت الزراعة وتنوعت حاصلاتها زمن الاباضية "

في ضوء العبارة اجيبي عن الآتي:

أ. ما عوامل ازدهار الزراعة؟

ب. اعط نتيجة ترتبت على تنوع الاقاليم المناخية.

13. فسري توجه العمانيون نحو البحر منذ القدم.

14. اعط امثلة للسلع التي تاجر بها العمانيون قديما.

15. " برهني على ارتباط الاسلام بالتجارة.

16. ارسمي جدول بأشهر التجار العمانيين خلال القرون الثلاثة الاولى من الهجرة:

انجازاتهم		

17. اعط نتيجة ترتبت على توسع العمانيين في النشاط البحري.

18. اذكر اشهر المدن العمانية التي كانت محط انظار الرحالة الجغرافيين.

19. امامك مجموعة من الصناعات المعدنية والصناعات القائمة على الانتاج الزراعي والحيواني صنفها في الجدول (

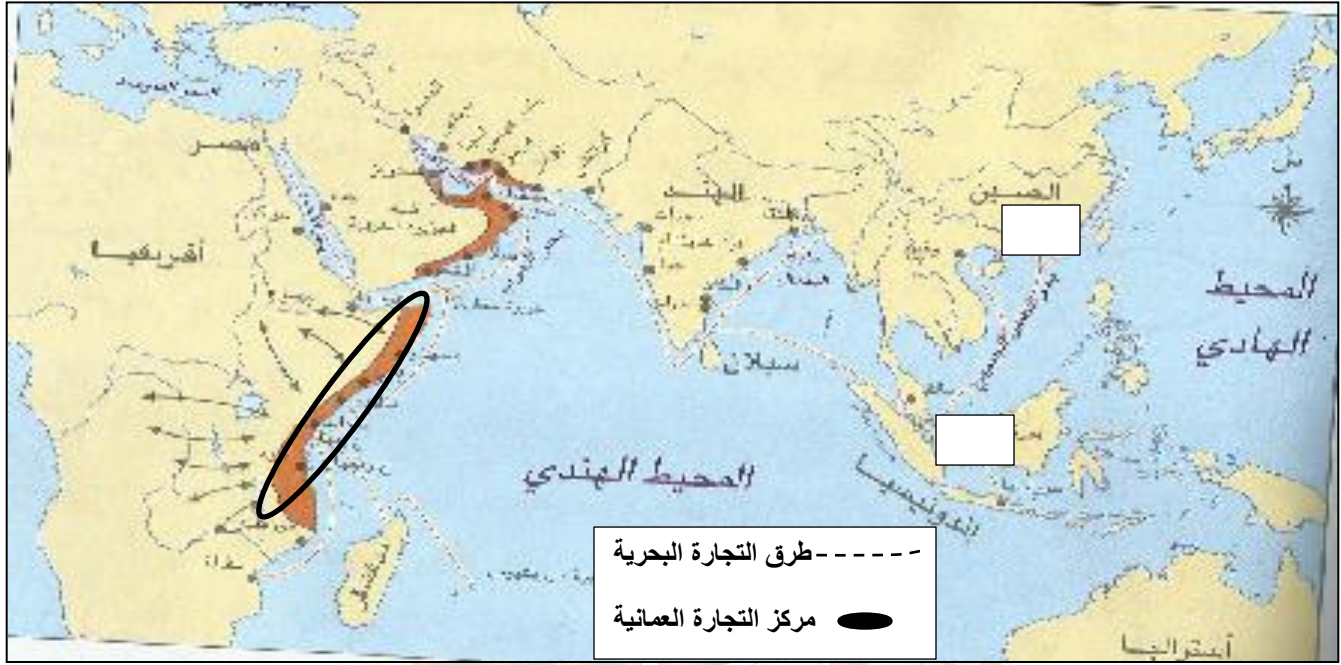
النحاس / الجلود / الفخار / الفضة / ادوات الزينة / المنتجات القطنية / الاواني النحاسية / الغزل والنسيج / الحديد / الصناعات السعفية)

ملتزمون بتحقيق رؤيتنا , الإجابة في موادنا

المعدنية	الزراعية والحيوانية

السؤال الثالث:

ادرسى الخريطة التالية واجيبى عن الآتى:



1. استنتجى النشاط الاقتصادي الذي تشير اليه الخريطة.
2. ضعي الرمز "س" في المربع المناسب على الخريطة والذي يشير الى الميناء الذي وصل اليه ابو عبيدة عبدالله بن القاسم عام 133هـ .
3. استخرجى من الخريطة الدولة التي كان للنضر بن ميمون دور كبير في نشر الاسلام فيها.
4. سمى المنطقة المحاطة بشكل اسطواني والتي كان للعمانيين دور في نشر الاسلام فيها.

ملتزمون بتحقيق رؤيتنا , الإجابة في موادنا

الصف: العاشر
الفصل الدراسي الثاني

عنوان الوحدة: مشكلات واطار بيئية
عنوان الدرس: الاحتباس الحراري.

السؤال الاول : اختاري الاجابة الصحيحة من بين البدائل المعطاة:

1. تصل النسبة المئوية لغاز الاكسجين في الغلاف الجوي:

- أ. 11 ب. 21 ج. 31 د. 41

2. تصل النسبة المئوية لغاز النيتروجين في الغلاف الجوي:

- أ. 68 ب. 78 ج. 88 د. 98

3. تصل النسبة المئوية لبقية الغازات في الغلاف الجوي:

- أ. 1 ب. 2 ج. 3 د. 4

4. الغاز الذي تصل نسبته المئوية " 21 " في الغلاف الجوي:

- أ. النيتروجين ب. الكربون ج. الاكسجين د. ثاني اكسيد الكربون

5. الغاز الذي تصل نسبته المئوية " 78 " في الغلاف الجوي:

- أ. النيتروجين ب. الكربون ج. الاكسجين د. ثاني اكسيد الكربون

6. الغاز الذي تصل نسبته المئوية " 1 " مشتركا مع غازات اخرى في الغلاف الجوي:

- أ. النيتروجين ب. الكربون ج. الاكسجين د. الهليوم

7. المصدر الرئيسي الذي يمد الارض بالحرارة هو:

- أ. النفط ب. الغاز الطبيعي ج. الفحم د. الشمس

8. ظلت درجة الحرارة ثابتة على كوكب الارض منذ مطلع التسعينات بالدرجة السيليزية حوالي:

- أ. 10 ب. 15 ج. 20 د. 25

9. زادت درجة الحرارة على كوكب الارض منذ مطلع التسعينات وحتى ما يقارب عقدين من الزمان (2010 م) بالدرجة السيليزية حوالي:

- أ. نصف ب. درجة ج. درجة ونصف د. درجتان

11. يتوقع ان تصل درجة الحرارة على كوكب الارض حتى عام " 2075 م " بالدرجة السيليزية حوالي:

- أ. (1 - 1.5) ب. (1.5 - 2) ج. (1.5 - 3.5) د. (1.5 - 4.5)

12. تصل النسبة المئوية لغاز ثاني اكسيد الكربون بين الغازات المساهمة في زيادة الاحتباس الحراري في الغلاف الجوي حوالي:

- أ. 5 ب. 10 ج. 13 د. 72

13. تصل النسبة المئوية لغاز الميثان بين الغازات المساهمة في زيادة الاحتباس الحراري في الغلاف الجوي حوالي:

- أ. 5 ب. 10 ج. 13 د. 72

14. تصل النسبة المئوية لغاز النيتروجين بين الغازات المساهمة في زيادة الاحتباس الحراري في الغلاف الجوي حوالي:

- أ. 5 ب. 10 ج. 13 د. 72

15. تصل النسبة المئوية لغاز الكلورفلوركاربون بين الغازات المساهمة في زيادة الاحتباس الحراري في الغلاف الجوي حوالي:

- أ. 5 ب. 10 ج. 13 د. 72

16. الغاز الذي تصل نسبته المئوية بالنسبة للغازات المسببة في ارتفاع غازات الاحتباس الحراري في الغلاف الجوي حوالي " 5% " هو :

- أ. ثاني اكسيد الكربون ب. الميثان ج. النيتروجين د. الكلورفلوركاربون
17. الغاز الذي تصل نسبته المئوية بالنسبة للغازات المسببة في ارتفاع غازات الاحتباس الحراري في الغلاف الجوي حوالي " 72% " هو :

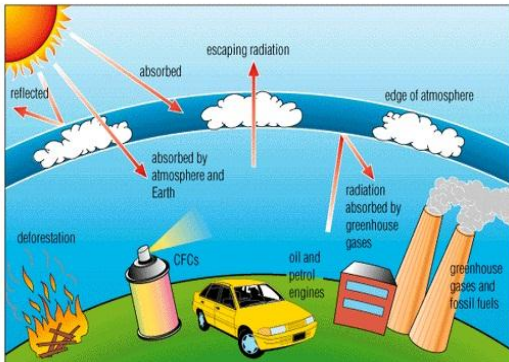
- أ. ثاني اكسيد الكربون ب. الميثان ج. النيتروجين د. الكلورفلوركاربون
18. الغاز الذي تصل نسبته المئوية بالنسبة للغازات المسببة في ارتفاع غازات الاحتباس الحراري في الغلاف الجوي حوالي " 13% " هو :

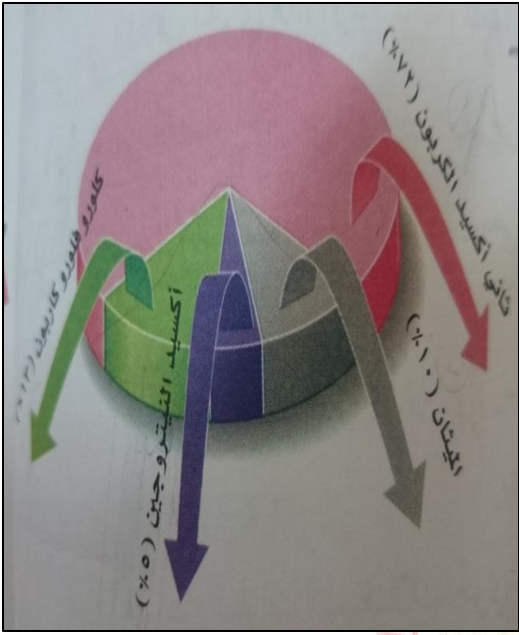
- أ. ثاني اكسيد الكربون ب. الميثان ج. النيتروجين د. الكلورفلوركاربون
19. الغاز الذي تصل نسبته المئوية بالنسبة للغازات المسببة في ارتفاع غازات الاحتباس الحراري في الغلاف الجوي حوالي " 10% " هو :

- أ. ثاني اكسيد الكربون ب. الميثان ج. النيتروجين د. الكلورفلوركاربون

20. يشير الشكل التالي الى احدى المشكلات البيئة وهي:

- أ. التصحر ب. الاحتباس الحراري
ج. استنزاف الموارد د. الاعاصير





21. الغاز الذي يسهم بنسبة كبيرة في زيادة غازات الاحتباس الحراري من خلال الشكل التالي هو:

- أ. الميثان
ب. ثاني أكسيد الكربون
ج. الكلورفلوروكربون
د. النيتروجين

22. الغاز الذي يسهم بنسبة قليلة في زيادة غازات الاحتباس الحراري من خلال الشكل التالي هو:

- أ. الميثان
ب. ثاني أكسيد الكربون
ج. الكلورفلوروكربون
د. النيتروجين

23. تقع طبقة الأوزون التي تأثرت بالأنشطة البشرية التي ساهمت في زيادة مشكلة الاحتباس الحراري من خلال الشكل هي:

- أ. الاستراتوسفير
ب. التروبوسفير
ج. الأيونوسفير
د. الميزوسفير

24. الطبقة الجوية التي تحدث فيها كافة الأنشطة البشرية وتعيش فيها الكائنات الحية من خلال الشكل هي:

- أ. الاستراتوسفير
ب. التروبوسفير
ج. الأيونوسفير
د. الميزوسفير

25. فكرة البيوت الزجاجية التي تشير إليها الصورة يمكن ان تسمى ب :

- أ. التلوث البيئي
ب. الاحتباس الحراري
ج. استنزاف الطاقة
د. توفير الطاقة



السؤال الثاني: اجبني عن الاسئلة التالية:

1. برهني على قدم التفاعل بين الانسان والبيئة على سطح الارض.
2. ما نتائج ارتباط الزيادة السكانية السريعة ورغبة الانسان في اشباع حاجاته البشرية؟
3. " نسي الانسان انه عنصر مكمل لعناصر البيئة الاخرى " وضح.
4. ارسمي خريطة مفاهيم بالمشكلات البيئية التي سببها الانسان.
5. " تعد الشمس المصدر الرئيسي الذي يمد الارض بالحرارة " وضح.
6. اربطي بين فكرة عمل البيوت الزجاجية وغازات الاحتباس الحراري.
7. استنتجي تعريف مفهوم الاحتباس الحراري من فكرة البيوت الزجاجية التي يشير اليها الشكل التالي:



8. برهني على اهمية الاحتباس الحراري كظاهرة طبيعية للإنسان.

9. " ان الاحتباس الحراري في حد ذاته ظاهرة طبيعية وضرورة حيوية لاستمرار الحياة على سطح الارض "

○ موافق ○ ملتزمون بتحقيق رؤيتنا ○ غير موافق

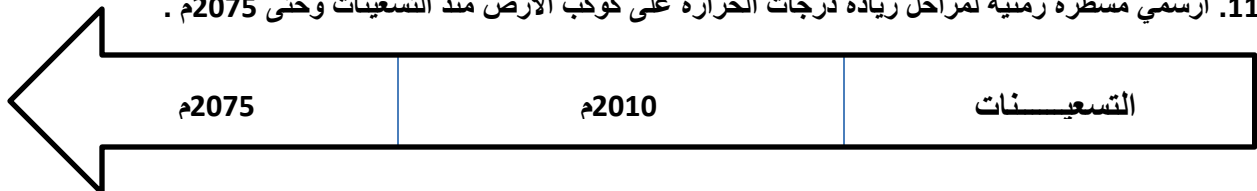
التفسير:

.....

.....

10. " للاحتباس الحراري دور في عملية التوازن الحراري للكرة الارضية " وضح ذلك.

11. ارسمي مسطرة زمنية لمراحل زيادة درجات الحرارة على كوكب الارض منذ التسعينات وحتى 2075 م .



12. ما السبب الرئيسي لارتفاع درجات الحرارة على كوكب الارض حسب تقدير العلماء؟

13. فسري ارتفاع نسبة غازي ثاني اكسيد الكربون والميثان في الغلاف الجوي.

14. فسري ارتفاع تركيز غازات الاحتباس الحراري في الجو.

15. اعط نتيجة ترتبت على الارتفاع المستمر لنسب غازات الاحتباس الحراري في الجو على مناخ الارض.

16. " يتوقع علماء البيئة ارتفاع حرارة سطح الارض سيؤدي الى مضاعفات ومشكلات بيئية كبيرة على سطح الارض "

غير موافق ☒

موافق ☐

الدليل:

.....
.....

17. اقترحي الطرق والوسائل والتدابير المتبعة لحماية كوكب الارض من زيادة الغازات الضارة في الغلاف الجوي " في ضوء دراستك لموضوع الاحتباس الحراري " .

18. يشير الشكل الذي امامك الى مشكلة الاحتباس الحراري.



لا ☐

نعم ☐

السبب :

.....

.....



18. ادرسي الشكل التالية واجيبي عن الاتي:

أ. ماذا يمثل الشكل الذي امامك؟

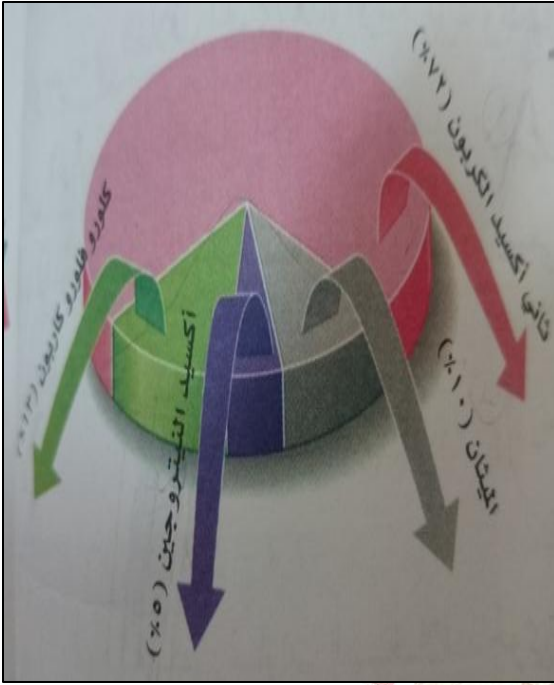
.....

ب. استنتجي فكرة الشكل امامك مع التوضيح.

.....

.....


ج. ماذا نسمي ذلك؟



19. ادرسي الشكل التالي واجيبي عن الآتي:

- ضعي عنوانا مناسباً للشكل.
- استخرجي الغازات الموجودة بالشكل.
- ما الغاز الذي يسهم بدرجة كبيرة في زيادة الاحتباس الحراري؟
- ما الغاز الذي يسهم بدرجة قليلة في زيادة الاحتباس الحراري؟
- رتبي الغازات الموجودة في الشكل ترتيباً تنازلياً.
- كم يصل اجمالي النسبة المئوية للغازات الموجودة في الشكل؟
- احسبي الفرق بين غازي ثاني اكسيد الكربون والنتروجين.
- احسبي مجموع غازي الميثان والكلورفلوركربون.
- حولي البيانات الواردة في الشكل الى اعمدة بيانية.

20. ادرسي الشكلين التاليين واجيبي عن الآتي:



الشكل " 2 "

الشكل " 1 "

1. قارني بين الشكلين من حيث:

وجه المقارنة	الشكل " 1 "	الشكل " 2 "
ما تشير اليه الصورة		
مصدر الحرارة / وغازات الاحتباس الحراري		

21. ما الجوانب الايجابية المشتركة للطرق والوسائل المتبعة لحماية كوكب الارض من من زيادة الغازات الضارة في الغلاف الجوي من واقع البيانات الاحصائية؟

22. لو كنت احد المسؤولين عن حماية البيئة العمانية وكوكب الارض وتم اختيارك لوضع بعضا من الحلول للتقليل من الآثار السلبية لمشكلة الاحتباس الحراري.

ما الطرق والوسائل والتدابير المتبعة لحماية كوكب الارض من زيادة الغازات الضارة في الغلاف الجوي " في ضوء دراستك لموضوع الاحتباس الحراري " .

23. ادرسي الخبر الصحفي التالي واجيبي عن الآتي:

آثار كارثية نتيجة ارتفاع حرارة الارض

لندن. ا.ف.ب: دقت جمعيات خيرية واخرى لحماية البيئة ناقوس الخطر بشأن الآثار الكارثية المقبلة على السكان الأكثر فقرا في العالم نتيجة ارتفاع حرارة الارض وذلك في تقرير نشر امس في لندن. وقال التقرير ان ارتفاع حرارة الارض بسبب استخدام كثيف للطاقة من مصادر عضوية يقف وراء الفيضانات والجفاف والاعاصير العنيفة التي تهدد الحياة

واعد التقرير اندرو سيمز مدير المؤسسة من اجل اقتصاد جديد في بريطانيا، لحساب المنظمات الـ ١٧ منها اصدقاء الارض ومنظمة غرينبيس والصندوق العالمي للطبيعة حسبما ذكرت هيئة الاذاعة البريطانية (بي بي سي) وقال التقرير ان الهدف الدولي للقضاء على الفقر بحلول ٢٠١٥ لن يتحقق في حال لم تتخذ تدابير جذرية لتغيير الاوضاع.

(جريدة الوطن، ٢١/١٠/٢٠٠٤م)

أ. استنتجي مصدر الخبر.

ب. ما المشكلة البيئية التي يرتبط بها الخبر الصحفي.

ج. ما العلاقة بين المشكلة التي يتناولها الخبر والفيضانات والاعاصير التي تحدث في العالم؟

ملتزمون بتحقيق رؤيتنا ، الإجابة في موادنا

اجابة النشاط " 1 " في الكتاب المدرسي ص 31.

* تضم الطبقة السفلى حوالي 90% من وزن الغلاف الجوي تحدث فيها معظم الظواهر الجوية من غيوم وامطار ورياح ...

* تتميز الطبقة الوسطى باحتوائها على طبقة الاوزون التي تقع على ارتفاع يتراوح بين " 25 و 40 كم ".

* تمتص طبقة الاوزون غالبية الاشعة ما فوق البنفسجية التي تضر بالاجسام الحية وتسبب بعض الاموراض الخبيثة فلا يصل منها الى سطح الارض سوى جزء قليل جدا.

* تخترق اشعة الشمس الطبقة العليا من الغلاف الجوي حيث تتوافر شحنات كهربائية ومغناطيسية ناتجة عن اختراق اشعة الشمس له فتتشكل ظاهرة الشفق القطبي المتعدد الالوان من اخضر واصفر ووردي. تختص المناطق القطبية بهذه الظاهرة التي قد تستمر لبضع لحظات واحيانا لعدة ساعات.

الصف: العاشر

عنوان الوحدة: مشكلات واطار بيئية

الفصل الدراسي الثاني

عنوان الدرس: التصحر.

السؤال الاول : اختاري الاجابة الصحيحة من بين البدائل المعطاة:

1. يشير " تدهور خصوبة الاراضي المنتجة بسبب العوامل الطبيعية والبشرية مما يؤدي الى نشوء اوضاع صحراوية " الى مفهوم:

أ. التصحر ب. الاحتباس الحراري ج. التلوث د. الاعاصير

2. المناطق الاكثر عرضة لظاهرة التصحر هي تلك التي تقع بمحاذاة :

أ. السواحل ب. السهول ج. الجبال د. الصحاري

3. العامل الطبيعي الذي يؤدي الى تخلخل النظام البيئي بسبب تعاقب فترات جافة وفترات مطيرة هو:

أ. التغيرات المناخية ب. قلة الغطاء النباتي ج. انجراف التربة د. تدهور خصوبة التربة

4. العامل الطبيعي الذي يعتبر من اهم العوامل الطبيعية المسببة للتصحر بفعل الرياح والمياه الجارية هو:

أ. التغيرات المناخية ب. قلة الغطاء النباتي ج. انجراف التربة د. تدهور خصوبة التربة

5. العامل الطبيعي الذي يؤدي قلة وجوده الى التقليل من عملية النتج والتبخر مما يؤدي الى انجراف التربة هو:

أ. التغيرات المناخية ب. قلة الغطاء النباتي ج. انجراف التربة د. تدهور خصوبة التربة

6. العامل الطبيعي الناتج عن زيادة الاملاح نسبة الاملاح وانخفاض المواد العضوية في التربة بسبب الحرارة والامطار والرياح هو:

أ. التغيرات المناخية ب. قلة الغطاء النباتي ج. انجراف التربة د. تدهور خصوبة التربة

7. من العوامل الطبيعية المؤدية الى حدوث ظاهرة التصحر :

أ. الرعي الجائر ب. الاساليب الزراعية الخاطئة

ج. انجراف التربة د. زراعة الاراضي الهامشية

8. من العوامل البشرية المؤدية الى حدوث ظاهرة التصحر:

أ. التغيرات المناخية ب. قلة الغطاء النباتي

ج. انجراف التربة د. زراعة الاراضي الهامشية

9. الاقليم المناخي الاكثر انتشارا في الوطن العربي هو:

أ. الموسمي ب. شبه الصحراوي ج. الصحراوي د. المداري

10. تشكل المناطق الجافة وشبه الجافة من مساحة اليابسة حوالي:

- أ. الثلث ب. الربع ج. الخمس د. النصف

11. الدرجة الأكثر انتشارا في الوطن العربي حسب درجات المناطق الجافة هي :

- أ. الجافة ب. شبه الجافة ج. قليلة الجفاف د. شديدة الجفاف

12. النسبة المئوية لسكان الصحاري في المناطق الجافة وشبه الجافة حوالي:

- أ. 10 ب. 15 ج. 20 د. 25

13. النسبة المئوية لسكان الصحاري في المناطق شديدة الجفاف من إجمالي سكان العالم حوالي:

- أ. 1 ب. 27 ج. 72 د. 80

14. النسبة المئوية لسكان الصحاري في المناطق الجافة من إجمالي سكان العالم حوالي:

- أ. 1 ب. 27 ج. 72 د. 80

15. النسبة المئوية لسكان الصحاري في المناطق شبه الجافة من إجمالي سكان العالم حوالي:

- أ. 1 ب. 27 ج. 72 د. 80

16. الاقليم المناخي الأكثر انتشارا في الوطن العربي

من خلال الخريطة المقابلة هو:

- أ. الموسمي ب. شبه الصحراوي ج. الصحراوي د. المداري



17. تشير الصورة المقابلة الى مشكلة:

- أ. التصحر ب. الاحتباس الحراري ج. استنزاف الموارد د. التلوث





18. العامل البشري الذي تشير اليه الصورة المقابلة:

- أ. انجراف التربة
ب. الرعي الجائر
ج. قلة الغطاء النباتي
د. زراعة الاراضي الهامشية



19. العامل البشري الذي تشير اليه الصورة المقابلة:

- أ. انجراف التربة
ب. التغيرات المناخية
ج. الاساليب الخاطئة في الزراعة
د. زراعة الاراضي الهامشية



20. العامل الطبيعي الذي تشير اليه الصورة المقابلة:

- أ. انجراف التربة
ب. التغيرات المناخية
ج. الاساليب الخاطئة في الزراعة
د. زراعة الاراضي الهامشية

21. حالة التصحر الذي يحدث في المناطق الصحراوية بسبب صيفها الطويل قليل الامطار:

- أ. الطفيف
ب. المتوسط
ج. الشديد
د. الشديد جدا

22. حالة التصحر الذي يؤدي الى تناقص الانتاج النباتي بمقدار " 50% " وتوجد في المناطق التي تعاني من نقص الغطاء النباتي :

- أ. الطفيف
ب. المتوسط
ج. الشديد
د. الشديد جدا

23. حالة التصحر الذي تتحول المنطقة الى كثبان رملية مع تواجد طبقة ملحية وتصبح عملية الاستصلاح مكلفة اقتصاديا:

- أ. الطفيف
ب. المتوسط
ج. الشديد
د. الشديد جدا



23. حالة التصحر في الصورة المقابلة:

- أ. الطفيف
ب. المتوسط
ج. الشديد
د. الشديد جدا



24. حالة التصحر في الصورة المقابلة:

- أ. الطفيف
ب. المتوسط
ج. الشديد
د. الشديد جدا



25. حالة التصحر في الصورة المقابلة:

- أ. الطفيف
ب. المتوسط
ج. الشديد
د. الشديد جدا



26. تشير الصورة المقابلة الى احد الطرق المستخدمة لمكافحة التصحر وهي:

- أ. زراعة الاراضي الهامشية.
ب. مكافحة الرياح
ج. تخصيب التربة
د. بناء السدود

27. المحافظة العمانية التي عقد فيها المؤتمر الدولي للتصحر هي:

- أ. الباطنة
ب. مسقط
ج. ظفار
د. الداخلية

28. العام الميلادي الذي عقد فيه المؤتمر الدولي للتصحر في سلطنة عمان:

- أ. 2000
ب. 2001
ج. 2002
د. 2003

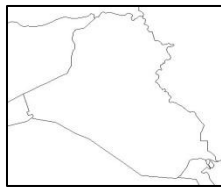
29. المؤتمر الدولي الذي عقد في عام 2002م في سلطنة عمان لمكافحة مشكلة:

- أ. الاحتباس الحراري
ب. التصحر
ج. استنزاف الموارد
د. التلوث

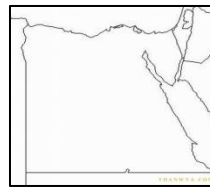
30. خريطة الدولة العربية التي عقد فيها المؤتمر الدولي للتصحر عام 2002م هي:



د.



ج.

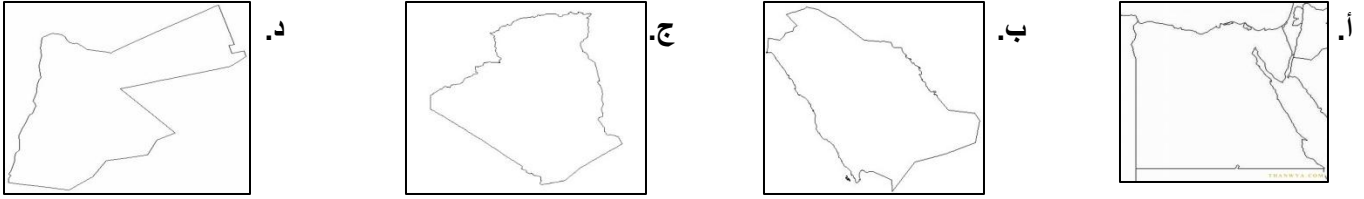


ب.



أ.

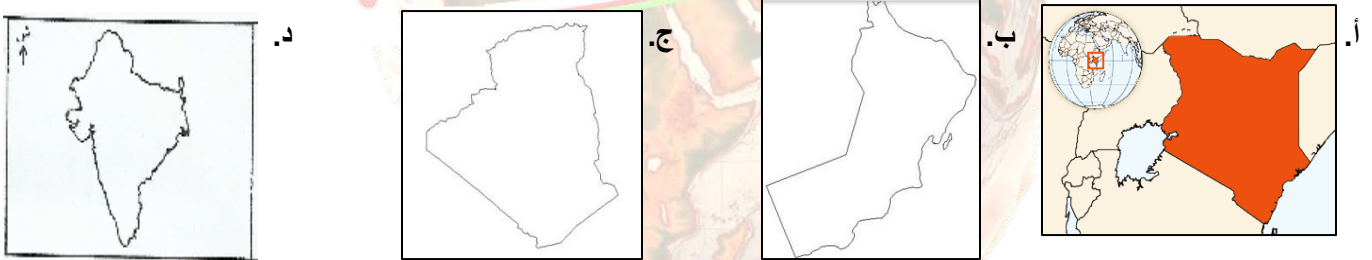
31. خريطة الدولة العربية التي استخدمت نظام " الفوجارات " لتوزيع المياه على الواحات كطريقة لمكافحة التصحر هي:



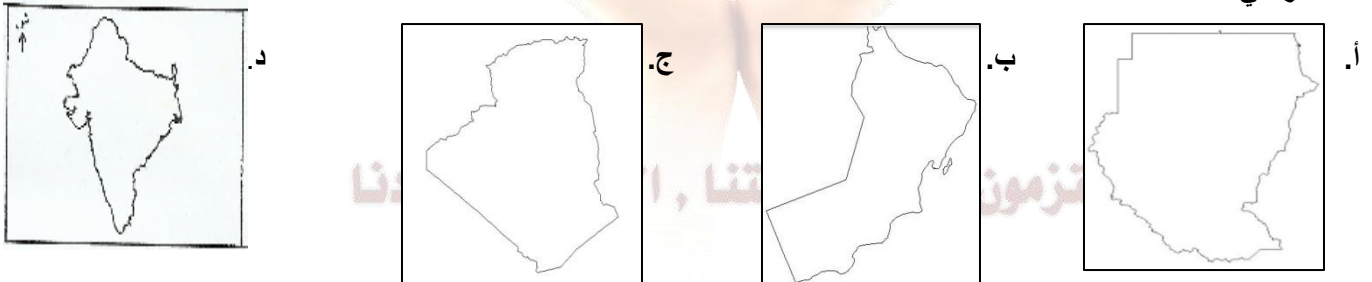
32. خريطة الدولة التي انشأت سدود ترابية لحفظ مياه الامطار والاستفادة منها في الزراعة كطريقة لمكافحة التصحر هي:



34. خريطة الدولة التي اعادت تأهيل ضفاف نهر ثوجي من خلال زراعة اشجار الخيزران التي تعمل على تثبيت التربة كطريقة لمكافحة التصحر هي:



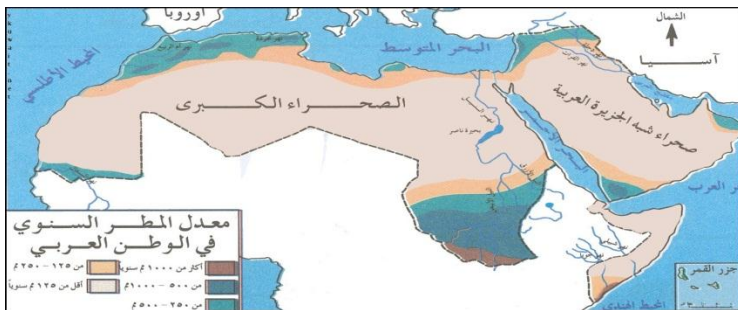
35. خريطة الدولة التي انشأت وحدة استشعار عن بعد ونظم المعلومات الجغرافية لمراقبة ظاهرة التصحر كطريقة لمكافحة التصحر هي:



36. تشير الخريطة المقابلة على صعيد الوطن العربي

من حيث المحتوى الى:

- أ. السكان
- ب. الاقاليم المناخية
- ج. الامطار
- د. التضاريس





37. تشير الخريطة المقابلة على صعيد الوطن العربي من حيث المحتوى الى:

- أ. السكان
ب. الاقاليم المناخية
ج. الامطار
د. التضاريس



38. تشير الخريطة المقابلة على الصعيد العالمي من حيث المحتوى الى:

- أ. المناطق القاحلة
ب. الاقاليم المناخية
ج. الامطار
د. التضاريس

السؤال الثاني:

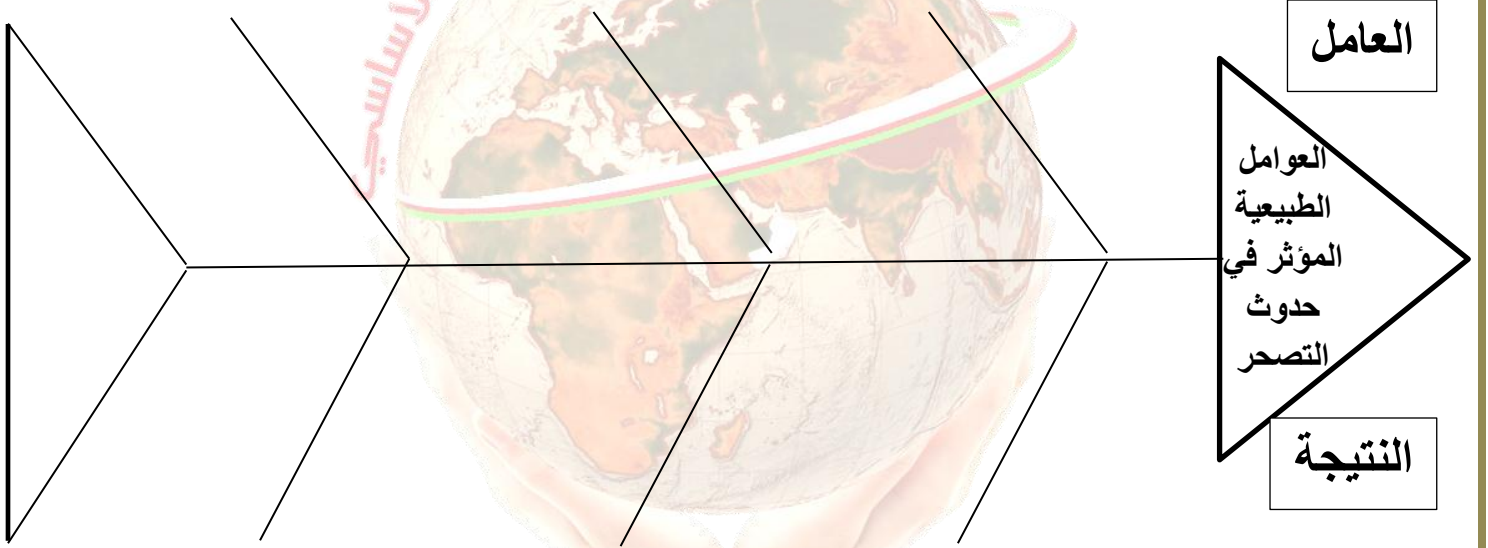
1. اعط تعريفًا مناسبًا لمفهوم النظام البيئي.
2. مما يتكون النظام البيئي؟
3. ما الآثار السلبية لتفاعل الانسان مع البيئة؟
4. ارسمي خريطة مفاهيم بمكونات النظام البيئي مع الامثلة.
5. " تعد المناطق التي تقع بمحاذاة الصحاري من اكثر البيئات عرضة لظاهرة التصحر " فسري ذلك.
6. ارسمي خريطة مفاهيم للعوامل التي تؤدي الى حدوث ظاهرة التصحر.
7. " تعد التغيرات المناخية من العوامل التي تساعد على حدوث الجفاف وظهور الصحاري " فسري ذلك.
8. ما اكثر العناصر المناخية التي تؤدي الى حدوث ظاهرة التصحر؟
9. اربطي بعلاقة بين الامطار والحرارة من جهة وبين التصحر من جهة اخرى.
10. " يعد انجراف التربة من اهم العوامل المسببة للتصحر بسبب تضافر عدة عوامل منها الرياح والمياه الجارية " وضح ذلك.
11. عللي زيادة فعل الرياح والمياه الجارية في حدوث ظاهرة التصحر في المناطق الجافة وشبه الجافة.
12. كيف يسهم الانسان في حدوث ظاهرة التصحر؟
13. وضح العلاقة بين النمو السكاني السريع وظاهرة التصحر.

14. اعط امثلة على الاسباب البشرية الخاطئة في استعمال الاراضي.

15. قارني بين الرعي الجائر وزراعة الاراضي الهامشية من حيث اثرها في حدوث ظاهرة التصحر:

وجه المقارنة	الرعي الجائر	زراعة الاراضي الهامشية
اثرها في حدوث ظاهرة التصحر		

16. ارسمي مخطط السمكة للعوامل الطبيعية المؤثرة حدوث ظاهرة التصحر للعامل والنتيجة.



17. صنفی الاسباب التالية الى العوامل المسببة للتصحر في الجدول:

- أ. تعمل الرياح والمياه الجارية على التقليل من سمك التربة.
- ب. قلة هطول الامطار.
- ج. ارتفاع درجة الحرارة وقلة الامطار والرياح في الصحاري.
- د. سقوط الامطار لفترات قصيرة وغير منتظمة وارتفاع الحرارة.
- هـ. زيادة حمولة المراعي على القدرة الانتاجية.
- و. عدم اتباع الدورات الزراعية والحراثة العميقة.

تدهور خصوبة التربة	قلة الغطاء النباتي	انجراف التربة	زراعة الاراضي الهامشية	الرعي الجائر	التغيرات المناخية	اتباع الاساليب الخاطئة في الزراعة

18. صفني النتائج التالية الى العوامل المسببة للتصحّر في الجدول:

أ. تقلّ صلاحيتها لنمو النبات.

ب. تخلخل النظام البيئي.

ج. يؤثر في عملية نمو النبات.

د. اضعاف خصوبتها وانتاجيتها.

هـ. زيادة نسبة الاملاح في التربة وانخفاض المواد العضوية.

و. انجراف التربة وانخفاض خصوبتها.

تدهور خصوبة التربة	قلة الغطاء النباتي	انجراف التربة	زراعة الاراضي الهامشية	الرعي الجائر	التغيرات المناخية	اتباع الاساليب الخاطئة في الزراعة

19. برهني على تفاقم ظاهرة التصحر نتيجة تداخل العوامل الطبيعية والبشرية.

20. قسمي درجات المناطق الجافة.

21. حولي الجدول التالي الى اعمدة بيانية.

المنطقة الصحراوية	الطريقة
شديدة الجفاف	1
الجافة	27
شبه الجافة	72

22. قارني نوعي التصحر الطفيف والشديد من حيث :

وجه المقارنة	التصحر الطفيف	التصحر الشديد
السبب		
النتيجة		

23. " مكافحة التصحر يجب ان يشمل جميع عناصر البيئة المحيطة من انسان وحيوان ونبات ومياه وتربة وغيرها " وضحي العبارة.

24. ارسمي خريطة مفاهيم بالإجراءات والتدابير المتبعة لمكافحة التصحر.

25. ما المقصود بالأحزمة الخضراء؟

26. ما الهدف من تخصيص التربة؟

27. اكملّي البيانات الخاصة بالتدابير المتبعة لمكافحة التصحر.

التدابير المتبعة لمكافحة التصحر	الطريقة

28. امامك مجموعة من الطرق الطرق المتبعة لمكافحة التصحر صنفها الى الاجراء المناسب لها في الجدول: " انشاء المحميات الرعوية / استعمال الاسمدة العضوية / الاحزمة الخضراء / انشاء السدود الترابية والاسمنتية / عمل مصدات للرياح ب زراعة الاشجار / استعمال التبن الزراعي والفضلات الترابية / اتخاذ الاجراءات القانونية "

تخصيب التربة	مكافحة الرياح	دور الحكومات

29. كيف يتم اتخاذ الاجراءات القانونية من قبل الحكومات لمكافحة التصحر؟

30. عللي الآتي:

أ. انشاء الحكومات للمحميات الرعوية كاجراء لمكافحة التصحر.

ب. انشاء الحكومات للسدود الترابية كاجراء لمكافحة التصحر.

31. فرقي بين الهدف من انشاء المحميات الرعوية وانشاء السدود الترابية كاجراء لمكافحة التصحر.

34. صنف مخطط السمكة بعنوان التدابير المتبعة لمكافحة التصحر بكتابة الاجراء والهدف منه.



35. كيف تساعد زراعة اشجار الصنوبر في مكافحة التصحر؟

36. " تستأثر ظاهرة التصحر في السلطنة باهتمام واضح فقد تم عقد استراتيجية وطنية لحماية البيئة وخطة عمل وطنية لمكافحة التصحر وعقد في عام 2002م مؤتمر دولي للتصحر في محافظة ظفار بتوجيهات سامية من جلالة السلطان قابوس بن سعيد المعظم - حفظه الله ورعاه- "

في ضوء العبارة:

أ. استخرجي من النص:

1. دليل على اهتمام حكومة السلطنة بظاهرة التصحر.

2. متى عقد المؤتمر الدولي للتصحر؟ واين؟

ب. اذكر اهم توصيات صاحب الجلالة لمكافحة التصحر في هذا المؤتمر.

37. قارني بين حالات التصحر الثلاث من حيث:

وجه المقارنة	التصحر الطفيف	التصحر الشديد	التصحر الشديد جدا
انتاجية الاراضي الزراعية			
التكلفة الاقتصادية للاستصلاح			

38. اجابة النشاط " 1 " في الكتاب المدرسي ص 38 .

1. " توزيع السكان في الوطن العربي " يتوزع السكان في الوطن العربي بصورة غير منتظمة حيث تزداد الكثافة السكانية كلما اقتربنا من المناطق الساحلية وتقل كلما ابتعدنا عن الساحل باتجاه الصحراء باستثناء بعض المناطق الصحراوية التي تركز فيها السكان بسبب اكتشاف النفط في اراضيها .

" المعدل السنوي للأمطار في الوطن العربي " تتباين كمية الامطار الساقطة في الوطن العربي من حيث الكمية وموسم سقوطها من مكان الى آخر فترتفع كمية الامطار على سواحل البحر المتوسط وتقل كلما ابتعدنا عن الساحل باتجاه الصحراء الى ان تتسم بندرتها في الصحاري كما تزيد معدلات التساقط في الاطراف الجنوبية للسودان والصومال.

" الاقاليم المناخية في الوطن العربي " تتنوع الاقاليم المناخية في الوطن العربي ولكن الاكثر انتشارا هو المناخ الصحراوي الذي يتسم بالجفاف وقلة سقوط الامطار ونجد على النقيض منه مناخ البحر المتوسط في الاطراف الشمالية من الوطن العربي وعمان واليمن.

2. تنتشر ظاهرة التصحر في شبه الجزيرة العربية وشمال افريقيا بسبب سيادة الجفاف وقلة سقوط الامطار.

39. اجابة النشاط " 2 " في الكتاب المدرسي ص 40 .

" أ " 1. قد يؤدي الى اجهاد التربة وقلة خصوبتها.

2. خلط التربة الناضجة بالتربة غير الناضجة وبالتالي فقدان خصوبتها.

3. يؤدي الى استنزاف المياه الجوفية وبالتالي موت النباتات.

4. قد يؤدي الاسراف في استخدام المبيدات الحشرية الى عدم التوازن بين انواع معينة من الحشرات فيطغى نوع على الآخر ويؤدي الى ابادة النباتات ومن ثم تصحر الارض وقد تؤدي انواع معينة من من المبيدات الى قتل النباتات.

" ب " عندما تزيد حمولة الرعي عن القدرة الانتاجية للمرعى يتحول الرعي الى رعي جائر.

40. ادرسي الخريطة التالية واجبي عن الآتي:



1. ضعي عنوانا مناسباً للخريطة.

2. استنتجي الاقاليم المناخية في الوطن العربي من الخريطة.

3. بالرجوع الى مفتاح الخريطة استخرجي انواع الاقاليم المناخية في سلطنة عمان.

4. ما الاقليم الاكثر انتشاراً في الوطن العربي؟

5. اكتبتي على الخريطة اسم المدار الذي يقع عليه الوطن العربي شمالاً.

41. ادرسي الخريطة التالية واجيبي عن الآتي:



1. وقعي على اسم الدولة التي استخدمت نظام " الفوجارات " لتوزيع المياه على الواحات كاحدى الطرق التي استخدمتها لمكافحة التصحر.
2. ضعي الرمز " س " في المربع المناسب على الخريطة والذي يشير الى الدولة التي عقد فيها المؤتمر الدولي لمكافحة التصحر عام 2002 م .
3. ما الحل الذي اتبعته الدولة المحاطة بمربع على الخريطة لمكافحة التصحر.
4. ظللي الدولة التي عملت على انشاء سدود ترابية لحفظ مياه الامطار والاستفادة منها في الزراعة والواقعة في جنوب آسيا.

الصف: العاشر

عنوان الوحدة: مشكلات واطار بيئية

الفصل الدراسي الثاني

عنوان الدرس: الاعاصير المدارية.

السؤال الاول : اختاري الاجابة الصحيحة من بين البدائل المعطاة:

1. " عبارة عن رياح دوارة مصحوبة بامطار غزيرة تنشأ في البحار والمحيطات وتنتهي في اليابسة " يشير هذا المفهوم الى ظاهرة بيئية هي :

أ. المنخفضات ب. الاحتباس الحراري ج. التساقط د. الاعاصير

2. تبلغ سرعة الرياح في الاعاصير التي تكون حركة الرياح فيه دائرية حول المحور بالكيلومتر/الساعة حوالي:

أ. 300 ب. 350 ج. 400 د. 450

3. تبلغ سرعة الرياح في الاعاصير التي تكون حركة الرياح فيها تتجه الى الامام نحو اليابسة او باتجاه المياه الباردة بالكيلومتر/الساعة حوالي:

أ. 270 ب. 280 ج. 290 د. 300

4. يصنف الاعصار الذي تتراوح سرعته بين " 64 - 82 كيلومتر/الساعة " من حيث القوة حسب المقياس الدولي للأعاصير:

أ. خفيف ب. متوسط ج. قوي د. قوي جدا

5. يصنف الاعصار الذي تتراوح سرعته بين " 96 - 113 كيلومتر/الساعة " من حيث القوة حسب المقياس الدولي للأعاصير:

أ. خفيف ب. متوسط ج. قوي د. قوي جدا

6. يصنف الاعصار الذي تتراوح سرعته بين " 83 - 95 كيلومتر/الساعة " من حيث القوة حسب المقياس الدولي للأعاصير:

أ. خفيف ب. متوسط ج. قوي د. قوي جدا

7. يصنف الاعصار الذي تتراوح سرعته بين " 114 - 135 كيلومتر/الساعة " من حيث القوة حسب المقياس الدولي للأعاصير:

أ. خفيف ب. متوسط ج. قوي د. قوي جدا

8. يصنف الاعصار الذي تزيد سرعته عن " 136 كيلومتر/الساعة " من حيث القوة حسب المقياس الدولي للأعاصير:

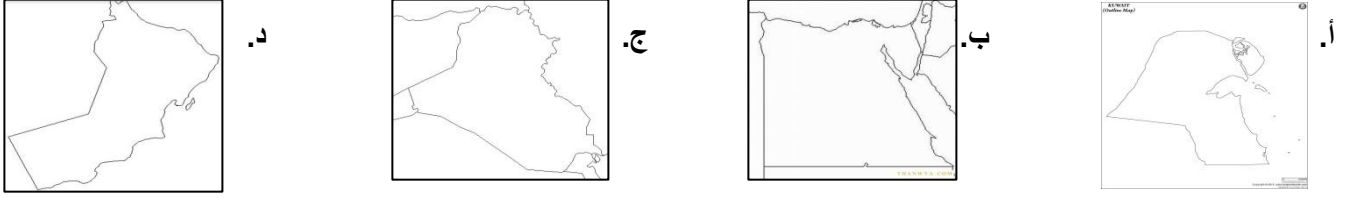
أ. عنيف ب. متوسط ج. قوي د. قوي جدا

14. تصل درجة الاعصار المتوسط بناء على المقياس الدولي للأعاصير بالكيلومتر/الساعة :

أ. 1 ب. 2 ج. 3 د. 4

15. تصل درجة الاعصار القوي بناء على المقياس الدولي للأعاصير بالكيلومتر/الساعة:
- أ. 1 ب. 2 ج. 3 د. 4
16. تصل درجة الاعصار الخفيف بناء على المقياس الدولي للأعاصير بالكيلومتر/الساعة:
- أ. 1 ب. 2 ج. 3 د. 4
17. تصل درجة الاعصار القوي جدا بناء على المقياس الدولي للأعاصير بالكيلومتر/الساعة:
- أ. 1 ب. 2 ج. 3 د. 4
18. تصل درجة الاعصار العنيف بناء على المقياس الدولي للأعاصير بالكيلومتر/الساعة:
- أ. 5 ب. 4 ج. 3 د.
20. تعرضت جزيرة مصيرة الى اعصار قوي صاحبه سقوط المطار غزيرة بلغت " 430 ملم " في العام الميلادي:
- أ. 1977 ب. 2007 ج. 2010 د. 2015
21. تعرضت السلطنة الى انواء مناخية قوية اهمها اعصار جونو في العام الميلادي:
- أ. 1977 ب. 2007 ج. 2010 د. 2015
22. تعرضت السلطنة الى اعصار فيت في العام الميلادي:
- أ. 1977 ب. 2007 ج. 2010 د. 2015
23. الولاية العمانية التي تعرضت الى اعصار قوي عام 1977م هي:
- أ. مطرح ب. صور ج. مسقط د. مصيرة
24. اقوى الاعاصير المدارية التي تشكلت في بحر العرب وتعرضت له السلطنة عام 2007م:
- أ. فيت ب. ميكونو ج. جونو د. سقيا
24. ثاني اقوى الاعاصير المدارية التي تشكلت في بحر العرب وتعرضت له السلطنة عام 2010م:
- أ. فيت ب. ميكونو ج. جونو د. سقيا
25. يصنف اعصار جونو الذي تعرضت له السلطنة في عام 2007م حسب المقياس الدولي للأعاصير من النوع:
- أ. المتوسط ب. القوي ج. العنيف د. القوي جدا
26. يصنف اعصار فيت الذي تعرضت له السلطنة في عام 2010م حسب المقياس الدولي للأعاصير من النوع:
- أ. الخفيف ب. القوي ج. العنيف د. المتوسط

27. خريطة الدولة التي تعرضت الى اعصار جونو عام 2007م هي:



28. المحيط الاقرب الى السلطنة وتتأثر بالاعاصير المدارية التي تتكون فيه هو:

أ. الهادي ب. الاطلسي ج. الهندي د. المتجمد الشمالي

28. يطلق على الاعاصير في مناطق المحيط الهندي اسم:

أ. Cyclone ب. Simpson ج. Typhoon د. Hurricane

29. يطلق على الاعاصير في مناطق المحيط الاطلسي اسم:

أ. Cyclone ب. Simpson ج. Typhoon د. Hurricane

30. يطلق على الاعاصير في مناطق المحيط الهادي اسم:

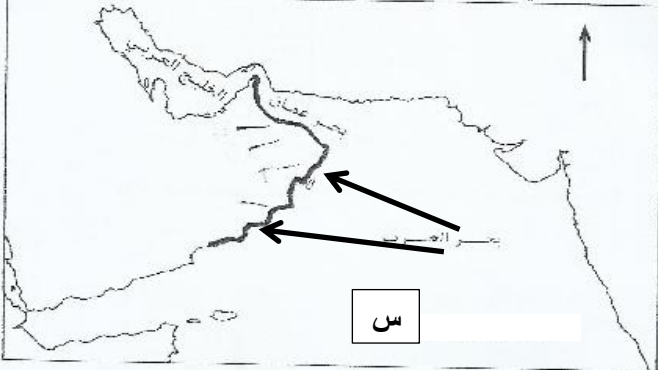
أ. Cyclone ب. Simpson ج. Typhoon د. Hurricane

31. المسطح المائي الذي تتشكل فيه الاعاصير المدارية التي تتعرض لها السلطنة

والمشار اليه بالرمز " س " في الخريطة المقابلة هو:

أ. الهادي ب. الاطلسي

ج. الهندي د. المتجمد الشمالي



32. يطلق على الاعاصير المدارية الذي تعرضت له السلطنة عام

2007م في الخريطة المقابلة اسم:

أ. تشابالا ب. جونو


ج. فيت د. سقيا

السؤال الثاني:



1. عللي اختلاف الضغط الجوي من مكان الى آخر على سطح الارض.

2. استنتجي كيف تنشأ الرياح من خلال الشكل.



3. ما اثر الضغط الجوي على سرعة الرياح؟

4. اربطي بعلاقة بين اختلاف الضغط الجوي والرياح.

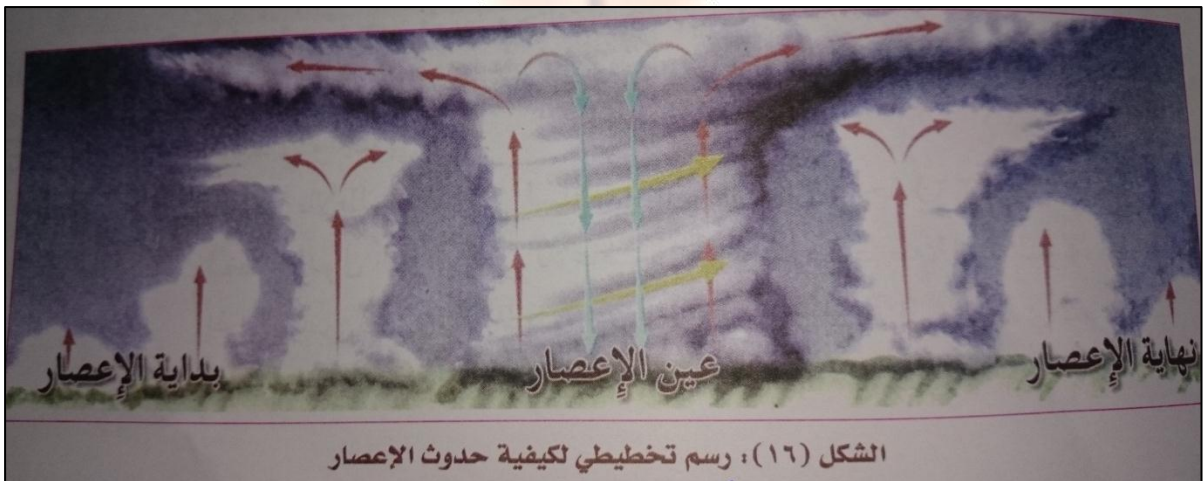
5. اعط تعريفا مناسباً للإعصار.

6. قارني بين حركتا الأعصار من حيث:

وجه المقارنة	الحركة الأولى	الحركة الثانية
نوع حركة الرياح		
السرعة		

7. ما سبب نشأة الأعاصير؟

8. تتبعي مراحل نشأة الأعصار بالاستعانة بالشكل.



9. امامك مجموعة من مسميات الاعاصير في المحيطات الرئيسية العالمية صنفها في الجدول التالي:

(Hurricane - Typhoon - Syclone)

المحيط الهندي	المحيط الاطلسي	المحيط الهادي

10. صممى خريطة مفاهيم بالاستعانة بنموذج " فراير " بعنوان الاعاصير على ان يشمل:

التعريف:	انواع الحركة للاعصار:
سبب تكون الاعصار:	المسميات العالمية للاعاصير:

ملتزمون بتحقيق رؤيتنا , الإجابة في موادنا

11. ارسمي جدولاً ب : أ. العوامل التي تساعد على زيادة مقدار الدمار.

ب. الآثار التي تخلفها الأعاصير والعواصف المدارية على البيئة.

العوامل التي تساعد على زيادة مقدار الدمار	الآثار التي تخلفها الأعاصير والعواصف المدارية

12. " أصبح من الممكن مراقبة الأعاصير والتحذير عنها في الوقت الحالي "

ما العوامل التي ساعدت على ذلك؟

13. ما المعلومات التي يمكن الحصول عليها من الأقمار الصناعية حول الأعاصير؟

14. ما إيجابية التنبؤ بالأعاصير ومراقبتها منذ بداية نشأتها؟

15. " يمكن للتقدم التكنولوجي في مجال مراقبة الأعاصير ومتابعة حركتها الحد من الآثار التدميرية للأعاصير "

☐ موافق ☐ غير موافق

☐ موافق ☐ غير موافق

التفسير:

16. ما دور وسائل الإعلام خلال الفترات المتوقعة حدوث الأعاصير فيها؟

17. قارني بين وسائل التنبؤ بالأعاصير قديماً وحديثاً من حيث:

وجه المقارنة	قديم	حديث
حجم المعلومات التي تمدها بها هذه الوسائل		
درجة دقة هذه المعلومات		
سرعة وصولها إلى الملتقى		
حجم الخسائر		

18. " تتعرض سلطنة عمان لأخطار الأعاصير المدارية على فترات متباعدة " وضح ذلك.

19. ارسلي جدولاً بالأعاصير التي تعرضت لها السلطنة من عام 1977م وحتى 2010م على أن يشمل:

اسم الأعصار	العام الميلادي	كمية الأمطار	سرعة الرياح بالعقدة	الآثار التدميرية

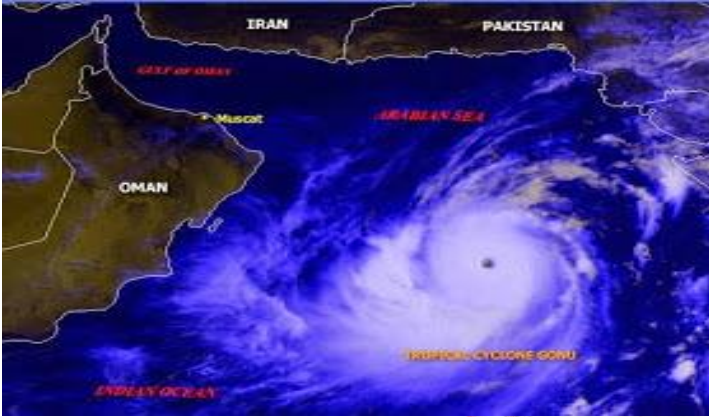
20. ما النتائج المترتبة على الأنواع المناخية التي تعرضت لها السلطنة من عام 1977 – 2010م؟

21. ارسلي مسطرة زمنية بالأعاصير التي تعرضت لها السلطنة من عام 1977 – 2010م.

22. قارني بين أعاصير يونيو وأعاصير فيت من حيث:

وجه المقارنة	أعاصير يونيو	أعاصير فيت
الفترة الزمنية		
كمية الأمطار		
سرعة الرياح		
المحافظات التي تأثرت بها		
الآثار التدميرية		

22. امامك ثلاث خرائط تشير مراحل اعصار جونو عام 2007م.



1. استنتجي:

أ. الظاهرة البيئية من خلال الخرائط.

ب. المحافظات المواجهة لمساره.

2. ما المسطح المائي الرئيسي الذي تتشكل فيه.

3. حدي الفترة الزمنية التي حدث فيها.

4. ما العامل الذي يحدد مدى قوة الاعاصير التي تؤثر على

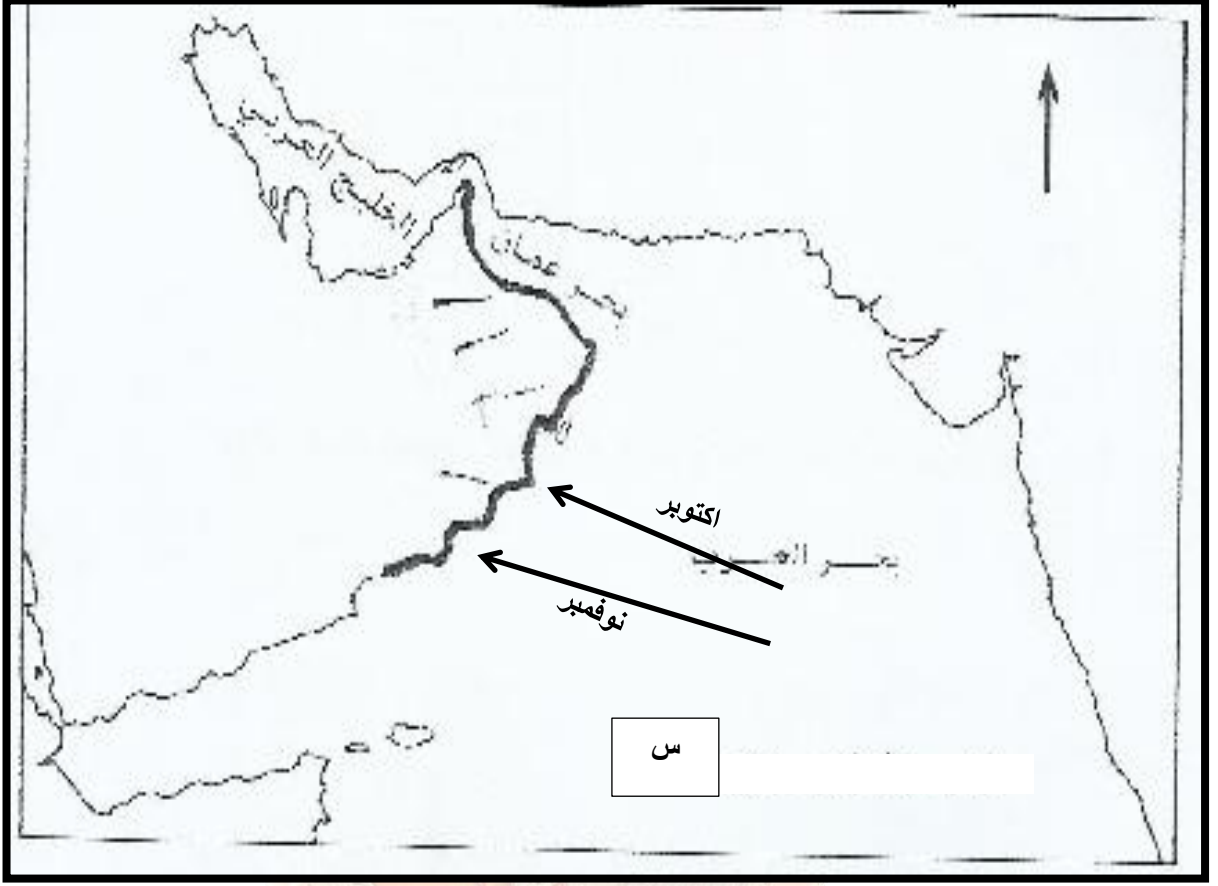
السلطنة.

5. ما الاشهر التي قد تتعرض فيها السلطنة للأعاصير؟

6. رتبي الخرائط اعلاه حسب مراحل تطور الاعصار بكتابة الرقم المناسب اسفل كل خريطة.

ملتزمون بتحقيق رؤيتنا , الإجابة في موادنا

23. ادرسي الخريطة التالية واجيبي عن الآتي:



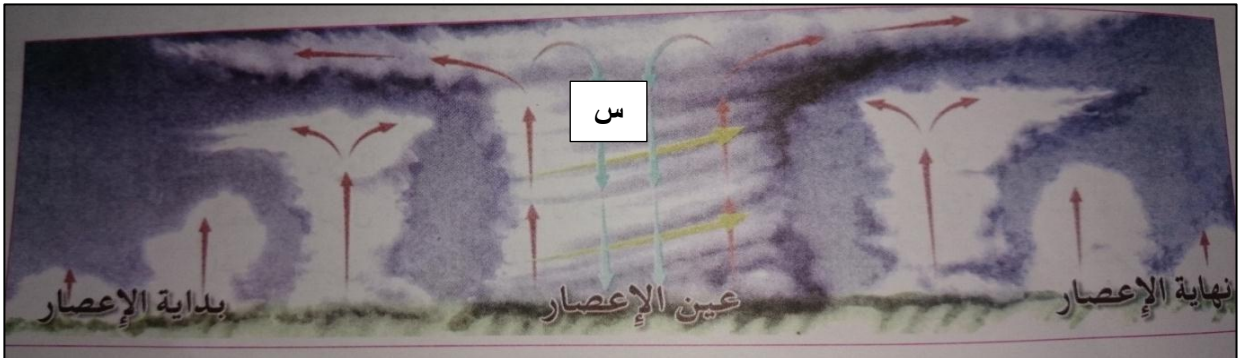
أ. ضعي عنوانا مناسباً للخريطة.

ب. استنتجي المحافظة التي تتعرض لهذا النوع من الأنواء المناخية في شهر نوفمبر.

ج. ارسمي على الخريطة مسار الأعاصير المدارية التي تتعرض لها السلطنة في شهر مايو.

د. وقعي على الخريطة اسم المسطح المائي الذي تتشكل فيه الأعاصير المدارية.

24. ادرسي الشكل التالي واجيبي عن الآتي: **والتي نؤمن بتحقيق رؤيتنا ، الإجابة في موادنا**



أ. ضعي عنواناً مناسباً للشكل.

ب. استنتجي الهيئة التي يتحرك فيها الهواء الدافئ الى اعلى في المنطقة " س " .

ج. ما سبب تكون دوامة من السحب الكثيفة في منطقة الاعصار.

د. اكتب في المكان المناسب التالي: " بداية الاعصار / عين الاعصار / نهاية الاعصار "

24. ادرسي خريطة العالم التالية واجيبي عن الآتي:



أ. وقعي على الخريطة اسم المسطح المائي الذي يتشكل فيه اعصار

ملتزمون بتحقيق رؤيتنا , الإجابة في موادنا (Hurricane)

ب. ضعي الرمز " س " في المربع المناسب للخريطة على المسطح المائي الذي يتشكل فيه اعصار

(Typhoon)

ج. ماذا تسمى الاعاصير التي تتشكل في المحيط الهندي؟

د. ظللي الدولة العربية التي تعرضت لإعصار جونو عام 2007م.

ادرسي الخريطة التالية واجيبي عن الآتي:



الشكل (١٧) : المواصلات المدارية في العالم

أ. ضعي عنوانا مناسباً للخريطة.

ب. ما المعطيات التي يشير إليها مفتاح الخريطة؟

ج. في أي المناطق الحرارية تحدث الأعاصير المدارية.

د. ارسم جدولاً لبعض الدول التي تتعرض للأعاصير المدارية موضحاً فيه:

اسم الدولة	القارة	المنطقة الحرارية التي تقع فيها	الموسم الذي تتعرض فيه الأعاصير

اجابة النشاط " 1 " في الكتاب المدرسي ص 48 .

1. كلما ارتفعت درجة الحرارة قل الضغط الجوي والعكس صحيح.

2. تختلف قوة الرياح باختلاف مناطق الضغط الجوي حيث يؤدي الضغط الجوي شديد الانخفاض في بعض المناطق وارتفاعه في منطقة أخرى إلى هبوب رياح قوية في بعض فترات السنة.

3. اختلاف الضغط الجوي " بين الارتفاع والانخفاض " بين المناطق البحرية والمناطق القارية (اليابسة).

عنوان الوحدة: مشكلات واطار بيئية
عنوان الدرس: اخطار الزلازل والبراكين.
الصف: العاشر
الفصل الدراسي الثاني

السؤال الاول : اختاري الاجابة الصحيحة من بين البدائل المعطاة:

1. بلغت قوة الزلزال الذي ضرب جنوب شرقي آسيا بمقياس ريختر عام 2004م :

أ. 7 ب. 7.5 ج. 8 د. 8.5

2. المنطقة التي ضربها الزلزال يوم 26 / 12 / 2004م بقوة " 8.5 ريختر " هي:

أ. شمال شرقي آسيا
ب. جنوب غربي آسيا
ج. شمال غربي آسيا
د. جنوب شرقي آسيا

3. ضرب مناطق جنوب شرقي آسيا زلزال بقوة " 8.5 ريختر " في يوم " 12 / 26 " من العام الميلادي:

أ. 2002 ب. 2004 ج. 2006 د. 2008

4. يعود اصل كلمة تسونامي الى اللغة :

أ. الايطالية ب. الفرنسية ج. العربية د. اليابانية

5. تعرضت السواحل الشمالية الشرقية لليابان الى زلزال بحري أودى بحياة " 10489 شخصا " في العام الميلادي:

أ. 1896 ب. 1998 ج. 2004 د. 2011

6. تعرضت جزيرة سومطرة الاندونيسية الى زلزال بحري أودى بحياة " 275000 شخصا " في العام الميلادي:

أ. 1896 ب. 1998 ج. 2004 د. 2011

7. تعرضت السواحل الشمالية الغربية لدولة غينيا الجديدة الى زلزال بحري أودى بحياة " الفا شخص " في العام الميلادي:

أ. 1896 ب. 1998 ج. 2004 د. 2011

8. تعرضت جزيرة هونشو اليابانية الى زلزال بحري أودى بحياة " 26 الف شخص " في العام الميلادي:

أ. 1896 ب. 1998 ج. 2004 د. 2011

9. تعرضت جزيرة سومطرة وجاوا الاندونيسيتين الى انفجار بركان كاراكاتو أودى بحياة " 36 الف شخص " في العام الميلادي:

أ. 1883 ب. 1896 ج. 1998 د. 2004

10. الدولة التي تعرضت سواحلها الشمالية الشرقية الى زلزال بحري أودى بحياة " 10489 شخصا " في عام 2011م:

أ. اندونيسيا ب. غينيا الجديدة ج. اليابان د. سنغافورة

11. الدولة التي تعرضت جزيرة " سومطرة " التابعة لها الى زلزال بحري أودى بحياة " 275000 شخصا " في عام 2004م:

أ. اندونيسيا ب. غينيا الجديدة ج. اليابان د. سنغافورة

12. الدولة التي تعرضت سواحلها الشمالية الغربية الى زلزال بحري أودى بحياة " ألفا شخص " في عام 1998م:

أ. اندونيسيا ب. غينيا الجديدة ج. اليابان د. سنغافورة

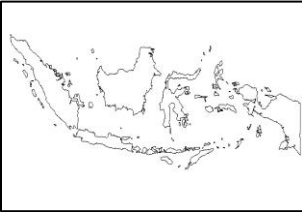
13. الدولة التي تعرضت جزيرة " هونشو " التابعة لها الى زلزال بحري أودى بحياة " 26 ألف شخص " في عام 1896م:

أ. اندونيسيا ب. غينيا الجديدة ج. اليابان د. سنغافورة

14. الدولة التي تعرضت جزيرة سومطرة وجاوا الى انفجار بركان كاراكاتو أودى بحياة " 36 ألف شخص " في عام 1883م:

أ. اندونيسيا ب. غينيا الجديدة ج. اليابان د. سنغافورة

15. خريطة الدولة التي تعرضت سواحلها الشمالية الشرقية الى زلزال بحري أودى بحياة " 10489 شخصا " في عام 2011م:



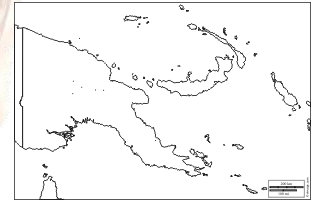
د.



ج.

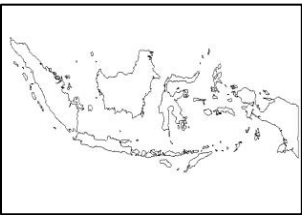


ب.



أ.

16. خريطة الدولة التي تعرضت جزيرة " سومطرة " التابعة لها الى زلزال بحري أودى بحياة " 275000 شخصا " في عام 2004م:



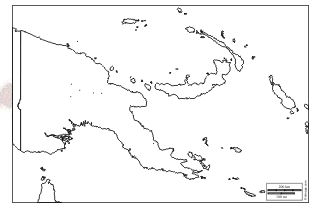
د.



ج.

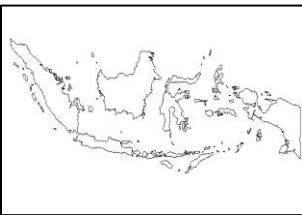


ب.



أ.

17. خريطة الدولة التي تعرضت سواحلها الشمالية الغربية الى زلزال بحري أودى بحياة " ألفا شخص " في عام 1998م:



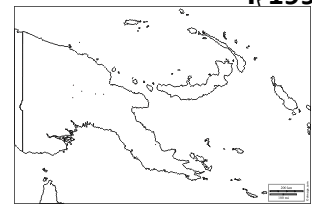
د.



ج.

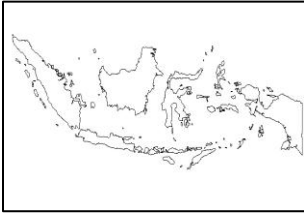


ب.



أ.

18. خريطة الدولة التي تعرضت جزيرة " هونشو " التابعة لها الى زلزال بحري أودى بحياة " 26 ألف شخص " في عام 1896م:



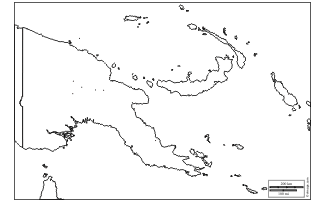
د.



ج.

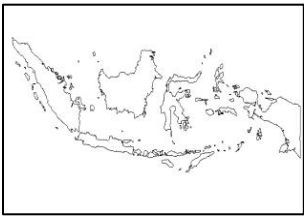


ب.



أ.

19. الدولة التي تعرضت جزيرة سومطرة وجاوا الى انفجار بركان كاراكاتو أودى بحياة " 36 ألف شخص " في عام 1883م:



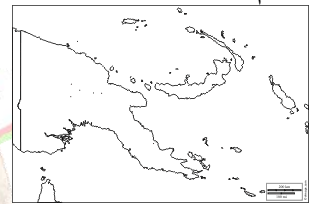
د.



ج.



ب.



أ.

20. جميع ما يلي من المخاطر الثانوية معدا:

د. الانزلاقات الارضية

ج. الفيضانات

ب. توابع الزلازل

أ. الحرائق

21. جميع ما يلي من المخاطر الثانوية معدا:

د. الانزلاقات الارضية

ج. تصدع الارض

ب. الفيضانات

أ. الحرائق

22. جميع ما يلي من المخاطر الثانوية معدا:

د. الانزلاقات الارضية

ج. الحرائق

ب. الفيضانات

أ. تدمير الشوارع

23. جميع ما يلي من المخاطر الثانوية معدا:

د. قطع خطوط الكهرباء

ج. الانزلاقات الارضية

ب. الفيضانات

أ. الحرائق

24. جميع ما يلي من المخاطر الثانوية معدا:

د. الانزلاقات الارضية

ج. الفيضانات

ب. الزجاج المتطاير

أ. الحرائق

25. جميع ما يلي من المخاطر الاولية معدا:

د. الزجاج المتطاير

ج. تصدع الارض

ب. الفيضانات

أ. توابع الزلازل

26. جميع ما يلي من المخاطر الاولية معدا:

د. الانزلاقات الارضية

ج. تصدع الارض

ب. تدمير الشوارع

أ. توابع الزلازل

27. جميع ما يلي من المخاطر الأولية معدا:

أ. الحرائق ب. تصدع الارض ج. توابع الزلازل د. الزجاج المتطاير

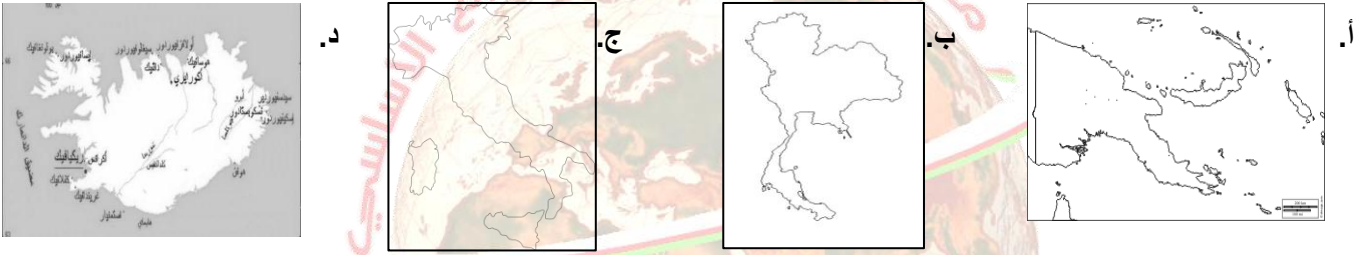
28. جميع ما يلي من المخاطر الأولية معدا:

أ. توابع الزلازل ب. تسونامي ج. تصدع الارض د. الزجاج المتطاير

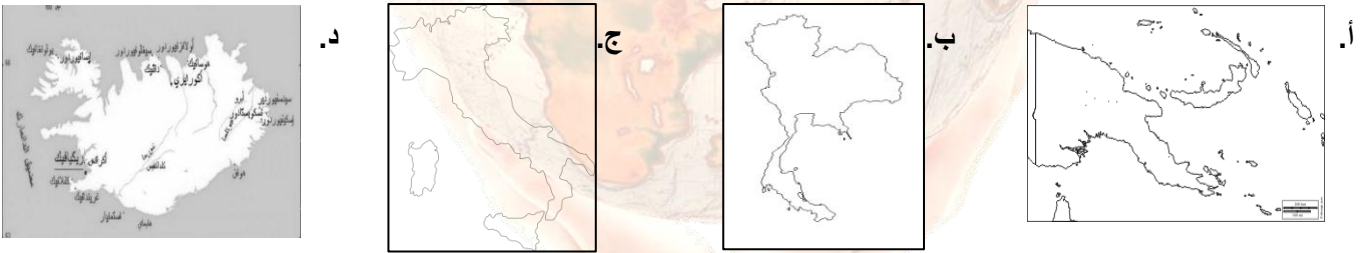
29. جميع ما يلي من المخاطر الأولية معدا:

أ. توابع الزلازل ب. تدمير الشوارع ج. تصدع الارض د. الامراض والابوئة

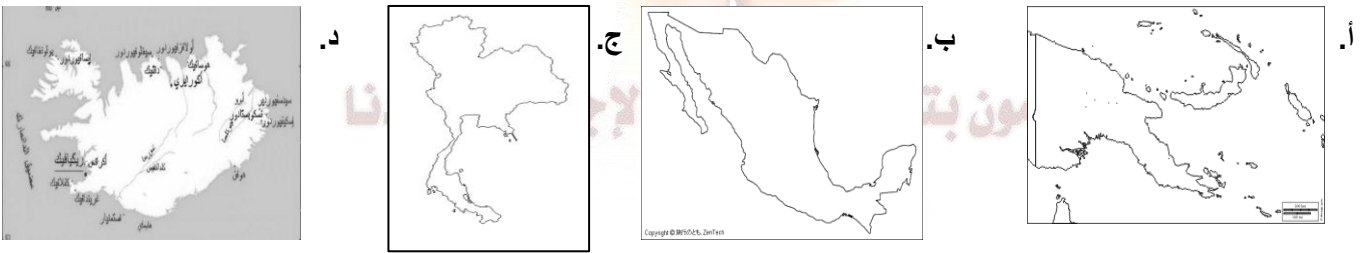
30. خريطة الدولة التي تستفيد من البراكين من خلال استخدام الطاقة الحرارية الارضية لإنتاج الطاقة الكهرومائية:



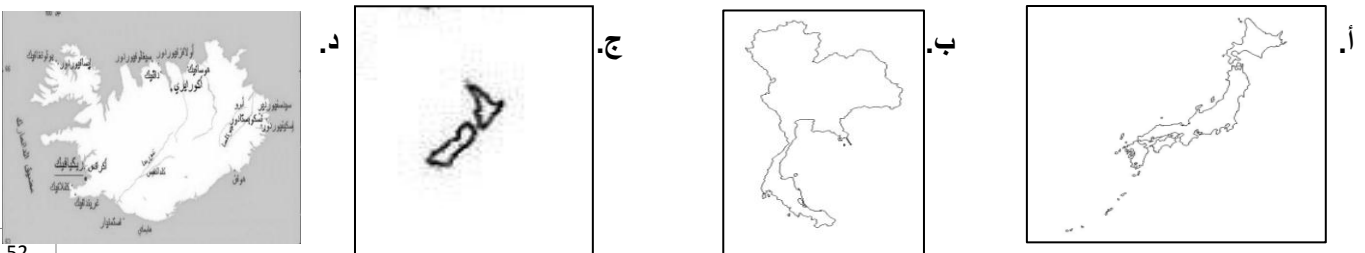
31. خريطة الدولة التي يستفيد سكانها من البراكين من خلال استخدام مياه الينابيع في تدفئة منازلهم:



32. خريطة الدولة التي تستفيد من البراكين من خلال استخدام الطاقة الحرارية الارضية لإنتاج الطاقة الكهرومائية:



32. خريطة الدولة التي تستفيد من البراكين من خلال استخدام الطاقة الحرارية الارضية لإنتاج الطاقة الكهرومائية:



34. حجر عبارة عن زجاج طبيعي يستعمل في طحن الاحجار والفلزات وصقلها ينتج من ثوران البراكين هو:

أ. الخفاف ب. رواسب الكبريت ج. البازلت د. الجرانيت

35. تمثل مصدرا اساسيا للتربة الغنية بالعناصر المعدنية اللازمة لنمو النباتات وتخرج اثناء حدوث البركان:

أ. رواسب الكبريت ب. السيول الطينية ج. المصهورات د. حجر الخفاف

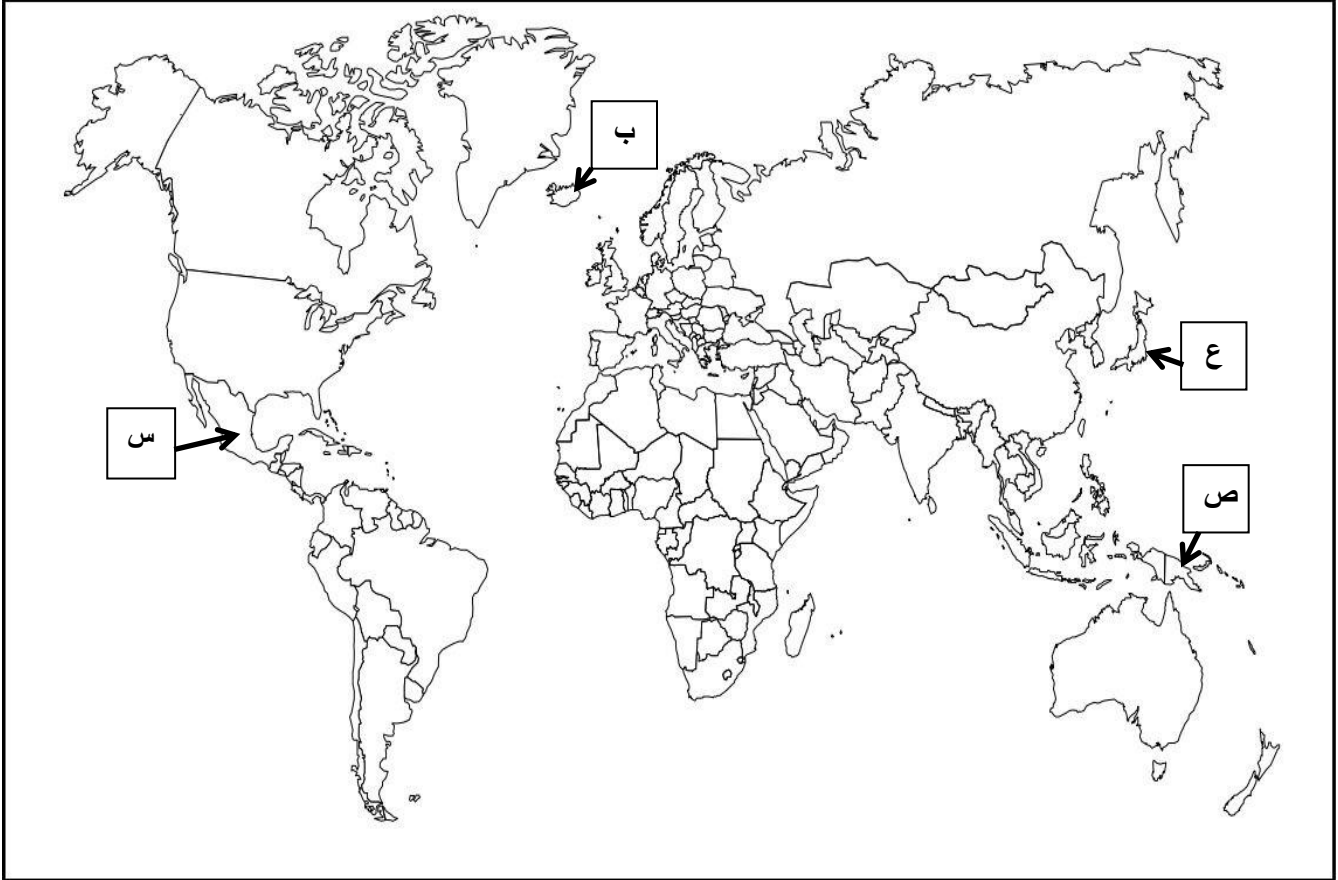
36. نوع من المواد البركانية المستخدمة في انتاج المواد الكيماوية:

أ. رواسب الكبريت ب. السيول الطينية ج. المصهورات د. حجر الخفاف

37. نوع من المواد البركانية المستخدمة في كثير من المناطق البركانية كمصدر للطاقة:

أ. رواسب الكبريت ب. البخار ج. المصهورات د. حجر الخفاف

39. ادرسي الخريطة التالية واجيبي عن الاسئلة التي تليها من " أ - ب - ج " :



أ. رمز الدولة التي تستفيد من البراكين من خلال استخدام الطاقة الحرارية الارضية لإنتاج الطاقة الكهرومائية:

1. ب 2. س 3. ص 4. ع

ب. رمز الدولة التي يستفيد سكانها من البراكين من خلال استخدام مياه الينابيع في تدفئة منازلهم:

1. ب 2. س 3. ص 4. ع

ج. رمز الدولة التي تعرضت جزيرة " هونشو " التابعة لها الى زلزال بحري أودى بحياة " 26 ألف شخص " في عام 1896م:

1. ب 2. س 3. ص 4. ع

د. رمز الدولة التي تتبعها جمهورية غينيا الجديدة والمشار اليها على الخريطة بالرمز:

1. ب 2. س 3. ص 4. ع

40. تشير التقارير الدولية الى تحرك جزيرة " سومطرة " الاندونيسية عن موضعها المعهود باتجاه الجنوب الغربي بالأمتار بمقدار:

- أ. 26 ب. 25 ج. 24 د. 23

41. الجهة التي تحركت اليها جزيرة " سومطرة " الاندونيسية عن موضعها المعهود حسب التقارير الدولية بمقدار " 26 مترا " :

- أ. الشمال الشرقي ب. الجنوب الغربي ج. الشمال الغربي د. الجنوب الشرقي

42. تقلصت سرعة دوران الارض حول نفسها بنسبة ضئيلة جدا ليزيد بذلك طول اليوم بالثانية بمقدار:

- أ. جزء ب. جزء ونصف ج. جزآن د. جزآن ونصف

43. تأثر محور الارض بسبب كارثة " تسونامي " لتتغير زاوية ميله مقارنة بوضعيته السابقة بالسنتيمتر بمقدار:

- أ. 1 ب. 1.5 ج. 2 د. 2.5

44. غطت الامواج سواحل السلطنة خلال يومي 26 و 27/2004م بسبب كارثة " تسونامي " بالأمتار حوالي:

- أ. 60 ب. 56 ج. 70 د. 75

45. المسافة التي تتركز عليها الطاقة في امواج " تسونامي " وتؤدي الى تكوين جدران عالية من الامواج في المياه الضحلة:

- أ. كبيرة ب. قصيرة ج. متوسطة د. شاسعة

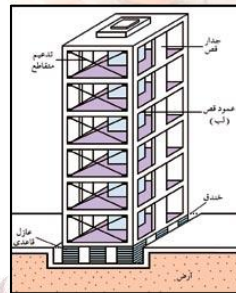
46. القارة التي تتبعها دولة " آيسلندا " هي:

- أ. آسيا ب. افريقيا ج. اوروبا د. اوقيانوسيا

47. القارة التي تتبعها جمهورية " غينيا الجديدة " هي:

- أ. آسيا ب. افريقيا ج. اوروبا د. اوقيانوسيا

48. خريطة التي تظهر جميع المناطق التي تأثرت بكارثة " تسونامي " التي وقعت يوم 26/ديسمبر/2004م:



49. تم تصميم المبنى في الصورة المقابلة لمقاومة:

ب. الاعاصير

د. الفيضانات

أ. البراكين

ج. الزلازل

السؤال الثاني:

1. قسّم أنواع المخاطر التي تهاك حدوث الزلازل.

2. ارسم جدولاً بالمخاطر الأولية والثانوية التي تهاك حدوث الزلازل.

المخاطر الثانوية	المخاطر الأولية

3. اعط تعريفًا مناسباً لتوابع الزلازل.

4. ما النتيجة المترتبة على حدوث توابع الزلازل؟

5. ما الإجراءات الواجب اتباعها للتقليل من أخطار توابع الزلازل؟

6. أمامك مجموعة من الآثار المرتبطة بالمخاطر الأولية لحدوث الزلازل صنفها إلى نتائجها في الجدول: " زيادة الخسائر والدمار / قطع أنابيب المياه / إصابة المارة في الشوارع / تدمير الشوارع / قتل الناس والحيوانات "

الزجاج المتطاير	توابع الزلازل	حركة الأرض وتصدعها

7. " لو كنت تعيش في منطقة معرضة للزلازل ما المواصفات التي تقترحها لكل من في ضوء ما درس في موضوع " أخطار الزلازل والبراكين " في الكتاب المدرسي :

المباني	
المستشفيات	
محطات الكهرباء	
السكان	

8. " تمثل البراكين وجهان لعملة واحدة "

موافق ☐ غير موافق ☐

التفسير:

9. اذكر فوائد البراكين.

10. امامك مجموعة من الجوانب التي تمثل اهمية البراكين صنفها حسب الفائدة منها في الجدول : " مصدرا هاما لنمو النباتات / مصدرا للطاقة / طحن الاحجار والفلزات / انتاج المواد الكيماوية / التعرف الى مكونات باطن الارض / تدفئة المنازل / انتاج الطاقة الكهربائية "

المواد البركانية	
المصهورات البركانية	
رواسب الكبريت	
البخار	
الطاقة الحرارية	
حجر الخفاف	
مياه الينابيع البركانية	

11. اكمل الجدول التالي:

المواد البركانية	اهم الاخطار الناتجة عنها
السحب الترابية	
السيول الطينية	تدمير المباني واتلاف الاجهزة الكهربائية
احتباس ثاني اكسيد الكربون	تسمم الحيوانات في المرعى
	حرق كل شيء في طريقها

12. استنتجي من الصور الفوائد المرتبطة بالبراكين:



الصورة الثانية	الصورة الاولى	الصور
		الفائدة

13. صممي خريطة مفاهيم باستخدام نموذج فراير بعنوان " تسونامي ".


اصل الكلمة:	اسبابها:
المعنى الحرفي:	
المقصود بها:	
الامواج المتولدة منها:	امثلة من الجدول " ص58 " بالمناطق التي تعرضت لها:

14. " تنبع خطورة موجات تسونامي من ضخامتها وقوتها " وضح ذلك.

15. كيف كان صباح يوم 26/ديسمبر/2004م على سواحل جنوب شرق آسيا ؟

16. تتبعي امتداد المد البحري " التسونامي " الذي حدث عام 2004م على الدول المطلة على المحيط الهندي.

17. تتبعي حصيلة القتلى للمد البحري " التسونامي الذي حدث في 26/ديسمبر/2004م وحتى نهاية مارس 2005م.



18. ارسمي خريطة مفاهيم بآثار المد الزلزالي " تسونامي ".

19. (ترتب على كارثة " تسونامي " تغير جغرافية المنطقة متمثلة في تحرك عدد من الجزر الصغيرة في المحيط الهندي بعيدا عن مكانها الاصلي) برهني على صحة العبارة بالبيانات الاحصائية.

20. (قلص زلزال سومطرة من سرعة دوران الارض حول نفسها بنسبة ضئيلة جدا)

○ موافق

○ غير موافق

الدليل :

21. ارسمي جدولا بالخسائر البشرية لكارثة تسونامي عام 2004م.

القتلى	المفقودين والجرحى	المشردين

22. برهني على تأثر محور الارض بسبب زلزال سومطرة عام 2004م بالبيانات الرقمية.

23. امامك مجموعة من الآثار الاقتصادية والبيئية والجغرافية الناتجة عن كارثة تسونامي صنفها في الجدول : " تفشي الامراض والابوة / تحرك عدد من الجزر عن مكانها / اغاثة المنكوبين / تلوث مياه الشرب / نقص وسائل التدفئة / توفير الغذاء والمسكن / انخفاض مستوى النظافة / ازالة الانقاض / فتح الطرق / قلص سرعة دوران الارض حول نفسها / ندني قطاع السياحة / تهدم الشعاب المرجانية واشجار المانجروف / فقدان آلاف الوظائف / تأثر محور الارض / تأثر قطاع صيد الاسماك / هلاك الكائنات الجية البحرية والبرية "

الآثار الاقتصادية	الآثار البيئية	الآثار الجغرافية

24. " تعرضت السلطنة خلال يومي 26 و 27 / 12 / 2004م لظاهرة تعاظم الامواج البحرية " تسونامي " الناتجة عن الزلزال البحري " في ضوء العبارة :

أ. فسري سبب تأثر سواحل السلطنة بالكارثة .

ب. ما السواحل العمانية المتأثرة بالكارثة؟

ج. كيف كان التأثير على السواحل العمانية ؟

25. عللي تضاعف حجم الكارثة التي وقعت في جنوبي شرق آسيا عام 2004 م .

26. " يجمع خبراء الزلازل على انه من الممكن تفادي الكثير من الخسائر في حال توافر أنظمة انذار مبكر لموجات تسونامي في المحيط الهندي " في ضوء العبارة.

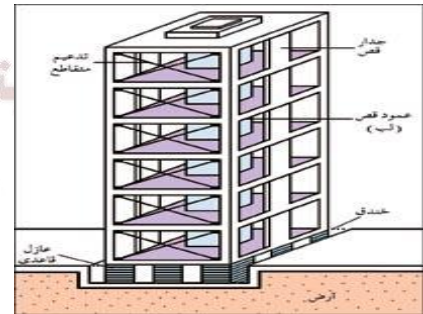
أ. كيف يتم ذلك؟

ب. ما موقف الدول المطلة على المحيط الهندي بعد الكارثة؟

27. استنتجي من الصور الاجراء المستخدم للتقليل من اخطار الزلازل.



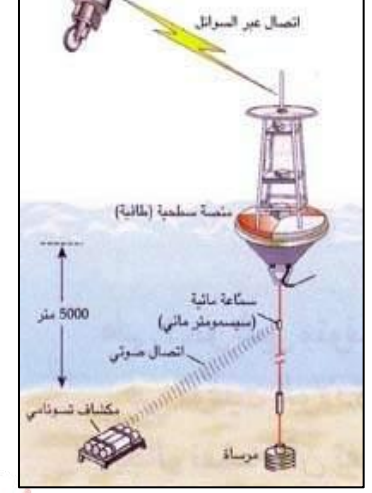
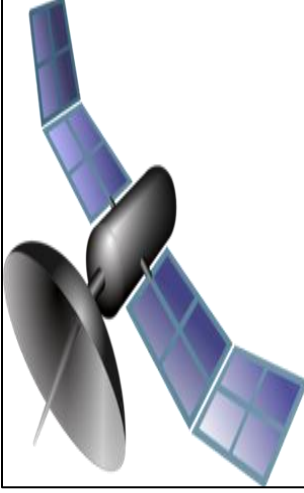
الشكل (٢٦) : تمارين للسكان لتفادي أخطار الزلازل



الصورة الاولى:

الصورة الثانية:

28. تأمل الصور التالية واجيبي عن الآتي:



أ. استنتجي اسم النظام الذي ترتبط به الصور اعلاه.

ب. ما اهمية هذا النظام؟

ج. كيف يعمل؟

د. ما موقف الدول المطلة على المحيط الهندي منه؟

29. ادرسي الخريطة التالية واجيبي عن الآتي:

1. ضعي عنوانا مناسباً للخريطة.

2. ظللي امتداد السواحل العمانية التي أثرت بكارثة " تسونامي "

3. من خلال دراستك لموضوع " اخطار الزلازل والبراكين " اجيبي

عن:

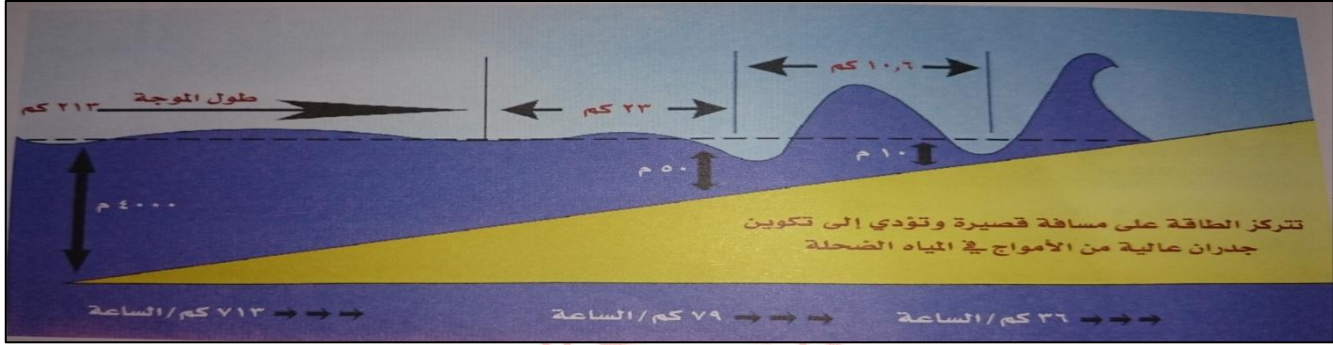
أ. متى كانت الكارثة؟

ب. كم بلغ متوسط ارتفاع امواج البحر داخل اليابسة؟

ج. ما الآثار الناتجة عنها؟



30. ادرسي الصورة التالية واجيبي عن الآتي:

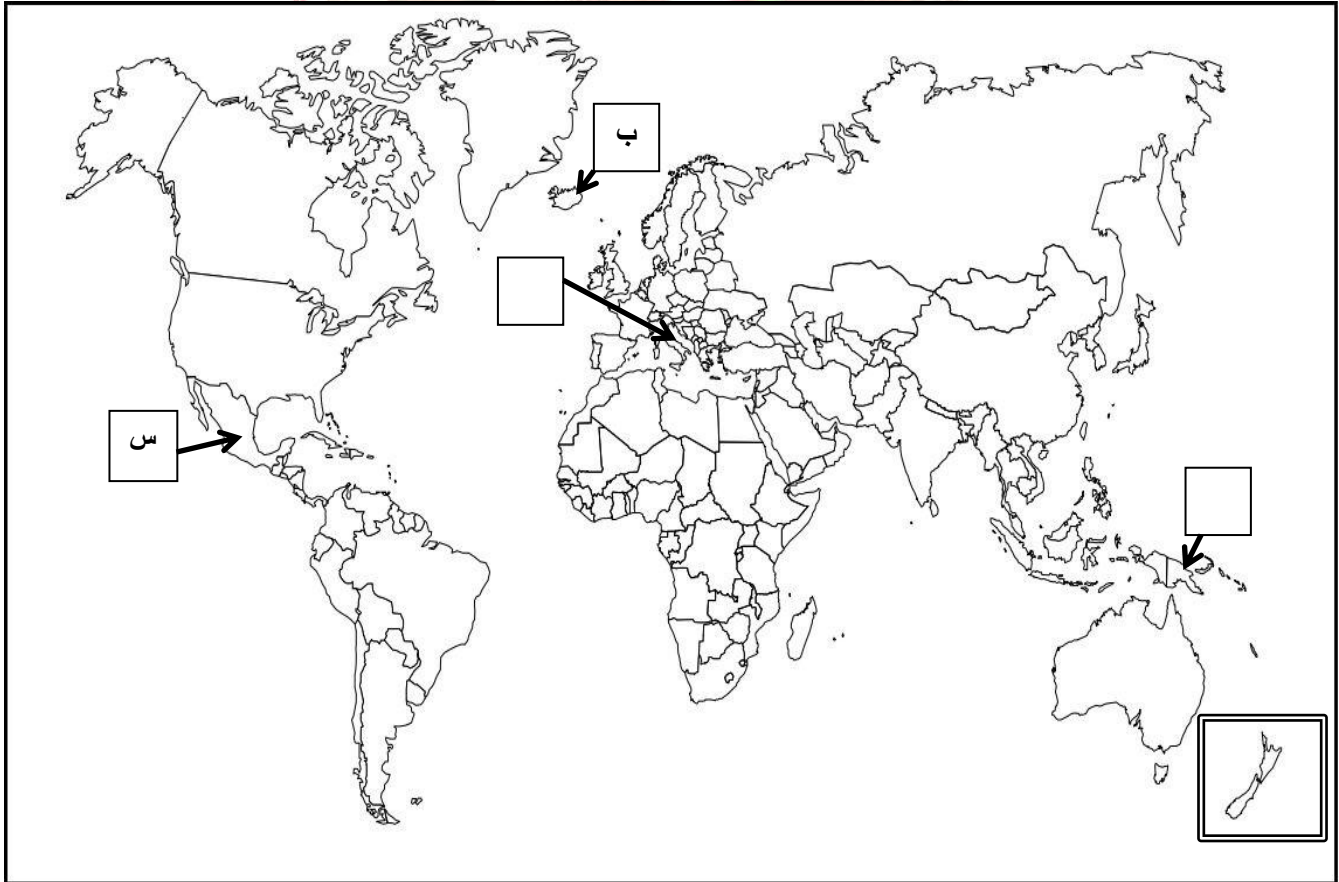


أ. استنتجي ما تمثله الصورة اعلاه.

ب. استخرجي من الصورة كم تكون المسافة التي تتركز فيها الطاقة المؤدية الى تكوين امواج عالية في المياه الضحلة.

ج. كم بلغ ارتفاع الموجة في الداخل بالأمتار؟ وكم سرعتها؟

27. ادرسي الخريطة التالية واجيبي عن الآتي:



أ. ضعي عنوانا مناسباً للخريطة.

ب. ضعي دائرة حول الدولة التي تعرضت الى " اعصار جونو " عام 2007م.

- ج. استخراجي رمز الدولة التي يستخدم سكانها مياه الينابيع البركانية في تدفئة منازلهم.
- د. ظللي الدولة التي تستخدم الطاقة الحرارية الارضية في انتاج الطاقة الكهربائية في قارة امريكا الشمالية باللون الاصفر.
- هـ. ما القارة التي تتبعها الدولة المحاطة بمربع على الخريطة؟
- و. وقي على الخريطة اسم الدولة التي تعرضت لزلزال مقابل جزيرة " هونشو " عام 1896م.
- ز. ظللي الدول التي اصابها المد البحري والمطلة على المحيط الهندي في عام 2004م باللون الاخضر.
- ح. ضعي الرمز " ع " في المربع المناسب الذي يشير الى الدولة التي تستخدم الطاقة الحرارية الارضية في انتاج الطاقة الكهربائية في قارة اوروبا.

اجابة النشاط رقم " 2 " في الكتاب المدرسي ص 56 .

المواد البركانية	اهم الاخطار الناتجة عنها
السحب الترابية	مشكلات على التنفس نتيجة تلوث الهواء
الزلازل البركانية	تدمير المباني واتلاف الاجهزة الكهربائية
الغازات والابخرة	تسمم الحيوانات في المرعى
السيول الطينية	تدمير المزارع والمباني
احتباس ثاني اكسيد الكربون	زيادة ارتفاع حرارة الغلاف الغازي
الحمم والمقذوفات النارية	حرق كل شيء في طريقها

ملتزمون بتحقيق رؤيتنا , الإجابة في موادنا

الصف: العاشر

الفصل الدراسي الثاني

عنوان الوحدة: القوى والتكتلات الاقتصادية

عنوان الدرس: الولايات المتحدة الأمريكية

السؤال الاول : اختاري الاجابة الصحيحة من بين البدائل المعطاة:

1. عاصمة الولايات المتحدة الأمريكية هي :

أ. أوتاوا ب. بكين ج. واشنطن د. طوكيو

2. اكبر مدن الولايات المتحدة الأمريكية هي :

أ. واشنطن ب. بوسطن ج. شيكاغو د. نيويورك

3. اللغة الرسمية لسكان الولايات المتحدة الأمريكية هي :

أ. الانجليزية ب. اليابانية ج. الهانوية د. الفرنسية

4. العملة الرسمية للولايات المتحدة الأمريكية هي :

أ. الين ب. الدولار ج. الجنيه د. اليورو

5. الدولة التي عاصمتها واشنطن هي :

أ. الصين ب. الولايات المتحدة ج. اليابان د. كندا

6. الدولة التي اكبر مدنها " نيويورك " هي :

أ. الصين ب. كندا ج. اليابان د. الولايات المتحدة

7. القارة التي تقع فيها الولايات المتحدة هي :

أ. آسيا ب. أمريكا الجنوبية ج. أوروبا د. أمريكا الشمالية

8. كانت القارة الأمريكية ارضا مجهولة لم يتم اكتشافها بعد حتى العام الميلادي :

أ. 1492 ب. 1592 ج. 1692 د. 1792

9. الملاح الاوروبي الذي اعتقد انه اكتشف القارة الأمريكية :

أ. ماجلان ب. فسبوتشي ج. دياز د. كولمبس

10. اطلق كريستوفر كولمبس على القارة الأمريكية بعد اكتشافه لها اسم جزر:

أ. الهند الشرقية ب. الانتيل ج. الهند الغربية د. المالديف

11. الدولة التي ينسب اليها الملاح الذي اكتشف القارة الأمريكية واطلق عليها اسم جزر الهند الغربية هي:

أ. البرتغال ب. المانيا ج. ايطاليا د. البانيا

12. الدولة التي ينسب اليها الملاح الذي اكتشف ان القارة الامريكية ليست جزءا من الهند بل ارضا جديدة هي:

- أ. البرتغال ب. المانيا ج. ايطاليا د. البانيا

13. الملاح الذي عرف ان القارة الامريكية ليست جزءا من الهند بل ارضا جديدة واعطيت باسمه هو:

- أ. ماجلان ب. فسبوتشي ج. دياز د. كولمبس

14. خريطة الولايات المتحدة الامريكية هي:



15. كانت الولايات المتحدة في الاصل تحت الاستعمار :

- أ. الفرنسي ب. البريطاني ج. الفارسي د. الروسي

16. استقلت الولايات المتحدة الامريكية عن انجلترا في الرابع من يوليو في العام الميلادي:

- أ. 1576 ب. 1676 ج. 1776 د. 1876

17. اول رئيس للولايات المتحدة الامريكية في عام 1776م بعد استقلالها عن انجلترا هو:

- أ. جورج بوش ب. وليام هاريسون ج. جورج واشنطن د. جون كندي

19. ظل " جورج واشنطن " رئيسا للولايات المتحدة الامريكية يشغل هذا المنصب كما نص الدستور بالسنوات لمدة:

- أ. 2 ب. 4 ج. 6 د. 8

20. الجهة الرئيسية التي يحدها " المحيط الاطلسي " الولايات المتحدة الامريكية :

- أ. الشمال ب. الشرق ج. الجنوب د. الغرب

21. الجهة الرئيسية التي يحدها " المحيط الهادي " الولايات المتحدة الامريكية :

- أ. الشمال ب. الشرق ج. الجنوب د. الغرب

22. الجهة الرئيسية التي تحد فيها " كندا " الولايات المتحدة الامريكية :

- أ. الشمال ب. الشرق ج. الجنوب د. الغرب

23. الجهة الرئيسية التي تحد فيها " المكسيك وخليج المكسيك " الولايات المتحدة الامريكية :

- أ. الشمال ب. الشرق ج. الجنوب د. الغرب

24. المحيط الذي يحده الولايات المتحدة الأمريكية من جهة الغرب :

- أ. الهادي ب. الهندي ج. الاطلسي د. المتجمد الشمالي

25. المحيط الذي يحده الولايات المتحدة الأمريكية من جهة الشرق :

- أ. الهادي ب. الهندي ج. الاطلسي د. المتجمد الشمالي

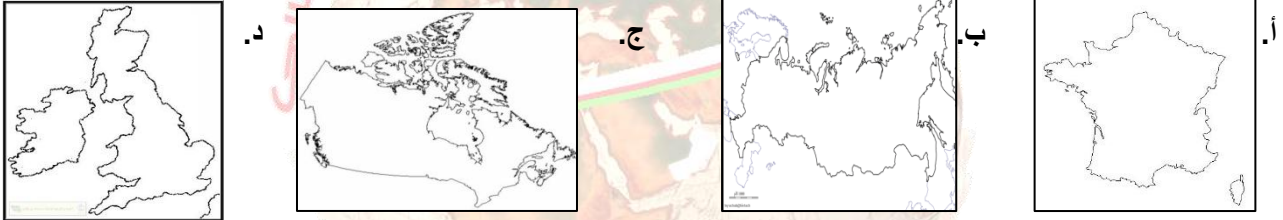
26. الدولة الأمريكية التي تحده الولايات المتحدة الأمريكية من جهة الشمال :

- أ. المكسيك ب. البرتغال ج. كندا د. البرازيل

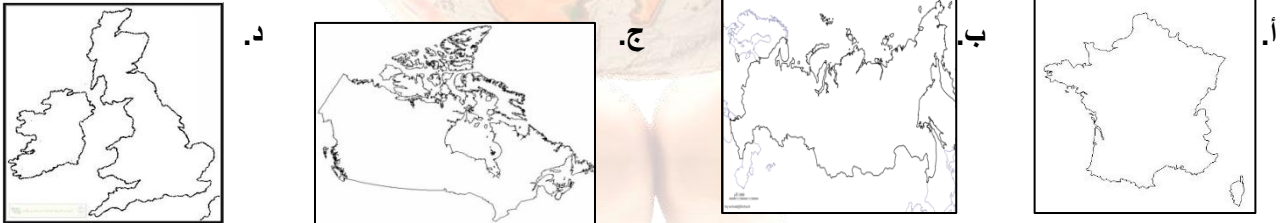
27. الدولة الأمريكية التي تحده الولايات المتحدة الأمريكية من جهة الجنوب :

- أ. المكسيك ب. البرتغال ج. كندا د. البرازيل

28. خريطة الدولة الأمريكية التي تحده الولايات المتحدة الأمريكية من جهة الشمال:



29. خريطة الدولة الأمريكية التي تحده الولايات المتحدة الأمريكية من جهة الشمال:



30. عدد الولايات التي تضمها الولايات المتحدة الأمريكية : الإجابة في موادنا

- أ. 40 ب. 45 ج. 50 د. 55

31. الولاية الأمريكية التابعة للولايات المتحدة الأمريكية الواقعة خارج حدود أراضيها الى الشمال الغربي من كندا هي:

- أ. كولومبيا ب. الاسكا ج. شيكاغو د. هاواي

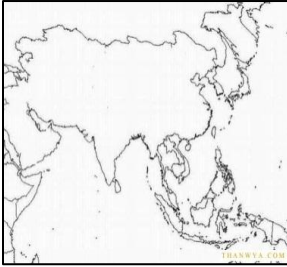
32. الولاية الأمريكية التابعة للولايات المتحدة الأمريكية والتي تم شراؤها من روسيا عام 1867م هي:

- أ. الاسكا ب. كولومبيا ج. شيكاغو د. هاواي

33. الدولة المالكة لـ " الاسكا " قبل شراء الولايات المتحدة الأمريكية لها عام 1867م هي:

أ. كندا ب. المكسيك ج. روسيا د. بريطانيا

34. خريطة القارة التي تقع فيها الولايات المتحدة الأمريكية هي :



د.



ج.



ب.



أ.

35. الجهة الفرعية التي تقع فيها " الاسكا " بالنسبة لدولة كندا هي :

أ. الشمال الشرقي ب. الجنوب الغربي ج. الشمال الغربي د. الجنوب الشرقي

36. قامت الولايات المتحدة الأمريكية بشراء " الاسكا " من روسيا في العام الميلادي :

أ. 1864 ب. 1865 ج. 1866 د. 1867

37. الولاية الأمريكية التابعة للولايات المتحدة الأمريكية والواقعة في المحيط الهادي واصبحت ولاية عام 1959م هي :

أ. كولومبيا ب. الاسكا ج. شيكاغو د. هاواي

38. اصبحت جزر هاواي الواقعة في المحيط الهادي ولاية في العام الميلادي :

أ. 1492 ب. 1867 ج. 1959 د. 1995

39. المسطح المائي الذي تقع فيه " جزر هاواي " التابعة للولايات المتحدة الأمريكية هو :

أ. المحيط الهادي ب. المحيط الهندي ج. المحيط الاطلسي د. المتجمد الشمالي

40. تتميز الولايات المتحدة الأمريكية بتنوع المناخات حيث يصل عدد الاقاليم المناخية فيها حوالي :

أ. 3 ب. 5 ج. 6 د. 9

41. يعود سبب تنوع المجتمع الأمريكي الى زيادة معدلات :

أ. المواليد ب. المهاجرين ج. الوفيات د. السياح

42. الفترة الزمنية بين التعدادات السكانية التي تجريها الولايات المتحدة الأمريكية بالسنوات :

أ. 8 ب. 9 ج. 10 د. 11

45. اول التعدادات السكانية التي اجرتها الولايات المتحدة الامريكية في العام الميلادي:

- أ. 1789 ب. 1790 ج. 1791 د. 1792

46. بلغ عدد سكان الولايات المتحدة الامريكية بناء على التعداد السكاني في عام 1790م بالمليون نسمة:

- أ. 3 ب. 4 ج. 5 د. 6

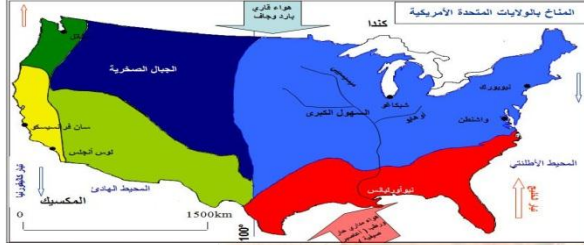
47. يصل عدد سكان الولايات المتحدة الامريكية حاليا بالمليون نسمة:

- أ. 300 ب. 400 ج. 500 د. 600

48. المرتبة التي تحتلها الولايات المتحدة عالميا من حيث عدد السكان:

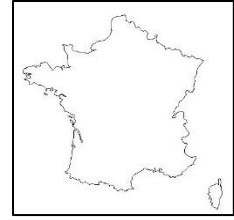
- أ. الاولى ب. الثانية ج. الثالثة د. الرابعة

49. يصل عدد الاقاليم المناخية في الولايات المتحدة الامريكية بالاستعانة بالخريطة المقابلة:



- أ. 3 ب. 4 ج. 5 د. 6

50. خريطة الدولة التي عاصمتها واشنطن هي :



د.

ج.

ب.

أ.

51. الدولة التي تحتل المرتبة الاولى عالميا من حيث عدد السكان على اراضيها:

- أ. الولايات المتحدة ب. الصين ج. المملكة المتحدة د. اليابان

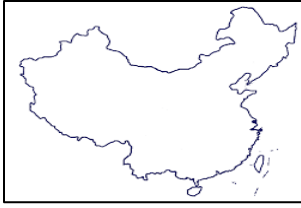
52. الدولة التي تحتل المرتبة الثانية عالميا من حيث عدد السكان على اراضيها:

- أ. الولايات المتحدة ب. الصين ج. المملكة المتحدة د. اليابان

53. الدولة التي تحتل المرتبة الثالثة عالميا من حيث عدد السكان على اراضيها:

- أ. الولايات المتحدة ب. الصين ج. المملكة المتحدة د. اليابان

54. خريطة الدولة التي تحتل المرتبة الاولى عالميا من حيث عدد السكان على اراضيها:



د.



ج.

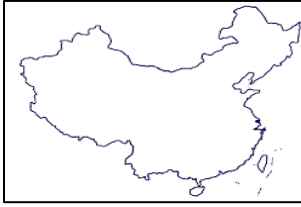


ب.



أ.

55. خريطة الدولة التي تحتل المرتبة الثانية عالميا من حيث عدد السكان على اراضيها:



د.



ج.

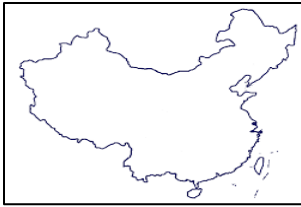


ب.



أ.

56. خريطة الدولة التي تحتل المرتبة الثالثة عالميا من حيث عدد السكان على اراضيها:



د.



ج.



ب.



أ.

57. السكان الاصليين للقارة الامريكية والولايات المتحدة هم:

د. الاغريق

ج. الفرنسيين

ب. الهنود

أ. الانجليز

58. المنطقة الاكثر ارتفاعا لمعدل المهاجرين منها الى الولايات المتحدة الامريكية هي:

د. آسيا

ج. امريكا الجنوبية

ب. اوروبا

أ. امريكا الوسطى

59. اقل الجنسيات هجرة الى الولايات المتحدة الامريكية هم:

د. الاسيويين

ج. الكنديين

ب. الاستراليين

أ. الافارقة

60. وصلت معدلات الهجرة اعلاها الى الولايات المتحدة

الامريكية بالمليون نسمة في العام الميلادي من خلال الشكل:

ب. 1970

أ. 1960

د. 1990

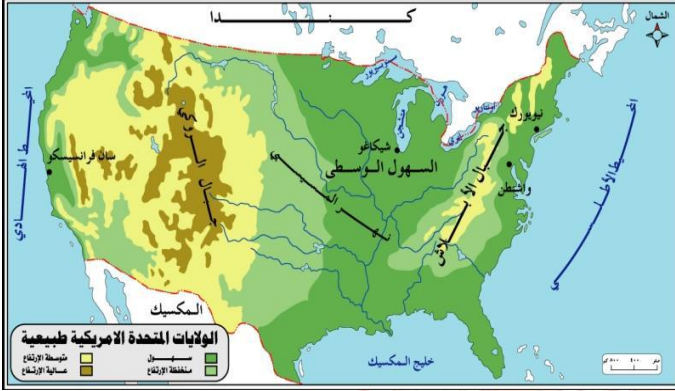
ج. 1980



61. وصلت معدلات الهجرة ادناها الى الولايات المتحدة الامريكية بالمليون نسمة في العام الميلادي من خلال الشكل:

أ. 1960 ب. 1970

ج. 1980 د. 1990



62. الشكل التضاريسي الذي يعتبر من اهم المناطق الزراعية

الاکثر خصوبة عالميا في الولايات المتحدة الامريكية

من خلال الشكل المقابل:

أ. السهول ب. الصحاري

ب. الجبال د. الهضاب

63. بدأت ثورة الاتصالات والكمبيوتر في الولايات المتحدة الامريكية بعد الحرب:

أ. العالمية الاولى ب. الباردة ج. العالمية الثانية د. الخليج

64. يتميز الاقتصاد الامريكي في الناتج القومي الاجمالي للبلاد من حيث معدل النمو ب:

أ. الاستقرار ب. الانخفاض ج. التذبذب د. الارتفاع

65. الطرف الثاني للصراع السياسي مع الولايات المتحدة الامريكية في الحرب الباردة هو:

أ. الاتحاد السوفيتي ب. بريطانيا ج. استراليا د. فرنسا

66. انتهت الحرب الباردة بانهيار الاتحاد السوفيتي في تسعينات من مطلع القرن الميلادي:

أ. 18 ب. 19 ج. 20 د. 21

67. تعرضت الولايات المتحدة الامريكية الى ما يعرف ب " الكساد الكبير " في العام الميلادي:

أ. 1928 ب. 1929 ج. 1931 د. 1932

68. الدولة التي تعرض اقتصادها الى ما يعرف ب " الكساد الكبير " عام 1929م:

أ. المملكة المتحدة ب. بريطانيا ج. الولايات المتحدة د. فرنسا

69. بلغ عدد الايدي العاملة التي تعطلت عن العمل بسبب الكساد الكبير في الولايات المتحدة عام 1929م بالمليون عامل :

أ. 10 ب. 20 ج. 30 د. 40

70. تمكنت الولايات المتحدة الامريكية من انعاش اقتصادها مرة اخرى بعد الكساد الكبير في العام الميلادي:

أ. 1929 ب. 1930 ج. 1931 د. 1932

71. اكبر القطاعات التي يركز عليها الاقتصاد الامريكي وتصل نسبته المئوية " 76% " من الناتج الاجمالي القومي هو قطاع:

أ. الزراعة ب. الصناعة ج. الخدمات د. الصيد

72. اقل القطاعات التي يركز عليها الاقتصاد الامريكي وتصل نسبته المئوية " 1.2% " من الناتج الاجمالي القومي هو قطاع:

أ. الزراعة ب. الصناعة ج. الخدمات د. الصيد

73. القطاع الذي يحتل المرتبة الثانية في الاقتصاد الامريكي وتصل نسبته المئوية " 22.1% " من الناتج الاجمالي القومي هو قطاع:

أ. الزراعة ب. الصناعة ج. الخدمات د. الصيد

74. النسبة المئوية لقطاع الزراعة في الاقتصاد الامريكي من الناتج الاجمالي القومي حوالي:

أ. 76.2 ب. 22.1 ج. 1.2 د. 1

75. النسبة المئوية لقطاع الصناعة في الاقتصاد الامريكي من الناتج الاجمالي القومي حوالي:

أ. 76.2 ب. 22.1 ج. 1.2 د. 1

76. النسبة المئوية لقطاع الخدمات في الاقتصاد الامريكي من الناتج الاجمالي القومي حوالي:

أ. 76.2 ب. 22.1 ج. 1.2 د. 1

77. تصل النسبة المئوية للقطاع المشار اليه بالرمز " س " في الشكل المقابل حوالي:

أ. 76.2 ب. 22.1

ج. 1.2 د. 1

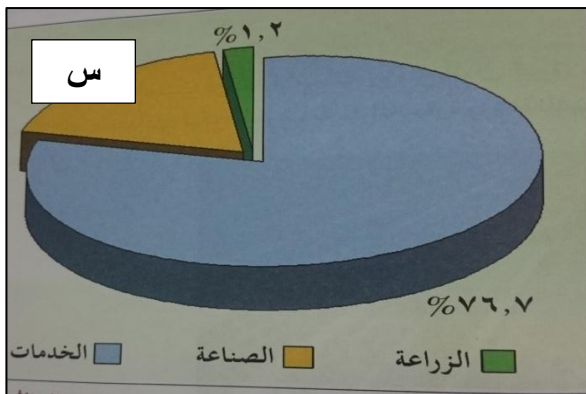
78. اقل القطاعات التي يركز عليها الاقتصاد الامريكي من الناتج الاجمالي القومي في الشكل المقابل هو قطاع:

أ. الزراعة ب. الصناعة

ج. الخدمات د. الصيد

79. النسبة المئوية لمساهمة الاراضي الصالحة للزراعة في الولايات المتحدة الامريكية حوالي:

أ. 16 ب. 17 ج. 18 د. 19



80. تتركز المناطق السهلية الأكثر خصوبة على مستوى العالم بالنسبة للولايات المتحدة الأمريكية في:

أ. الشمال ب. الغرب ج. الجنوب د. الوسط

81. اتسمت أهمية الزراعة الأمريكية من حيث عدد العاملين من عام (1930 – 2009 م) بالمليون عامل ب :

أ. التناقص ب. الاستقرار ج. التذبذب د. الانخفاض

82. وصل عدد العاملين في قطاع الزراعة الأمريكية في عام 1930م بالمليون عامل حوالي:

أ. 11 ب. 11.5 ج. 12 د. 12.5

83. وصل عدد العاملين في قطاع الزراعة الأمريكية في عام 2009م بالمليون عامل حوالي:

أ. 1 ب. 2 ج. 3 د. 4

84. تتصدر الولايات المتحدة الأمريكية من حيث الإنتاج الزراعي العالمي حالياً المراكز:

أ. الأخيرة ب. الثانية ج. الأولى د. المتوسطة

85. المورد الطبيعي المستخرج من جبال الابلاش والروكي والسهول الوسطى في الولايات المتحدة الأمريكية هو :

أ. الفضة ب. النحاس ج. الذهب د. الفحم

86. المورد الطبيعي الذي تعتمد عليه الولايات المتحدة الأمريكية بأكثر من نصف الاستهلاك هو :

أ. الفحم ب. النحاس ج. الذهب د. الفضة

87. مصدر الطاقة الذي تعتمد عليه الولايات المتحدة الأمريكية الأكثر استهلاكاً هو :

أ. النفط ب. الغاز ج. الفحم د. الذرة

88. مصدر الطاقة الذي تصل نسبته المئوية " 25% " في الولايات المتحدة الأمريكية هو:

أ. النفط ب. الغاز ج. الفحم د. الذرة

89. مصدر الطاقة الذي تصل نسبته المئوية " 21% " في الولايات المتحدة الأمريكية هو:

أ. النفط ب. الغاز ج. الفحم د. الذرة

90. مصدر الطاقة الذي تصل نسبته المئوية " 9% " في الولايات المتحدة الأمريكية هو:

أ. النفط ب. الغاز ج. الفحم د. الذرة

91. تصل النسبة المئوية لاستهلاك " الفحم " في الولايات المتحدة الأمريكية كمصدر للطاقة حوالي:

أ. 37 ب. 25 ج. 21 د. 9

92. تصل النسبة المئوية لاستهلاك " الغاز " في الولايات المتحدة الامريكية كمصدر للطاقة حوالي:

- أ. 37 ب. 25 ج. 21 د. 9

93. تصل النسبة المئوية لاستهلاك " النفط " في الولايات المتحدة الامريكية كمصدر للطاقة حوالي:

- أ. 37 ب. 25 ج. 21 د. 9

94. تصل النسبة المئوية لاستهلاك " الطاقة النووية " في الولايات المتحدة الامريكية كمصدر للطاقة حوالي:

- أ. 37 ب. 25 ج. 21 د. 9

95. تصل النسبة المئوية لاستهلاك " الطاقة المتجددة " في الولايات المتحدة الامريكية كمصدر للطاقة حوالي:

- أ. 37 ب. 8 ج. 21 د. 9

96. الرمز الذي يشير الى استهلاك " الغاز " في الولايات المتحدة الامريكية

كمصدر للطاقة من خلال الشكل المقابل حوالي:

- أ. س ب. ص

- ج. ع د. ل

97. تصل النسبة المئوية لمصدر الطاقة المشار اليه

بالرقم " 1 " في الشكل المقابل حوالي:

- أ. 37 ب. 8

- ج. 21 د. 9

98. تتركز معظم معامل انتاج النسيج في الولايات المتحدة الامريكية في ولاية " كارولينا الجنوبية و:

- أ. كولومبيا ب. جورجيا ج. كاليفورنيا د. بنسلفانيا

99. الدولة الصناعية التي تمثل اكبر تحدي للمنتجات الامريكية لصناعة النسيج في الاسواق العالمية هي:


- أ. اليابان ب. الهند ج. الصين د. تاوان

100. القطاع الصناعي الذي يعد ركيزة الصناعات الامريكية هو:

- أ. النسيج ب. التعدين ج. الكمبيوتر د. السيارات

101. الصناعة الامريكية التي استخدمت آلة " الروبوت " في غالبية مناطق الانتاج هي:

- أ. النسيج ب. التعدين ج. الكمبيوتر د. السيارات



102. الصناعة التي تمثل الصناعات القديمة في الولايات المتحدة الأمريكية:

- أ. النسيج ب. التعدين ج. الكمبيوتر د. السيارات

103. الصناعة التي تمثل عاصمتها مدينة " ديترويت " في الولايات المتحدة الأمريكية عالميا:

- أ. النسيج ب. التعدين ج. الكمبيوتر د. السيارات

104. يصل انتاج مدينة " ديترويت " من السيارات في العام الواحد بالمليون سيارة:

- أ. 7 ب. 8 ج. 9 د. 10

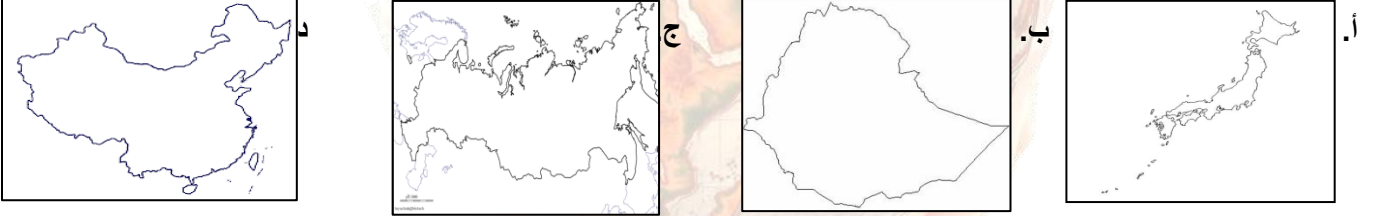
105. الولاية الأمريكية التي تعد عاصمة صناعة السيارات في العالم هي:

- أ. كولومبيا ب. ديترويت ج. كاليفورنيا د. نيويورك

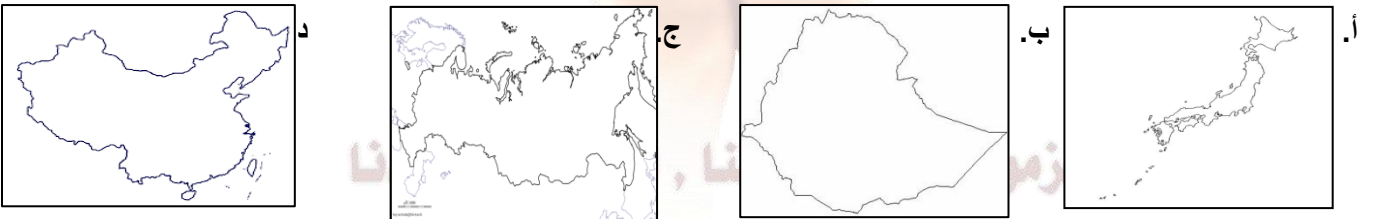
106. الدولة التي تنافس الولايات المتحدة الأمريكية في صناعة السيارات في الاسواق العالمية:

- أ. اليابان ب. الهند ج. الصين د. تايبان

107. خريطة الدولة الصناعية التي تمثل اكبر تحدي للمنتجات الأمريكية لصناعة النسيج في الاسواق العالمية هي:



108. خريطة الدولة التي تنافس الولايات المتحدة الأمريكية في صناعة السيارات في الاسواق العالمية:



109. المرتبة التي تحتلها الولايات المتحدة الأمريكية في انتاج السيارات عالميا:

- أ. الاولى ب. الثانية ج. الثالثة د. الرابعة

110. النسبة المئوية لإنتاج الولايات المتحدة الأمريكية من السيارات عالميا عام 2011م:

- أ. 10.7 ب. 10.8 ج. 10.9 د. 10.10

111. بلغت نسبة انتاج السيارات في الولايات المتحدة الأمريكية عالميا " 10.8 " في العام الميلادي:

د. 2012

ج. 2011

ب. 2010

أ. 2009

112. المنطقة التي تعتبر اهم منطقة علمية وصناعية متقدمة في حقل الكمبيوتر في الولايات المتحدة الامريكية:

أ. سان خوسيه ب. سان ماتييو ج. سان رفايل د. سيلكون فالي

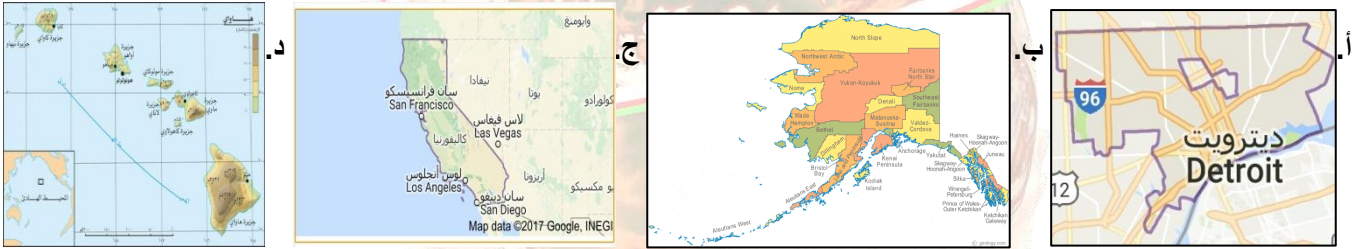
113. الولاية الامريكية التي توجد بها اهم منطقة علمية وصناعية متقدمة في حقل الكمبيوتر في الولايات المتحدة الامريكية:

أ. كولومبيا ب. ديترويت ج. كاليفورنيا د. نيويورك

114. الصناعة التي تتميز بها ولاية كاليفورنيا الامريكية عن بقية الولايات :

أ. الاسلحة ب. الكمبيوتر ج. الاثاث د. معدات البناء

115. خريطة الولاية الامريكية التي توجد بها اهم منطقة علمية وصناعية متقدمة في حقل الكمبيوتر في الولايات المتحدة الامريكية:



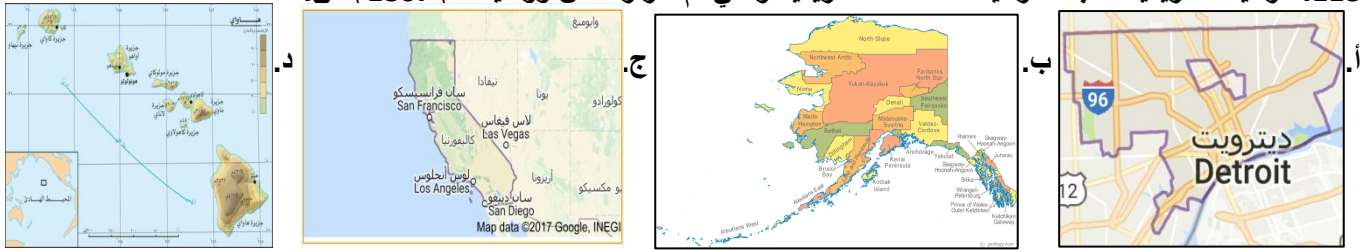
116. خريطة الولاية الامريكية التي تتركز معظم معامل انتاج النسيج في الولايات المتحدة الامريكية مع ولاية " كارولينا الجنوبية و:



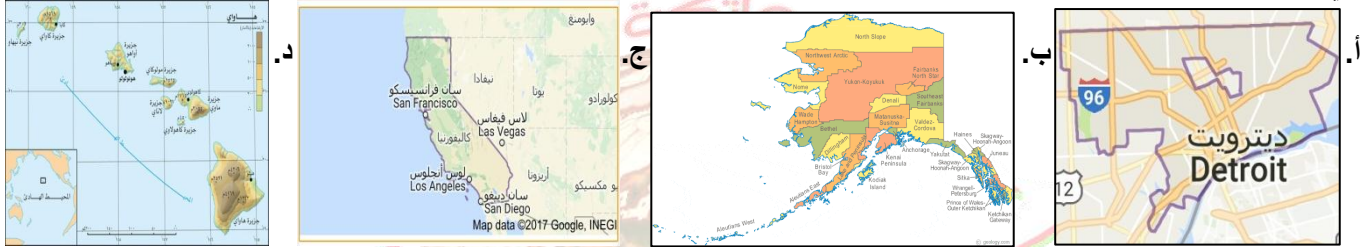
117. خريطة الولاية الامريكية التي تعد عاصمة صناعة السيارات في العالم هي:



118. الولاية الامريكية التابعة للولايات المتحدة الامريكية والتي تم شراؤها من روسيا عام 1867م هي:



119. خريطة الولاية الامريكية التابعة للولايات المتحدة الامريكية الواقعة خارج حدود اراضيها الى الشمال الغربي من كندا هي:



120. وقعت الولايات المتحدة الامريكية مع سلطنة عمان اتفاقية التجارة الحرة في 19/ يناير / في العام الميلادي:

أ. 2003 ب. 2004 ج. 2005 د. 2006

121. الترتيب التنازلي الصحيح لنسبة مساهمة القطاعات المختلفة في الناتج القومي الاجمالي الامريكي هو:



122. الدولة التي تنتج شركاتها نوع السيارات في الصورة المقابلة هي:



أ. اليابان ب. كندا

ج. الصين د. الولايات المتحدة

123. الشركة الامريكية المنتجة للسيارة في الصورة المقابلة هي:

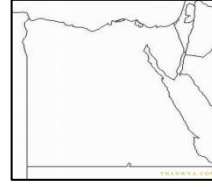
أ. كرايسلر ب. فورد

ج. هوندا د. جنرال موتورز

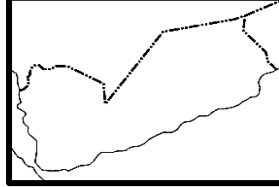
124. خريطة الدولة وقعت الولايات المتحدة الامريكية مع سلطنة عمان اتفاقية التجارة الحرة في 19/ يناير / 2006 م :



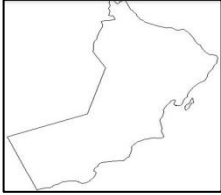
أ.



ب.



ج.



د.

125. خريطة الدولة التي تعرضت لإعصاري " كاترينا / ريتا " عام 2005 م :



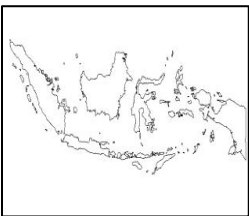
أ.



ب.

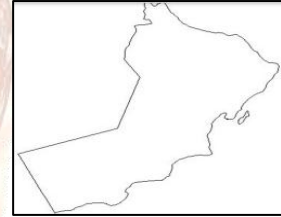


ج.



د.

126. خريطة الدولة التي تعرضت لإعصاري " فيت " عام 2010 م :



أ.



ب.



ج.



د.

127. الدولة التي تعرضت لإعصاري " ريتا " عام 2005 م :

أ. اليابان

ب. اندونيسيا

ج. الولايات المتحدة

د. سلطنة عمان

128. تعرضت الولايات المتحدة لإعصار " كاترينا " في العام الميلادي :

أ. 2004

ب. 2005

ج. 2007

د. 2008

128. تصل النسبة المئوية للمنتجات الاستهلاكية والصناعية المعفاة من الرسوم الجمركية حسب الاتفاقية بين سلطنة عمان والولايات المتحدة الأمريكية الموقعة عام 2006 م :

أ. 70

ب. 80

ج. 90

د. 100

129. تتخصص المنطقة في الصورة المقابلة كاهم منطقة علمية في صناعة:

أ. السيارات

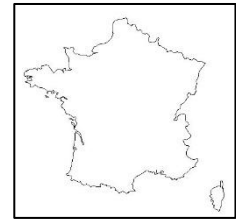
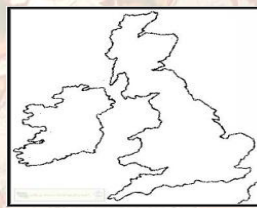
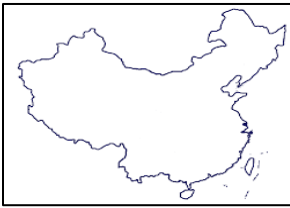
ب. الاثاث

ج. الكمبيوتر

د. المواد الطبية

أ. بنسلفانيا
ج. ديترويت
ب. كاليفورنيا
د. جورجيا

132. خريطة الدولة التي فرضت استعمارها على الولايات المتحدة الأمريكية هي:



1. "مكتشف القارة الامريكية المعروفة حاليا هو كريستوفر كولمبس"

موافق ☒ غير موافق ☐

التفسير :

2. ارسامي جدولاً بالملاحين التاليين : بتحقيق رؤيتنا , الإجابة في موادنا

ا. کریستوفر کولمبس۔

ب. امریکو فسیوتشی.

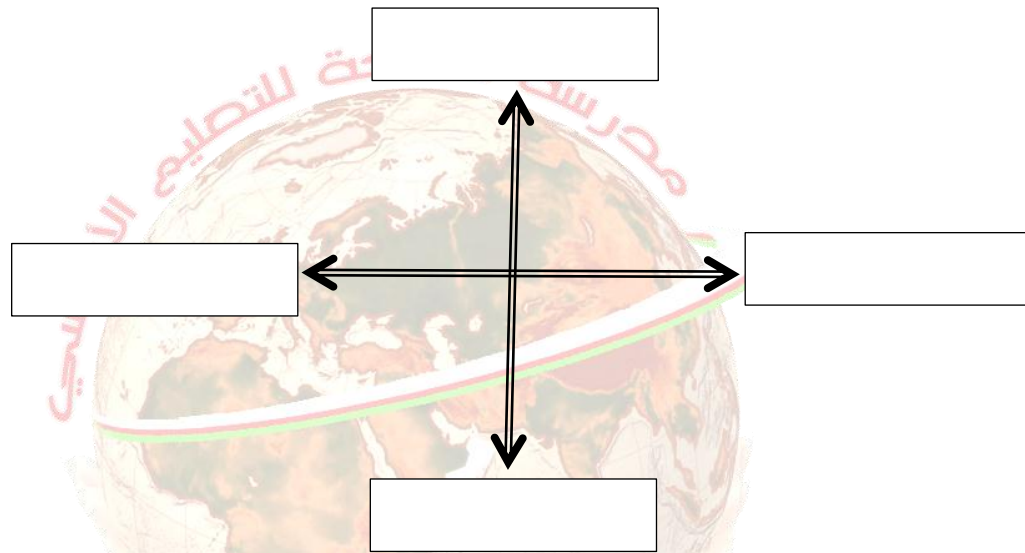
الجنسية	العام الميلادي	الارض المكتشفة	الملاح

--	--	--	--

3. وضح حركة الهجرة التي شهدتها القارة الامريكية منذ القرن السابع عشر الميلادي وحتى ما يقارب اكثر من ثلاثة قرون.

4. " كانت الولايات المتحدة في الاصل مستعمرة انجليزية " كيف كان استقلالها وبرئاسة من ؟

6. " تقع الولايات المتحدة في قارة امريكا الشمالية " ما الحدود التي تحدها من الجهات التالية؟



7. عللي تنوع اشكال السطح في الولايات المتحدة الامريكية.

8. صممي خريطة ذهنية باستخدام نموذج " فراير " بعنوان الولايات المتحدة الامريكية على ان يشمل :

الموقع الجغرافي:	التقسيم الاداري:
اقسام سطح الارض:	عدد الاقاليم المناخية:

9. قارني بين ولايتي " آلاسكا " و " جزر هاواي " من حيث:

وجه المقارنة	آلاسكا	جزر هاواي
الموقع الجغرافي		
الدولة المالكة لها سابقا		
سنة الشراء / اعتبارها ولاية		

10. ارسمي خريطة مفاهيم بأشكال السطح في الولايات المتحدة الامريكية.

11. " يتميز المجتمع الامريكي بانه الاكثر تنوعا بين الامم " وضح ذلك.

12. فسري تنوع المجتمع الامريكي.

13. " تجري الولايات المتحدة احصاء عاما للسكان كل عشر سنوات " في ضوء العبارة:

أ. متى كان اول تعداد سكاني لها.

ب. ما ترتيب الولايات المتحدة عالميا من حيث عدد السكان؟

ج. كم بلغ عدد السكان في اول تعداد سكاني وكم يبلغ اليوم ؟

العدد في اول تعداد	العدد اليوم

14. " تعرضت الولايات المتحدة الامريكية لهجرات عرقية متنوعة مما اثر على ثقافة البلد بالموطن الاصلي لهؤلاء المهاجرين " دلي على ذلك بمثال.

15. ارسمي خريطة مفاهيم بالجوانب التي يركز عليها الاقتصاد الامريكي.

16. عرفي المفاهيم التالية :

أ. الناتج الاجمالي القومي.

ب. الناتج الاجمالي المحلي.

ج. الحرب الباردة .

د. الكساد الكبير.

هـ. القيمة المضافة الصناعية.

و. رؤوس الاموال.

ز. الروبوت.

17. ما السمة المميزة للاقتصاد الامريكي بالنسبة للنتائج الاجمالي القومي للبلاد؟

18. ارسمي جدولاً بعنوان الحرب الباردة على ان يشمل:

<p>طرفا النزاع:</p>	<p>التعريف:</p>
<p>النتيجة:</p>	<p>سبب التسمية:</p>

19. ارسمي جدولاً بعنوان " النمو المتسارع للاقتصاد الامريكي على ان يشمل:

العوامل	مقومات النجاح
الموارد الطبيعية	
التعليم التقني والتعليم المهني	
الايدي العاملة	
التي تلبي حاجة المستهلك	
القيادات الادارية	

20. اعط امثلة للالزامات الاقتصادية التي تعرضت لها الولايات المتحدة الأمريكية.

21. صمم جدولاً بعنوان " الكساد الكبير " باستخدام نموذج فراير:

التعريف:	النتائج العالمية:
العام الميلادي:	سنة اجتيازها:

22. كم تقدر النسبة المئوية لمساحة الاراضي الزراعية في الولايات المتحدة الامريكية؟

23. اين تتركز اهم المناطق الزراعية الاكثر خصوبة على مستوى العالم في الولايات المتحدة الامريكية؟

24. عللي تنوع المحاصيل الزراعية في الولايات المتحدة الامريكية.

25. اعط امثلة لاهم المحاصيل الزراعية انتاجا في الولايات المتحدة الامريكية.

26. " كانت الزراعة الامريكية تأخذ جانبا اكبر من الاهمية في اقتصاد الولايات المتحدة الامريكية ولكن بمرور الوقت بدأت هذه الاهمية تتناقص خاصة من حيث عدد العاملين فيها " برهني على صحة العبارة بالبيانات الاحصائية.

27. امامك مجموعة من الجوانب المرتبطة بالمشكلات التي تتعرض الزراعة في الولايات المتحدة الامريكية صنفها في الجدول الى المشكلة المرتبطة بها " تكس السلع والبضائع / الاستدانة من البنوك المخصصة / العواصف والاعاصير / مشاكل على المياه والتربة / الفيضانات "

المناخ	ضعف السوق	التلوث	رأس المال

28. ارسمي جدولا بأهم الصناعات الامريكية:

صناعات اخرى	النسيج				التعدين		
	التحديات	مراحل الانتاج		الولايات	الاهمية	امثلة	عوامل الازدهار
		داخليا	خارجيا				

29. ارسمي جدولا بعنوان صناعة السيارات على ان يشمل:

اهم المدن	الموقع	الانتاج بالمليون	شركات السيارات الكبرى	الوسيلة المستخدمة في الانتاج	الانتاج عام 2011م بالنسبة للعالمي	ترتيب الولايات عالميا

30. فسري اقامة بعض رجال الاعمال مصانع انتاج النسيج في المكسيك خارج الولايات المتحدة الامريكية.

31. " يسيطر قطاع الخدمات اليوم على النظام الاقتصادي الامريكي " وضحي.

32. صممي خريطة ذهنية بعنوان الخدمات على ان يشمل : الإجابة في موادنا

<p>الاهمية:</p> <p>انواع الخدمات:</p>	
<p>القيمة الحقيقية للقطاع:</p>	<p>امثلة:</p>

33. " تبرز أهمية قطاع الخدمات في كونه يمثل العمليات الرئيسية اللازمة لسير القطاعات الأخرى " وضح.

34. ارسلي جدولاً بعنوان التعاون العماني الأمريكي على أن يشمل:

اسم الاتفاقية	طرفا الاتفاقية	العام الميلادي	بنود الاتفاقية	الفائدة التي تعود على السلطنة

35. ادرسي الصورة التالية واجيبي عن الآتي:

أ. ضعي عنواناً مناسباً لها.

ب. استنتجي نوعي المصادر التي يشملها من

حيث الاستمرارية.


ج. ما المصدر الأكثر اعتماداً عليه؟

د. إلى أي الدول ينتمي؟

هـ. كم تصل نسبة استهلاك المصدر المشار إليه بالرمز " س "؟

و. احسبي الفرق بين استهلاك مصادر الطاقة المتجددة وغير المتجددة من الشكل.

ز. حولي البيانات الواردة في الشكل إلى أعمدة بيانية باستخدام ورق الرسم البياني.



36. ادرسي الشكل التالي واجيبي عن الآتي:

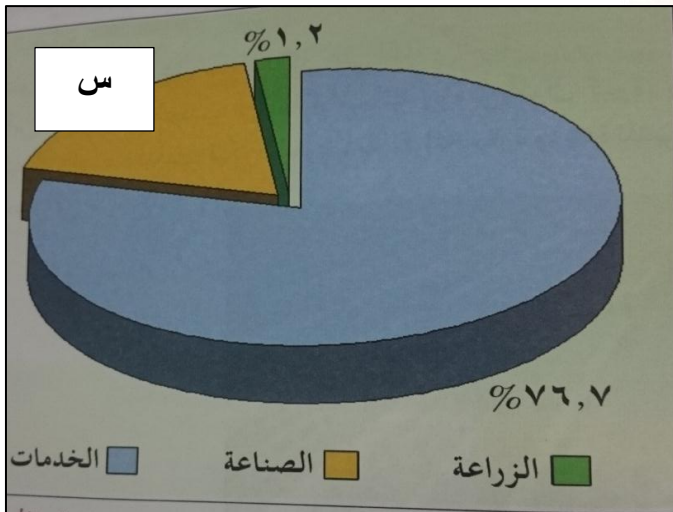
أ. ضعي عنواناً مناسباً للشكل.

ب. استنتجي القطاعات التي يركز عليها الاقتصاد لهذه الدولة.

ج. ما الدولة التي ترتبط بهذا الشكل؟

د. استخرجي:

1. أكبر القطاعات من حيث النسبة المئوية .



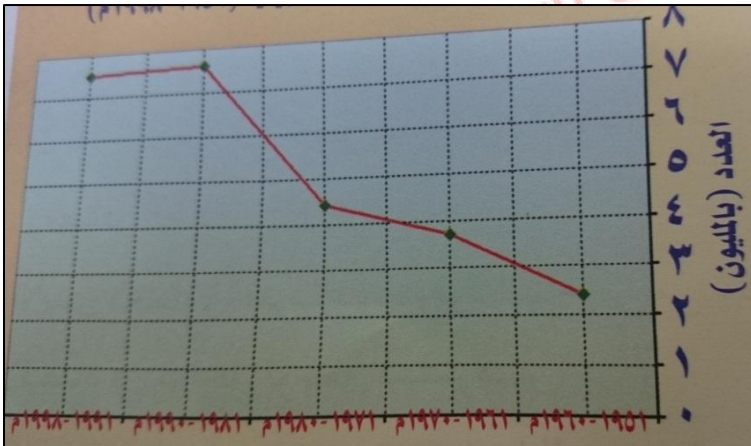
2. أقل القطاعات من حيث النسبة المئوية.

د. احسبي نسبة مساهمة القطاع " س " .

هـ. احسبي مجموع قطاعي الزراعة والخدمات.

و. حولي البيانات الواردة في الشكل الى اعمدة بيانية باستخدام ورق الرسم البياني.

37. ادرسي الشكل التالي واجيبي عن الآتي:



أ. ضعي عنوانا مناسباً للشكل.

ب. استنتجي الفترة الزمنية التي يشملها الشكل.

ج. كم بلغ عدد السكان القادمين عام 1970م.

د. ما الملاحظ على شكل المنحنى في الشكل؟

هـ. ما الدولة الامريكية التي يرتبط بها الشكل؟

ز. ما نوع الزيادة السكانية التي يشير اليها الشكل؟

و. كيف اثرت هذه الظاهرة على المجتمع الامريكي؟

38. ادرسي الشكل التالي واجيبي عن الآتي:



أ. استنتجي ما يشير اليه الشكل المقابل.

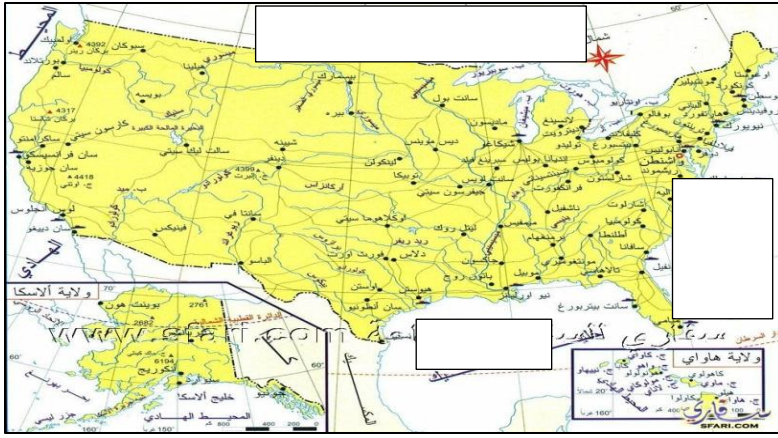
ب. كم تصل نسبة المهاجرين من كندا الى الولايات المتحدة؟

ج. من اين وفد اعلى نسبة مهاجرين الى امريكا الوسطى؟

د. احسبي الفرق بين نسبة المهاجرين من قارة اوربوا وامريكا الجنوبية.

هـ. رتبي " افريقيا / استراليا / آسيا " ترتيبا تنازليا من

حيث نسبة المهاجرون الى الولايات المتحدة.



39. ادرسي الخريطة التالية واجيبي عن الآتي:

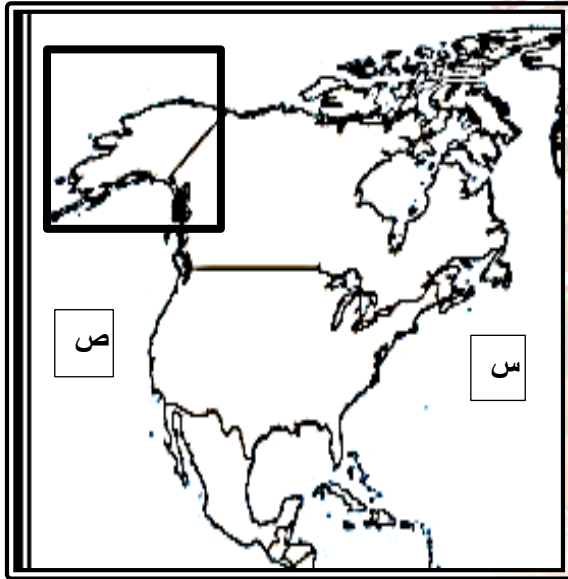
أ. ضعي عنوانا مناسباً للشكل.

ب. وقعي الدولة التي تحد الولايات المتحدة شمالاً.

ج. ضعي الرمز "س" في المكان الصحيح الذي يشير المحيط الأطلسي.

د. استخرجي اسم الولاية التي كانت تتبع روسيا في الأصل.

هـ. ما المسطح المائي الذي تقع فيه "جزر هاواي"



40. ادرسي الخريطة التالية واجيبي عن الآتي:

أ. استنتجي اسم القارة في الخريطة المقابلة.

ب. وقعي على الخريطة اسم الولايات المتحدة الأمريكية.

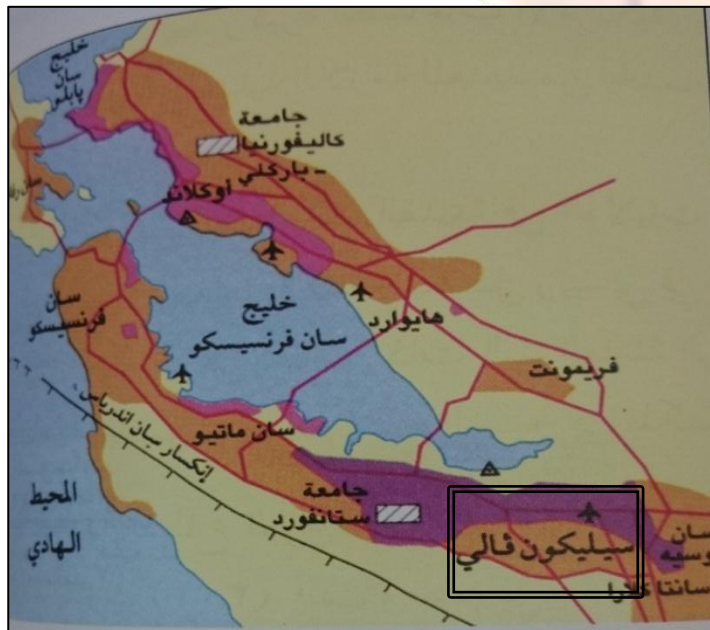
ج. ضعي دائرة حول الدولة التي تحد الولايات المتحدة من جهة الجنوب.

د. استخرجي رمز المسطح المائي الذي يحد الولايات المتحدة من جهة الغرب.

هـ. ظللي على الخريطة الدولة التي تحد الولايات المتحدة من جهة الشمال.

و. ما اسم الولاية المحاطة بمربع على الخريطة؟

41. ادرسي الخريطة التالية واجيبي عن الآتي:



• منطقة جنوب San Francisco Bay Area في ولاية كاليفورنيا.

• تتمركز فيها معظم شركات التقنية الكبرى في الولايات المتحدة.

• وخرجت منها العديد من الـ Startups العالمية.

• سميت بوادي السيليكون بسبب:

1. وجودها ضمن منطقة وادي Santa Clara

2. ولوجود شركات كثيرة هناك تنتج الـ

Semiconductor المستخدمة في قطع الكمبيوتر

و التي تصنع من السيليكون.

أ. استنتجي المنطقة التي تتناولها الخريطة.

ب. ما الولاية التي تتبع لها المنطقة.

ج. استخرجي نوع الصناعة التي تتخصص بها.

د. ما أهمية المنطقة والصناعة المتخصصة بها على مستوى الولايات المتحدة؟



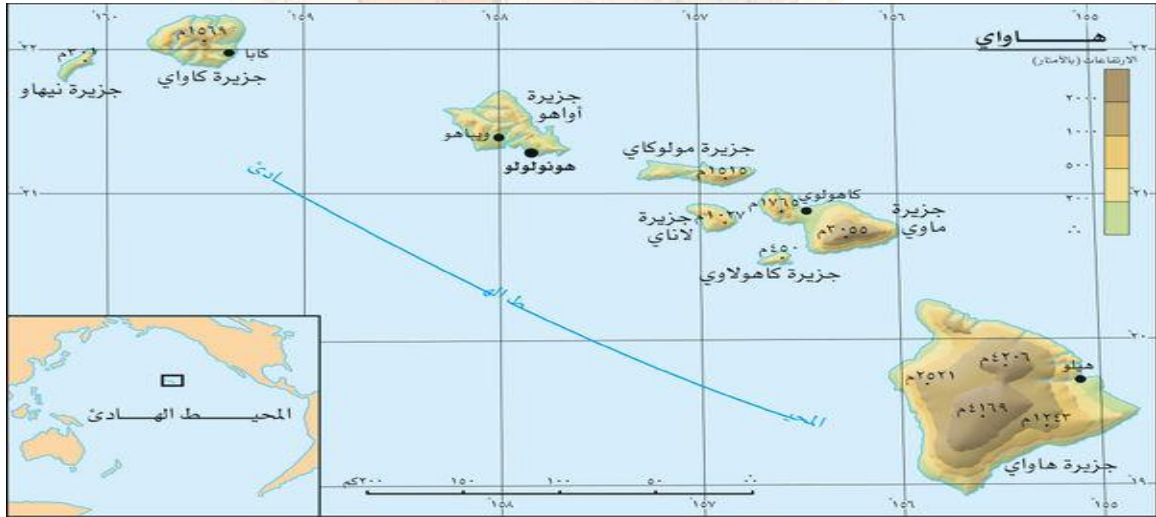
42. ادرسي الخريطة التالية واجيبي عن الآتي:

أ. استنتجي ما تشير اليه الخريطة.

ب. ما الدولة التابعة لها؟

ج. استخرجي اكبرها من الخريطة؟

43. ادرسي الخريطة التالية واجيبي عن الآتي:



أ. استخرجي اسم الجزر التي تتناولها الخريطة.

ب. ما المسطح المائي الذي تقع فيه؟

ج. سمي الدولة المالكة لها؟

د. متى أصبحت ولاية أمريكية؟

هـ. ما القارة التابعة لها؟

ز. استنتجي اكبر الجزر من الخريطة.

44. ادرسي خريطة " الاسكا " التالية واجيبي عن الآتي:

أ. ما الدولة التابعة لها؟

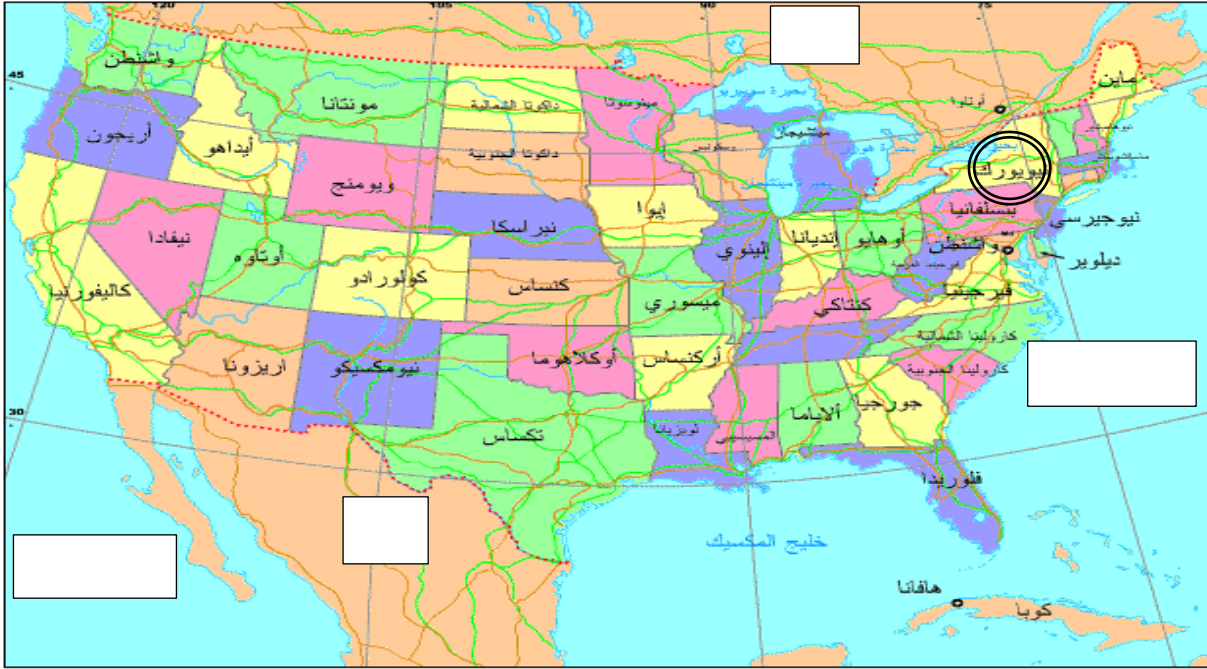
ب. ما الجهة التي تقع فيها بالنسبة لكتندا؟

ج. ما الدولة المالكة لها قبل عام 1867م؟

د. وقعي على الخريطة المسطح الذي يحدها من جهة الغرب.



45. ادرسي الخريطة التالية واجيبي عن الآتي:



أ. استنتجي الدولة الامريكية التي تشير اليها الخريطة.

ب. وقعي المسطح المائي الذي يحدها من جهة الشرق في المستطيل المناسب على الخريطة.

ج. ضعي دائرة على الخريطة حول العاصمة.

د. ما الولاية التي تشتهر بصناعة النسيج مع ولاية جورجيا؟

هـ. ما الجهة التي تقع فيه اشهر ولاية في صناعة الكمبيوتر؟

و. ضعي الرمز " س " في المربع الصحيح الذي يشير الى الدولة التي تحدها جنوبا.

ز. ما تمثل الولاية المحاطة بدائرة على الخريطة بالنسبة لبقية الولايات .

46. ادرسي الخريطة التالية واجيبي عن الآتي:

أ. ضعي عنوانا مناسباً للخريطة.

ب. استنتجي من الخريطة:

1. الأقسام الرئيسية للأشكال الرئيسية للسطح في الخريطة.

2. الدولة التي تشير إليها الخريطة.

ج. في أي الأشكال الأرضية توجد المناطق الزراعية الأكثر

خصوبة في الدولة.

د. ضعي دائرة حول الأشكال الأرضية التي توجد فيها حقول استخراج النفط في الخريطة.

هـ. ما المورد المعدني المستخرج من المنطقة المحاطة بشكل اسطواني على الخريطة.

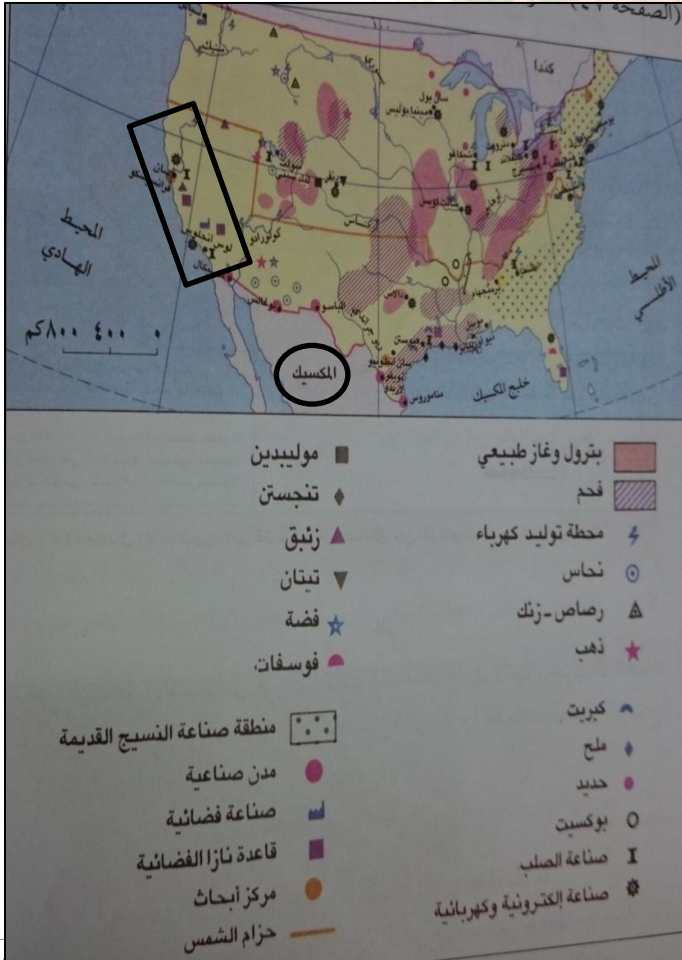
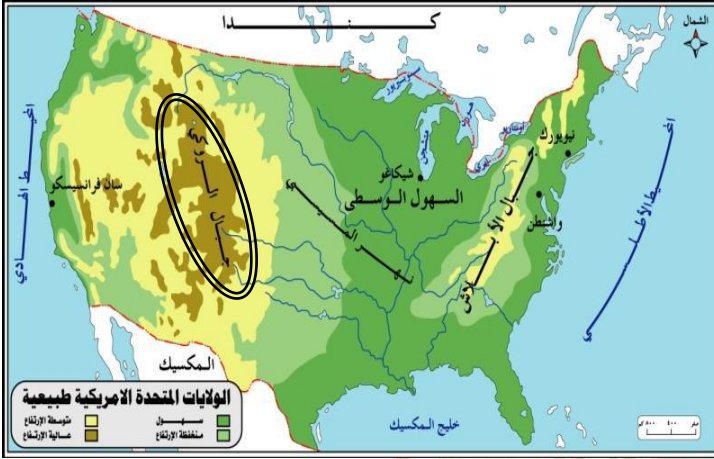
47. ادرسي الخريطة التالية واجيبي عن الآتي:

أ. ضعي عنواناً مناسباً للخريطة.

ب. ما الدولة التي تشير إليها الخريطة.

ج. اكمل الجدول التالي بالاستعانة بالخريطة:

الموارد المعدنية	أماكن وجودها
الفحم الحجري	
النفط	
الغاز	

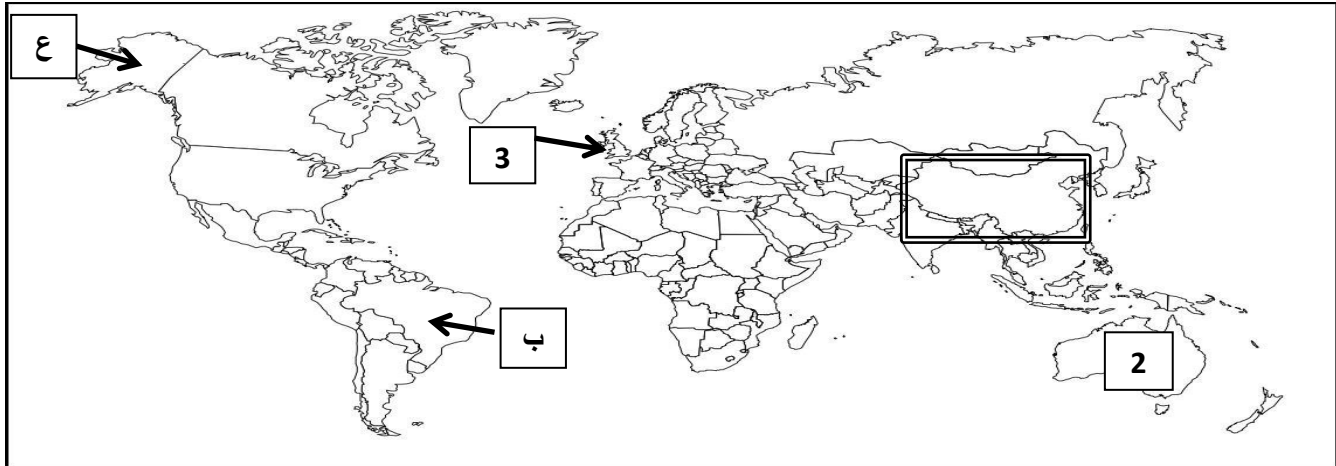


ج. فسري اقامة بعض رجال الاعمال لمصانع النسيج في

الدولة المحاطة بدائرة على الخريطة.

د. ما الصناعة التي تشتهر بها المنطقة المحاطة بمستطيل على الخريطة على مستوى الدولة.

48. ادرسي الخريطة التالية واجيبي عن الآتي:



أ. استخرجي:

1. رقم الدولة التي كانت تستعمر الولايات المتحدة قبل الاستقلال.

2. رمز المنطقة التابعة لروسيا قبل عام 1867م.

ب. وقعي على الخريطة اسم الدولة التي تستخدم آلة " الروبوت " في غالبية مراحل انتاج السيارات وتأتي في المرتبة الثانية عالميا.

ج. ما المرتبة التي تحتلها الدولة المحاطة بمستطيل على الخريطة من حيث عدد السكان؟

د. ظللي على الخريطة الدولة التي تنافس الولايات المتحدة الامريكية في صناعة السيارات.

هـ. الجهة التي تحد فيها كندا الولايات المتحدة الامريكية.

و. ضعي دائرة حول الدولة العربية التي وقعت مع الولايات المتحدة اتفاقية التجارة الحرة عام 2006م.

49. اكمل الجدول التالي للأحداث التاريخية التي مرت بها الولايات المتحدة الامريكية:

العام الميلادي	الاحداث المتعلقة بالولايات المتحدة الامريكية
1492	
1776	

	1959
	1790
	1929
	1932
	1930
	2009
	2003
	2011
	2006

اجابة النشاط " 1 " ص 67 في الكتاب المدرسي.

الموقع الفلكي:

أ. " 1 " تقع الولايات المتحدة الامريكية " 48 ولاية متصلة ببعضها البعض باستثناء ولاية الاسكا وولاية هاواي " ما بين درجتي 24 و 43 شمالا وخطي طول 68 و 125 غربا.

" 2 " مميزات الموقع الجغرافي للولايات المتحدة الامريكية:

- ادى امتدادها ضمن درجات عرض متنوعة الى تنوع المناخات بالتالي تنوع المحاصيل الزراعية.
- عمل امتدادها ضمن درجات خطوط الطول على تعدد المناطق الزمنية واختلاف التوقيت الزمني بين المناطق الشرقية والمناطق الغربية.

ب. إذا كانت الساعة في مدينة واشنطن الواقعة على خط طول " 77 " غربا " 12 " ظهرا فكم تكون الساعة في مدينة لوس انجلوس الواقعة على خط طول " 115 " غربا؟

الفرق بين خطوط الطول = $115 - 77 = 152$ دقيقة.

يكون التوقيت في لوس انجلوس = 2.32 صباحا فيكون فرق التوقيت بين المدينتين ساعتين ونصف ساعة تقريبا.

ج. النتائج:

جدول يشير الى الايجابيات والسلبيات المترتبة على اختلاف التوقيت الزمني.

السلبيات	الايجابيات
امكانية توقف التبادل الاقتصادي	استمرار حركة العمل
يفقد المسافر الى الشرق جزءا من وقته	يكسب المسافر الى الغرب وقتا اضافيا

اجابة النشاط " 2 " ص 68 في الكتاب المدرسي.

" أ "

م	الظاهرة	المسمى
1.	شبه جزيرة	شبه جزيرة فوريدا - شبه جزيرة كاليفورنيا.
2.	البحيرات الخمس	هورن - سوبيريور - انتاريو - ايري - متشجن .
3.	هضبة	هضبة ازراك - هضبة كولورادو - هضبة كمبرلاند.
4.	سلسلة جبلية	جبال الابلاش - جبال روكي.
5.	اعلى نقطة ارتفاع	جبل البرت 4399م.
6.	خليج	خليج الاسكا
7.	نهر	المسيسبي - كولورادو - اوهايو.
8.	سهل	السهول العظمى
9.	مضيق	مضيق برنج

" ب " حار معتدل في المناطق الشمالية والمرتفعات الغربية والوسطى ، الامطار جيدة في الصيف وتقل في الوسط والغرب ، اما شتاء المناخ قارس البرودة في المناطق الشمالية وباردا في الوسط ودافئا في الجنوب ، وتقل الامطار في فصل الشتاء عن الصيف والربيع اما آسيا فهي دائمة الثلوج على مدار السنة.

" ج " تمثل اشكال السطح موردا طبيعيا لأي دولة ، ويقصد بأشكال السطح: مظاهر سطح الارض المتنوعة مثل : السهول والمناطق الجبلية والهضاب. وتختلف انواع المهن تبعا لأشكال السطح فنجد الزراعة والصيد في المناطق السهلية ، بينما المناطق الجبلية تشتهر باستخراج المعادن والتعدين كما هو الحال في جبال الابلاش شرق الولايات المتحدة الامريكية وتسهم عناصر المناخ في تطور الحرف الاقتصادية والرقي بالإنسان خاصة الزراعة والنشاط الصناعي مثال:

زراعة القمح تحتاج الى درجة حرارة معتدلة اثناء فترة البذر ثم درجة حرارة معتدلة مائلة الى البرودة اثناء فترة النمو وفترة جفاف اثناء الحصاد. وهناك محاصيل لا تنمو الا في المناطق الصحراوية واخرى لا تنمو الا في المناطق الباردة.

اجابة النشاط " 6 " ص 76 في الكتاب المدرسي.

1. المقومات الطبيعية والبشرية اللازمة للصناعة:

المقومات الطبيعية: الموقع الجغرافي / عناصر المناخ / الموارد المائية / المواد الخام الطبيعية.

المقومات البشرية: المواد الخام / الطاقة / السوق / العمال / رأس المال / المواصلات / واخرى مثل الدعم والضمانات الحكومية.

2. سبب تسمية " سيليكون فالي ": تترجم هذه الكلمة ب " وادي السيليكون " والسيليكون عبارة عن مادة توجد في الرمل وتستخدم في صنع رقاقات صغيرة في اجهزة الكمبيوتر والالكترونيات.

الناتج المحلي الاجمالي: مؤشر اقتصادي يقيس القيمة النقدية لاجمالي السلع والخدمات التي انتجت داخل حدود منطقة جغرافية ما خلال فترة زمنية محددة.

اجابة النشاط " 9 " ص 77 في الكتاب المدرسي.

ملتزمون بتحقيق رؤيتنا ، الإجابة في موادنا

نيويورك سيدة المدن الامريكية.

كانت مستعمر هولندية تعرف باسم نيو امستردام سميت بذلك لنسبة لدوق منطقة يورك البريطاني الذي استولى عليها فيما بعد وهي مدينة عالمية تقع على مدينة منهاتن ، وهي اكبر المدن الامريكية واهم مركز للتجارة والمال والاعمال على مستوى العالم وترجع اهميتها الى عوامل طبيعية واخرى بشرية .

تعد المدينة عاصمة تجارية للولايات المتحدة حيث تنتج اكثر من " 12% " من مجموع قيمة الانتاج الصناعي فيها وبها مقر العديد من البنوك والشركات العالمية كما يوجد بها مقر الامم المتحدة.

ومن اشهر احيائها مانهاتن ، برونكس ، شارع برودواي المشهور بإقامة العروض المسرحية ، وارتبط اسم المدينة بتفجيرات الحادي عشر من سبتمبر 2001م لبرجي التجارة العالميين مما اثر على اقتصادها.

اعداد: نعيمة سعيد البريكية /ملحق الاختبارات تجميع واطافة اصيلة الخالدي وخديجة السعيد/ مدرسة عاتكة للتعليم الاساسي

عنوان الوحدة: القوى والتكتلات الاقتصادية

الصف: العاشر

عنوان الدرس: اليابان

الفصل الدراسي الثاني

السؤال الاول : اختاري الاجابة الصحيحة من بين البدائل المعطاة:

1. عاصمة اليابان هي :

- أ. اوتاوا ب. بكين ج. واشنطن د. طوكيو

2. اكبر مدن اليابان هي :

- أ. طوكيو ب. كيوتو ج. اوساكا د. كوبي

3. اللغة الرسمية لسكان اليابان هي :

- أ. الانجليزية ب. اليابانية ج. الهانوية د. الفرنسية

4. العملة الرسمية لليابان هي :

- أ. الين ب. الدولار ج. الجنيه د. اليورو


5. الدولة التي عاصمتها " طوكيو " هي :

- أ. الصين ب. الولايات المتحدة ج. اليابان د. كندا

6. خريطة الدولة التي عاصمتها " طوكيو " هي :



7. خريطة القارة التي تقع فيها اليابان هي :



8. تكونت الامبراطورية اليابانية قبل القرن الميلادي :

- أ. الخامس ب. السادس ج. السابع د. الثامن

9. اصبحت اليابان امبراطورية قوية ومتقدمة سياسيا وعسكريا واقتصاديا واضحة الاهداف في عهد الامبراطور:

- أ. اكهيتو ب. كوشو ج. هينو د. تايشو
10. اطلقت الولايات المتحدة الامريكية في الحرب العالمية الثانية قنبلتين نوويتين على مدينتي نازاجاكي و:
- أ. يوكوهاما ب. سايتاما ج. هيروشيما د. كاواساكي
11. اطلقت الولايات المتحدة الامريكية في الحرب العالمية الثانية قنبلتين نوويتين على مدينتي هيروشيما و:
- أ. يوكوهاما ب. سايتاما ج. اوساكا د. كاواساكي
12. الدولة التي تتكون من ارخبيل من الجزر الواقعة في الجزء الشمالي الغربي من المحيط الهادي:
- أ. الصين ب. اليابان ج. كندا د. الولايات المتحدة
13. الجهة الفرعية التي تقع فيها اليابان من المحيط الهادي هي:
- أ. الجنوب الغربي ب. الشمال الشرقي ج. الجنوب الشرقي د. الشمال الغربي
14. المسطح المائي الذي تقع فيه اليابان هو:
- أ. المحيط الاطلسي ب. المحيط الهادي ج. المحيط الهندي د. المتجمد الشمالي
15. القارة التي تتبعها اليابان هي:
- أ. اوروبا ب. امريكا الشمالية ج. آسيا د. اوقيانوسيا
16. الجهة الرئيسية للساحل الذي يمتد قبالة ارخبيل الجزر اليابانية هي:
- أ. الشرق ب. الشمال ج. الغرب د. الجنوب
17. يصل طول الارخبيل المكون للجزر اليابانية بالكيلومتر حوالي:
- أ. 1000 ب. 2000 ج. 3000 د. 4000
18. يبلغ عدد الجزر المكونة لأرخبيل اليابان حوالي:
- أ. 6832 ب. 6852 ج. 6872 د. 6892
19. عدد الجزر الرئيسية اليابانية هي:
- أ. 2 ب. 3 ج. 4 د. 5
20. تقع عاصمة اليابان في جزيرة:
- أ. هوكايدو ب. هونشو ج. شيكوكو د. كيوشو
21. تقع مدينة هيروشيما اليابانية في جزيرة :

أ. هوكايدو ب. هونشو ج. شيكوكو د. كيوشو

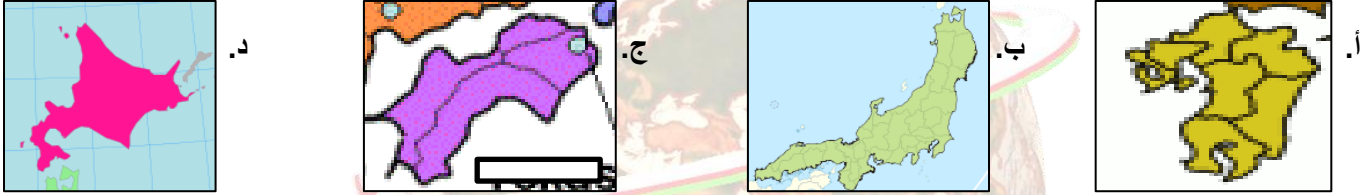
22. تقع مدينة نازاجاكي اليابانية في جزيرة :

أ. هوكايدو ب. هونشو ج. شيكوكو د. كيوشو

23. خريطة الجزيرة التي تقع فيها العاصمة اليابانية هي:



24. خريطة الجزيرة التي تقع فيها مدينة هيروشيما اليابانية هي:



25. خريطة الجزيرة التي تقع فيها مدينة نازاجاكي اليابانية هي:



26. المسطح المائي الذي تقع ضمنه نطاق " حلقة النار " المحيط:

أ. الاطلسي ب. الهادي ج. الهندي د. المتجمد الشمالي

27. تعرضت اليابان الى امواج المد الزلزالي " تسونامي " بسبب زلزال بلغت قوته " 9 درجات " بمقياس ريختر في العام الميلادي :

أ. 2009 ب. 2010 ج. 2011 د. 2012

28. بلغت قوة الزلزال الذي تعرضت له اليابان في عام 2011م بمقياس ريختر :

أ. 6 ب. 7 ج. 8 د. 9

29. المدينة اليابانية التي يوجد المتحف الذي تشير اليه الصورة المقابلة :



أ. يوكوهاما ب. سايتاما ج. هيروشيما د. واكاياما

30. بلغت النسبة المئوية لفئة المسنين في المجتمع الياباني عام 1970م من اجمالي عدد السكان حوالي:

- أ. 6 ب. 7 ج. 8 د. 9

31. اصبحت النسبة المئوية لفئة المسنين في المجتمع الياباني عام 2000م من اجمالي عدد السكان حوالي:

- أ. 14 ب. 14.7 ج. 17 د. 17.4

32. وصلت النسبة المئوية لفئة المسنين في المجتمع الياباني عام 2010م من اجمالي عدد السكان حوالي:

- أ. 20 ب. 21 ج. 23 د. 24

33. العام الميلادي الذي بلغت فيه النسبة المئوية لفئة المسنين في المجتمع الياباني " 17.4% " من اجمالي عدد السكان:

- أ. 1970 ب. 2000 ج. 2010 د. 2015

34. العام الميلادي الذي بلغت فيه النسبة المئوية لفئة المسنين في المجتمع الياباني " 7% " من اجمالي عدد السكان:

- أ. 1970 ب. 2000 ج. 2010 د. 2015

35. العام الميلادي الذي بلغت فيه النسبة المئوية لفئة المسنين في المجتمع الياباني " 23% " من اجمالي عدد السكان:

- أ. 1970 ب. 2000 ج. 2010 د. 2015

36. اكثر الشعوب محافظة على الهوية الوطنية هم:

- أ. الامريكان ب. اليابانيون ج. الصينيون د. الفرنسيون

37. الكلمة التي يقصد بها " تجمعات سكانية مهمة في حياة سكان المدن والقرى قديما وتتميز بالتعاون مع بعضها البعض في الانشطة المختلفة " :

- أ. كوبي ب. كوري ج. كوشي د. كومي

38. النسبة المئوية لمعدل النمو الاقتصادي السنوي في اليابان من عام " 1953 – 1973م " :

- أ. 6 ب. 7 ج. 8 د. 9

39. اتسم معدل النمو الاقتصادي السنوي لليابان في الفترة من عام " 1953 – 1973م " بـ :

- أ. الاستقرار ب. الارتفاع ج. التذبذب د. الانخفاض

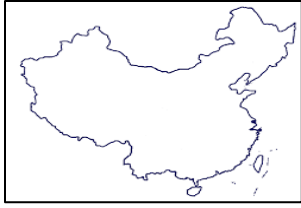
40. يوصف معدل النمو الاقتصادي السنوي لليابان بعد عام " 1973م " بـ :

- أ. الاستقرار ب. الارتفاع ج. التذبذب د. الانخفاض

41. المرتبة التي تحتلها اليابان اقتصاديا على المستوى العالمي:

- أ. الاولى ب. الثانية ج. الثالثة د. الرابعة

42. خريطة الدولة التي تحتل المرتبة الثانية عالميا في المجال الاقتصادي:



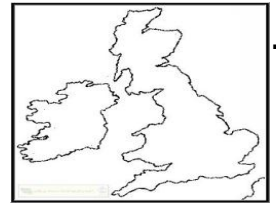
د.



ج.



ب.



أ.

43. يبلغ عدد المرافئ التي تمتلكها اليابان اليوم أكثر من:

د. 2500

ج. 200

ب. 1500

أ. 500

44. ادرسي الخريطة التالية واجيبي عن الاسئلة:



أ. الرمز الذي يشير الى المدينة اليابانية التي اطلقت عليها الولايات المتحدة فنبلتها النووية في الحرب العالمية الثانية:

1. س 2. ص 3. ع 4. ل

ب. الرمز الذي يشير الى اكبر المدن اليابانية:

1. س 2. ص 3. ع 4. ل

ج. الرمز الذي يشير الى جزيرة " هوكايدو اليابانية:

1. س 2. ص 3. ع 4. ل

45. النشاط الاقتصادي الرئيسي في اليابان بعد الحرب العالمية الثانية هو :

أ. الصناعة ب. التجارة ج. الزراعة د. الصيد

46. تبلغ الكثافة السكانية في المناطق الزراعية في الكيلومتر المربع الواحد حوالي:

- أ. 320 ب. 340 ج. 360 د. 380

47. تصل النسبة المئوية لمساحة الاراضي الصالحة للزراعة في اليابان من مساحة البلاد حوالي:

- أ. 8.8 ب. 8.9 ج. 8.10 د. 8.11

48. الدولة التي يوجد بها اكبر اسطول للصيد البحري عالميا:

- أ. بريطانيا ب. الصين ج. اليابان د. الولايات المتحدة

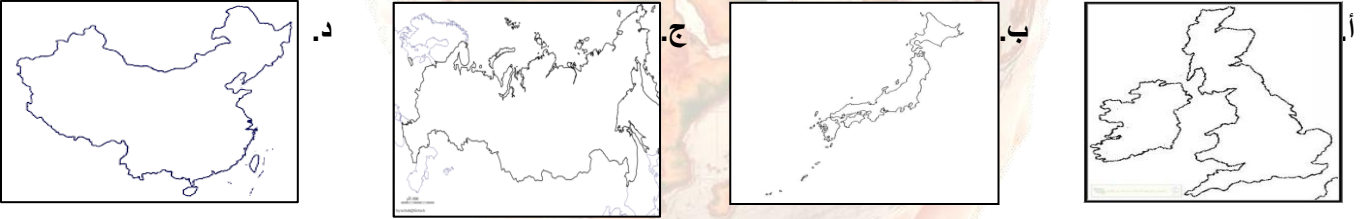
49. وصل إنتاج اليابان من الثروة البحرية حوالي " 3.2% " من الانتاج العالمي في العام الميلادي:

- أ. 2008 ب. 2009 ج. 2010 د. 2011

50. تصل النسبة المئوية لإنتاج اليابان من الثروة البحرية عام 2009م من الانتاج العالمي حوالي:

- أ. 3.1 ب. 3.2 ج. 3.3 د. 3.4

51. خريطة الدولة التي يوجد بها اكبر اسطول للصيد البحري عالميا:



52. وصلت النسبة المئوية لمعدل النمو السنوي للإنتاج الصناعي الياباني حوالي:

- أ. 10 ب. 10.5 ج. 12 د. 12.5

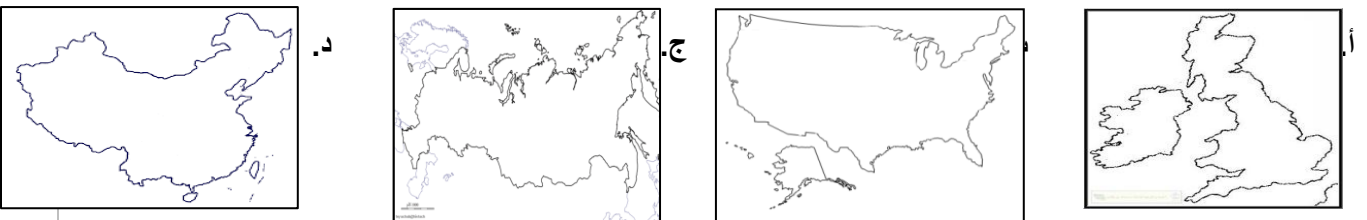
53. وصلت النسبة المئوية لمعدل انتاج السيارات اليابانية من الانتاج العالمي حوالي:

- أ. 10 ب. 10.5 ج. 12 د. 12.5

54. وصلت النسبة المئوية لمعدل انتاج السيارات اليابانية من الانتاج العالمي " 10.5% " في العام الميلادي:

- أ. 2008 ب. 2009 ج. 2010 د. 2011

55. خريطة الدولة التي تنافس اليابان في انتاج السيارات عالميا:



56. النسبة المئوية لمساحة التي تغطيها الجبال من المساحة الكلية لليابان حوالي:

- أ. 73 ب. 74 ج. 75 د. 76

57. المرتبة التي تحتلها اليابان في انتاج السيارات عالميا:

- أ. الاولى ب. الثانية ج. الثالثة د. الرابعة

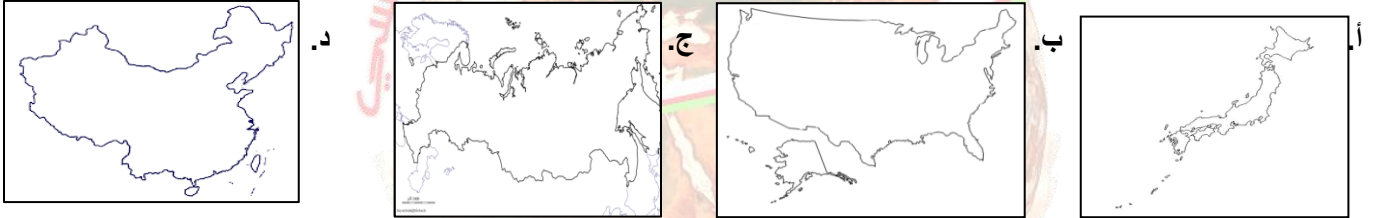
58. المرتبة التي تحتلها الولايات المتحدة الامريكية في انتاج السيارات عالميا:

- أ. الاولى ب. الثانية ج. الثالثة د. الرابعة

59. المرتبة التي تحتلها الصين في انتاج السيارات عالميا:

- أ. الاولى ب. الثانية ج. الثالثة د. الرابعة

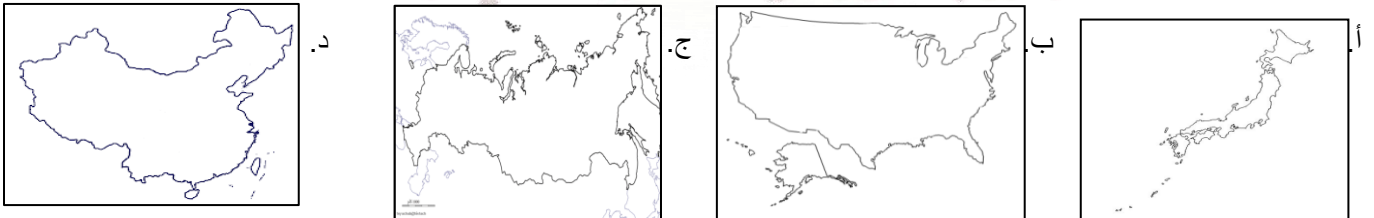
60. خريطة الدولة التي تحتل المرتبة الثالثة في انتاج السيارات عالميا:



61. خريطة الدولة التي تحتل المرتبة الاولى في انتاج السيارات عالميا:



62. خريطة الدولة التي تحتل المرتبة الثانية في انتاج السيارات عالميا:



63. المرتبة التي تحتلها اليابان عالميا في انتاج الدراجات النارية:

- أ. الاولى ب. الثانية ج. الثالثة د. الرابعة

64. الدولة التي تحتل المرتبة الاولى عالميا في انتاج الدراجات النارية:
 أ. بريطانيا ب. الصين ج. اليابان د. الولايات المتحدة
65. الدولة التي تحتل المرتبة الاولى عالميا في انتاج السيارات:
 أ. بريطانيا ب. الصين ج. اليابان د. الولايات المتحدة
66. الدولة التي تحتل المرتبة الثالثة عالميا في انتاج السيارات:
 أ. بريطانيا ب. الصين ج. اليابان د. الولايات المتحدة
67. الدولة التي تحتل المرتبة الثانية عالميا في انتاج السيارات:
 أ. بريطانيا ب. الصين ج. اليابان د. الولايات المتحدة
68. وصل انتاج السيارات الحد الاعلى له في اليابان في منتصف:
 أ. الستينيات ب. السبعينيات ج. الثمانينيات د. التسعينيات
69. يتصف معدل نمو انتاج السيارات في اليابان خلال الفترة من عام " 1970 – 2003 م " ب:
 أ. الاستقرار ب. الارتفاع ج. التذبذب د. الانخفاض
70. المصدر الرئيسي للطاقة المستهلكة في اليابان 1973م هو:
 أ. الفحم ب. الغاز الطبيعي ج. الذرة د. النفط
71. المحصول الزراعي الذي تقترب فيه اليابان من تحقيق الاكتفاء الذاتي من انتاجه هو:
 أ. البطاطا ب. الخضروات ج. الارز د. الفواكه
72. الصناعة الالكترونية التي كانت في مقدمة اهتمامات وزارة الصناعة والاقتصاد والتجارة اليابانية من عام " 1986 – 2003 م " :
 أ. الكمبيوتر ب. اجهزة الاتصال ج. الروبوت د. الكاميرات الرقمية
73. وصلت المبالغ المالية التي خصصتها وزارة الصناعة والاقتصاد والتجارة اليابانية لدعم ابحاث الروبوت في المختبرات من عام " 1986 – 2003 م " بالمليون دولار حوالي:
 أ. 25 ب. 50 ج. 75 د. 100
74. وصلت المبالغ المالية التي خصصتها وزارة الصناعة والاقتصاد والتجارة اليابانية لدعم ابحاث الروبوت في المختبرات " 50 مليون دولار " في الفترة :
 أ. " 1985 – 2000 " ب. " 1986 – 2003 " ج. " 1985 – 2001 " د. " 1986 – 2004 "
75. تعتمد اليابان من خلال ممارسة النشاط التجاري على :

أ. تقليل حجم الواردات وزيادة حجم الصادرات.

ب. زيادة حجم الصادرات وتقليل حجم الواردات.

ج. تساوي حجم الصادرات مع حجم الواردات.

د. الاعتماد فقط على الصادرات.

76. الدولة التي تحتل المرتبة الاولى من حيث انشطة الخدمات التي تصدرها لليابان :

أ. بريطانيا ب. الصين ج. فرنسا د. الولايات المتحدة

77. الدولة التي تمثل القوة المالية الكبرى عالميا هي :

أ. بريطانيا ب. الصين ج. اليابان د. الولايات المتحدة

78. الدولة المنتجة لنوعية السيارات في الصورة المقابلة:

أ. بريطانيا ب. الصين

ج. اليابان د. الولايات المتحدة



79. انفتت شركة سوني اليابانية لإنتاج اول روبوت لها في عام 1986م بالمليون دولار :

أ. 50 ب. 100 ج. 150 د. 200

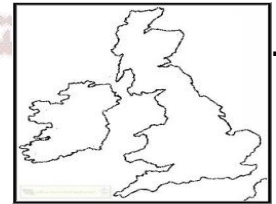
80. انفتت شركة سوني اليابانية لإنتاج اول روبوت لها حوالي " 100 مليون دولار " في العام الميلادي:

أ. 1982 ب. 1984 ج. 1986 د. 1988

81. الدولة التي تنافس اليابان في صناعة السفن هي:

أ. بريطانيا ب. كوريا الجنوبية ج. الصين د. الولايات المتحدة

82. خريطة الدولة التي تنافس اليابان في صناعة السفن هي:



السؤال الثاني:

1. رتبي الاحداث التاريخية التالية لليابان من الاقدم الى الاحداث:

" " " شاركت اليابان في عصر الامبراطور " هينو " في الثورة الصناعية.

" تكونت الامبراطورية اليابانية قبا القرن السابع عشر الميلادي.

" نشأت على ارض اليابان حضارات متعددة.




" اصبحت اليابان امبراطورية سياسية وعسكرية واقتصادية متقدمة واضحة الاهداف.

2. " وقعت الحرب العالمية الثانية في الترة من عام " 1939 – 1945 " وكانت اليابان من الدول المشاركة فيها " في ضوء العبارة:

أ. دللي على خسارة اليابان في الحرب العالمية الثانية.

ب. ما الاسس التي استند عليها ازدهار اليابان؟

3. رتبي الصور التالية لمتحف السلام في مدينة هيروشيما من الاقدم الى الاحدث قبل وبعد القاء القنبلة النووية:



4. " اليابان عبارة عن ارخبيل من الجزر تقع في الجزء الشمالي الغربي من المحيط الهندي على هيئة قوس قبالة الساحل الشرقي للقارة الآسيوية " في ضوء العبارة:

أ. كم يصل طول هذا الارخبيل؟

ب. كم عدد الجزر التي يتكون منها؟

ملزمون بتحقيق رؤيتنا , الإجابة في موادنا

ج. اذكر اسماء اهم الجزر اليابانية.

5. فسري تعرض اليابان الى الزلازل والبراكين المدمرة.

6. " تتميز مظاهر السطح في اليابان بالتنوع " وضح.

7. اعط نتيجة بيئية ترتبت على طبيعة الارض الجبلية في اليابان.

8. ما السمات المميزة للطبيعة اليابانية؟

9. عرفي المفاهيم التالية:

أ. حلقة النار.

ب. كلمة " كومي " .

ج. الثورة الخضراء.

10. ارسلي جدولاً بالنتائج المترتبة على زلزال 11/ مارس / 2011م في اليابان على ان يشمل:

الجوانب	البيانات
قوة الزلزال	
المصابين	
القتلى	
الخسائر المادية	

11. " يشكل المجتمع الياباني وحدة عرقية ولغوية قوية تميزه عن باقي المجتمعات الاخرى " اذكرى السبب مع النتائج المترتبة.

12. " يعد سكان اليابان من اكثر مجتمعات العالم شيخوخة " في ضوء العبارة:

أ. فسري سبب ذلك.

ب. برهني على صحة العبارة بالبيانات الاحصائية.

13. فسري نجاح اليابان في اعادة بناء ما تهدم من بلادهم بعد الحرب العالمية الثانية.

14. ما السمات المميزة للشعب الياباني؟

15. دللي على افتخار الشعب الياباني بهويته الوطنية.

16. ارسلي جدولاً بنسبة فئة كبار السن في المجتمع الياباني من عام " 1970 – 2010م " حسب احصائيات السكان:

العام	النسبة المئوية " % "

17. " توسع الاقتصاد الياباني بشكل ملحوظ بعد الحرب العالمية الثانية " برهني على صحة العبارة بالبيانات الاحصائية.

18. عللي تذبذب الاقتصاد الياباني ما بين القوة والضعف بعد عام 1983م بفترة من الزمن.

19. ارسمي مخطط السمكة بعنوان الموقع الجغرافي لليابان على ان يشمل:

" المسطحات التي تطل عليها / النتيجة / عدد المرافئ اليوم / امثلة عليها "



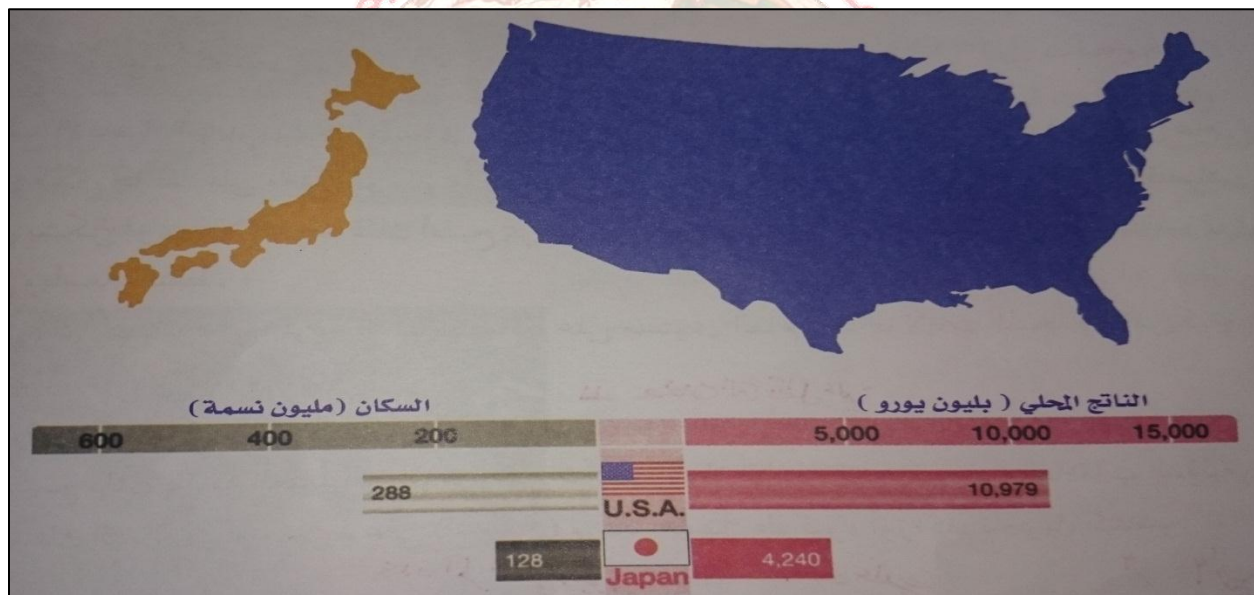
20. ارسمي جدولاً بعوامل نجاح الاقتصاد الياباني مع مقوم النجاح:

العوامل	مقومات النجاح	النتيجة
القوى البشرية	نمو وزيادة الاقتصاد الياباني	
	تحديث وتطوير النمو الاقتصادي للدولة	

21. امامك مجموعة من الجوانب المرتبطة بالعوامل التي استند عليها الاقتصاد الياباني صنفها في الجدول: " التعاون المستمر بين الحكومة والمؤسسات الاقتصادية / الاستثمار الداخلي والخارجي المرتفع / الاطلالة على الساحل الآسيوي / تتميز بالمهارة والقدرة على اتقان العمل / مدى استقراره وامكانية التوسع التجاري / عمل الابحاث والدراسات الاقتصادية الجديدة / الاطلالة على المحيط الهادي / تتميز بالالتزام في العمل / تقوم الدولة بفتح اسواق جديدة "

الموقع الجغرافي	القوى البشرية	السياسات الاقتصادية	السوق الدولي

22. ادرسي الشكل الذي امامك واجيبي عن التالي:



أ. ضعي عنوانا مناسباً للشكل.

ب. قارني بين الدولتين من حيث:

وجه المقارنة	الدولة الاولى	الدولة الثانية
اسم الدولة		
المساحة		
عدد السكان		
الناتج المحلي		

ج. احسبي الفرق بين الدولتين في الناتج الاجمالي المحلي.

23. " تتسم الكثافة السكانية بانخفاضها في المناطق الزراعية في اليابان "

☐ موافق ☐ غير موافق

الدليل بالبيانات الاحصائية :

24. " لا تزيد مساحة الارض الصالحة للزراعة في اليابان عن " 11.8% " من مساحة البلاد في اليابان " ما دور الحكومة للنهوض بالزراعة .

25. اعط امثلة للمحاصيل التي تزرع في اليابان.

26. " يأتي انتاج الارز في مقدمة المحاصيل المنتجة في اليابان " عللي ذلك.

27. " يمكن لليابان تحقيق الاكتفاء الذاتي من انتاج الارز "

☐ موافق ☐ غير موافق

التفسير :

28.صممي جدولاً بعنوان الثروات البحرية في اليابان باستخدام نموذج " فراير ".

المكانة العالمية:	الغذاء الرئيسي منها:
مقومات النجاح:	نسبة الانتاج من الانتاج العالمي:

29. تأملي الصورة التالية واجيبي عن الآتي:

أ. استنتجي اسم الماركة التجارية في الشكل المقابل.

ب. ما الدولة التي تمثل الموطن الاصلي لها؟

ج. ما اسم الصناعة المرتبطة بها؟

د. ما ترتيب الدولة المنتجة لها عالمياً؟

エアバッグ リコールに関する大切なお知らせ

HONDA
The Power of Dreams

30. ادرسي الجدول التالي واجيبي عن الآتي:

المحاصيل الزراعية	الإنتاج المحلي بالألف طن	الاستيراد بالألف طن	الاستهلاك المحلي بالألف طن	معدل الاكتفاء الذاتي %
الأرز	٩,٠٧٠	٨٨٢	٩,٤٥٩	٩٥,٩
القمح	٨٢٩	٤,٩٧٣	٦,٢٠٣	١٣,٤
البطاطا	٤,٠٩٩	٧٦٨	٤,٨٦٦	٨٤,٢
الحبوب	٣٩٥	٥,٣٨٧	٥,٧٧٠	٦,٨
الخضروات	١٣,٢٦٦	٢,٦٥٥	١٥,٩١٦	٨٣,٤
الفواكه	٣,٨٨٣	٤,٨٦٢	٨,٧٧٠	٤٤,٣

أ. ضعي عنوانا مناسباً للجدول.

ب. استخرجي المحاصيل الزراعية التي يشير إليها.

ج. ما المحصول الذي يتصدر انتاجه في الجدول.

د. ما اسباب توجه اليابان الى زيادة الانتاج من محصول الارز.

هـ. ما المحصول الذي تنخفض كمية انتاجه المحلي في اليابان.

و. ما المحصول الذي يمكن لليابان تحقيق الاكتفاء الذاتي في انتاجه محليا.

لماذا لم يتحقق ذلك.

ز. رتبي المحاصيل تنازليا من حيث معدل الاكتفاء الذاتي.

31. " يبلغ معدل الانتاج المحلي للأسمك في اليابان " 5.159 ألف طن " علما بان الاستهلاك المحلي للأسمك ومنتجاتها يصل الى حوالي " 11.107 ألف طن " احسبي معدل الاكتفاء الذاتي.

32. ما المقوم الصناعي الذي تفتقره اليابان لقيام هذه الصناعة؟

33. كيف عوضت اليابان نقص الموارد الاولية للصناعة وساعد على تطويرها صناعيا؟

34. " تصنف اليابان ضمن اغنى الدول الصناعية على المستوى العالمي "

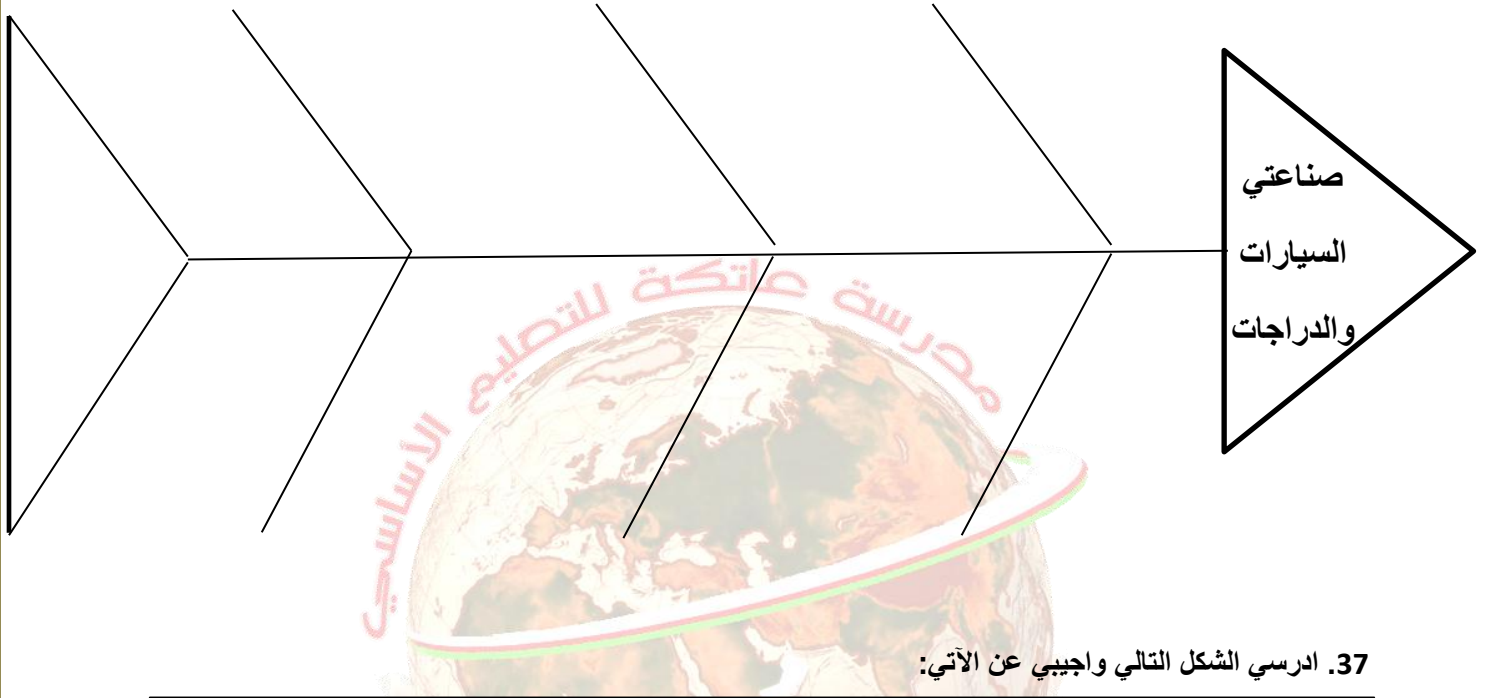
غير موافق

موافق

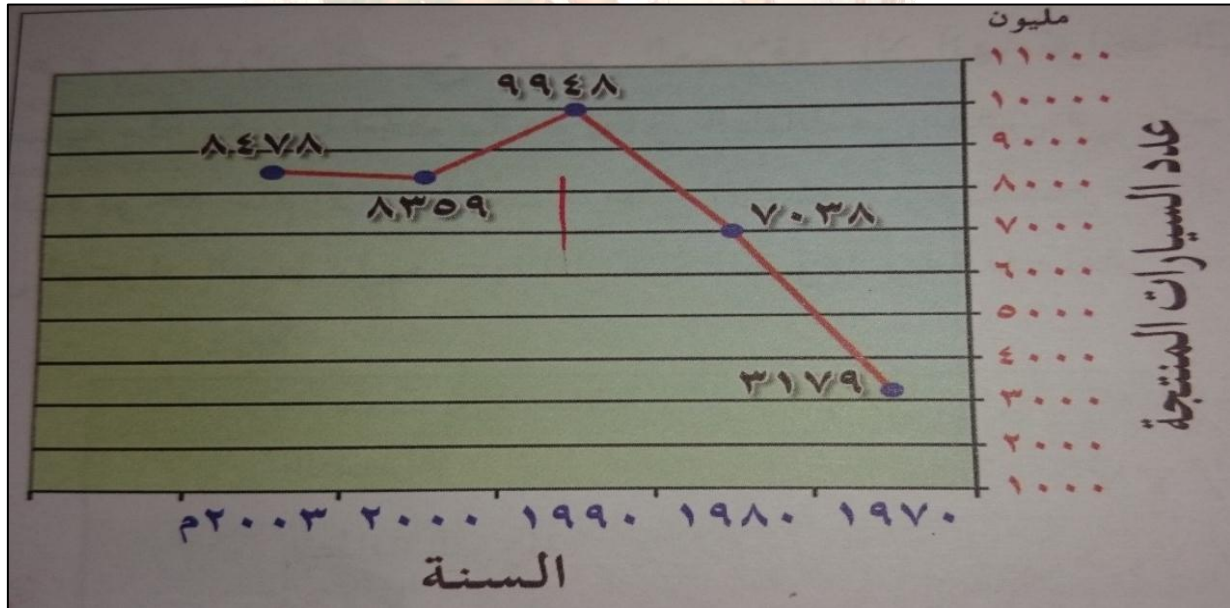
الدليل بالبيانات الاحصائية :

35. ارسمي خريطة مفاهيم بأبرز الصناعات اليابانية.

36. ارسمي مخطط السمكة بعنوان صناعتي السيارات والدراجات النارية على ان تشمل: " الانتاج العالمي للسيارات عام 2011م / المرتبة العالمية في صناعة السيارات / الترتيب العالمي في صناعة الدراجات "



37. ادرسي الشكل التالي واجيبي عن الآتي:



أ. ضعي عنوانا مناسباً للشكل.

ب. استخرجي الفترة الزمنية لتطور الانتاج في الجدول.

ج. ما الملاحظ على انتاج السيارات في الجدول؟

د. حولي البيانات في الشكل الى جدول.

38. صممي جدولا بعنوان الصناعات الالكترونية باستخدام نموذج " فراير "

امثلة:	اهم الصناعات الالكترونية:
دور وزارة الصناعة والاقتصاد والتجارة في تصنيع الروبوت:	دور شركة سوني في تصنيع الروبوت:

39. ادرسي الجدول التالي واجيبي عن الآتي:

مصدر الطاقة	١٩٧٣م	٢٠٠٠م
النفط	٧٧٪	٥٢٪
الطاقة النووية	١,٥٪	١٢٪
الغاز الطبيعي	٢٪	١٣٪
الفحم الحجري	١٥٪	١٨٪
الطاقة الكهرومائية	٤٪	٣٪

أ. ضعي عنوانا مناسباً للجدول.

ب. استنتجي نوعي الموارد الطبيعية التي تعتمد عليها اليابان في الطاقة من حيث الاستمرارية.

ج. ما المصدر الأكثر اعتماداً عليه كمصدر للطاقة ؟

د. ما الملاحظ على الجدول عام 2000م لمصادر الطاقة؟

هـ. احسب الفرق في استهلاك مصدري النفط والطاقة الكهرومائية عام 1973م.

40. ما التسهيلات التي تقدمها اليابان لقطاع الخدمات؟

41. ارسمي جدولاً بعنوان انجازات اليابان على مستوى العالم.

الترتيب	المجالات

42. امامك امثلة لشركات السيارات الامريكية والسيارات اليابانية صنفها في الجدول: " فورد / سوني / هوندا / كرايسلر / تويوتا / جنرال موتورز "

الشركات اليابانية	الشركات الامريكية

43. امامك امثلة لصناعة السيارات والصناعات الالكترونية اليابانية صنفها في الجدول " الكمبيوتر / هوندا / سوني / الكاميرات الرقمية / تويوتا / اجهزة الاتصال / الروبوت "


السيارات	الالكترونيات

44. امامك مجموعة من المحاصيل المنتجة في الولايات المتحدة والمحاصيل المنتجة في اليابان صنفها في الجدول: " الصويا / التبغ / الارز / القطن / الحبوب / الطحالب "

المحاصيل المنتجة في اليابان	المحاصيل المنتجة في الولايات المتحدة

45. عللي تزرع الطحالب بكثرة في اليابان.

46. تأملي الصورة التالية واجيبي عن الآتي:



أ. استنتجي اسم المبنى في الصورة المقابلة.

ب. اين يقع في اليابان؟

ج. شكل المبنى في الصورة كان :

○ قبل الحرب العالمية الثانية.

○ بعد الحرب العالمية الثانية.

تخيري الصواب

47. ارسمي جدولاً بالاحداث التي حققتها اليابان:

العام الميلادي	الاحداث
2011	
1970	
2000	
2010	
1973 – 1953	
2009	
2011	
2003 - 1968	
1986	



48. ادرسي الخريطة التالية واجيبي عن الآتي:

أ. ضعي عنوانا مناسباً للخريطة.

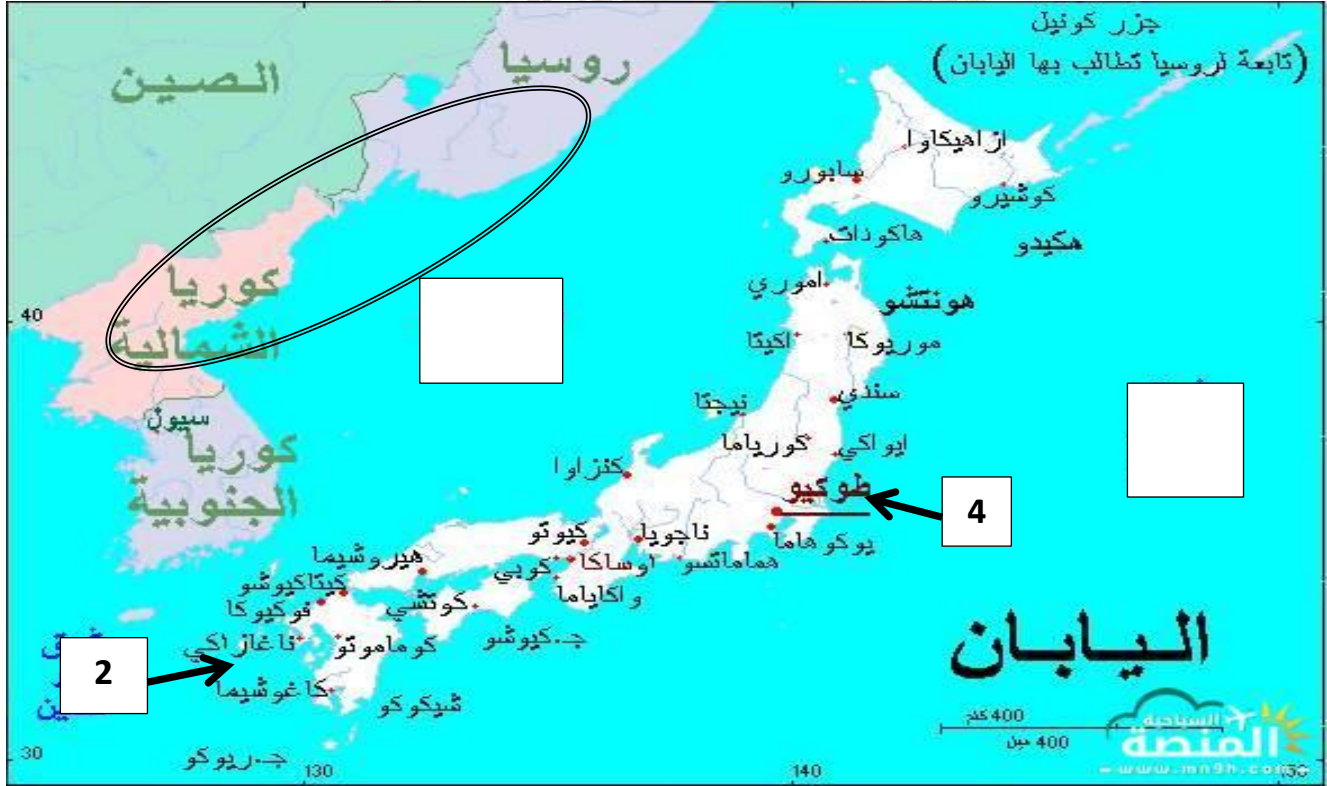
ب. استنتجي اسم الجزيرة المظلة في الخريطة.

ج. وقعي على الخريطة جزيرة كيوشو.

د. ظللي على الخريطة جزيرة شيكوكو.

هـ. ما اسم الجزيرة المشار إليها بالرمز " ع " على الخريطة.

49. ادرسي الخريطة التالية واجيبي عن الآتي:



أ. ضعي عنوانا مناسباً للخريطة.

ب. وقعي على الخريطة جزيرة " هونشو ".

ج. ضعي الرمز " س " في المربع المناسب الذي يشير الى المحيط الهادي.

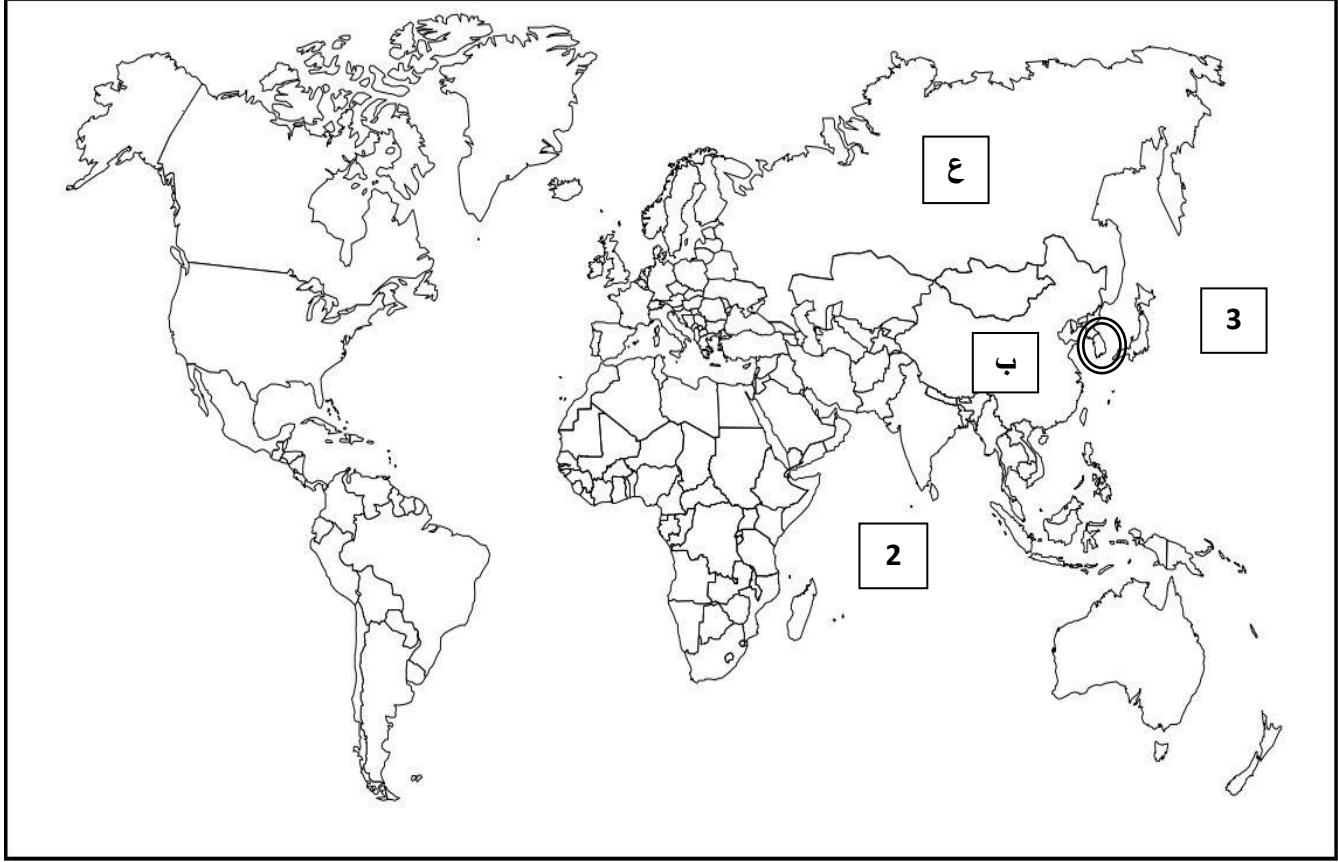
د. ظللي على الخريطة جزيرة " كيوشو ".

هـ. ضعي دائرة على الخريطة حول المدينة التي يوجد بها " متحف السلام ".

و. استخرجي رقم المدينة التي تعتبر من اكبر المدن اليابانية.

ز. ما القارة التي تتبعها المنطقة الساحلية المحاطة بشكل اسطواني على الخريطة.

50. ادرسي خريطة العالم التالية واجيبي عن الآتي:



أ. استخرجي الرمز الذي يشير الى الدولة التي تحتل المرتبة الاولى عالميا في صناعة السيارات.

ب. ضعي دائرة حول الدولة التي تحتل المرتبة الاولى عالميا في صناعة الدراجات النارية.

ج. استخرجي رقم المسطح المائي الذي يحد اليابان من جهة الغرب.

د. استنتجي اسم القارة التي تتبعها اليابان.

هـ. ظللي الدولة التي تحتل المرتبة الثانية عالميا في انتاج السيارات.

ز. ما اسم الدولة المحاطة بدائرة على الخريطة والمنافسة لليابان في صناعة السفن.

اجابة النشاط " 1 " ص 80 في الكتاب المدرسي.

" ب " يعود ارتفاع اسعار الاراضي السكنية والتجارية في اليابان الى صغر مساحة الاراضي السهلية خاصة حيث تتميز اليابان بأراضيها الجبلية وهذا ما يزيد من ارتفاع الاسعار.

اجابة النشاط " 4 " ص 82 في الكتاب المدرسي.

" أ " يوضح الشكل خريطة كل من اليابان والولايات المتحدة الامريكية يصاحبها الناتج المحلي وعدد السكان لكلا الدولتين.

" ب " مساحة الولايات المتحدة تكبر مساحة اليابان بفارق شاسع بينهما وقد ساعد اتساع مساحة الولايات المتحدة الامريكية على توفير الموارد الطبيعية بشتى انواعها ومصادرها فعزز ذلك من القدرة الاقتصادية لأمريكا بينما حدث العكس في اليابان حيث ان صغر مساحة الدولة لم يسمح بتوافر الموارد الطبيعية وكان ذلك من ابرز صعوبات التقدم الاقتصادي كما ان صغر المساحة ادى الى رفع اسعار الاراضي ويمكن ان يحد من عمليات التنمية المستقبلية.

الناتج القومي : يشمل الاستثمارات الخارجية للدولة في الدول الاخرى.

اجابة النشاط " 5 " ص 84 في الكتاب المدرسي.

" 1 " ترتيب المحاصيل : الخضروات / الارز / البطاطس / الفواكه / القمح / الحبوب.

" 2 " قلة انتاج الحبوب في اليابان بسبب زيادة معدل الاستهلاك.

" 3 " لقد تحقق الاكتفاء الذاتي من الارز لأنه عنصر رئيسي للغذاء في اليابان ولا يمكن الاستغناء عنه ويدخل في معظم الوجبات الغذائية. ولكن يجب التركيز على الاهتمام بالأراضي الزراعية وحمايتها وتنميتها.

" ب "

$$\begin{array}{r} 5.159 \\ \text{مضروبا في } 100 \\ \hline 515.9 \end{array}$$

" اكمل الحل "

ملتزمون بتحقيق رؤيتنا , الإجابة في موادنا

عنوان الوحدة: القوى والتكتلات الاقتصادية

الصف: العاشر

عنوان الدرس: الصين

الفصل الدراسي الثاني

السؤال الاول : اختاري الاجابة الصحيحة من بين البدائل المعطاة:

1. عاصمة الصين هي :

- أ. اوتوا ب. بكين ج. واشنطن د. طوكيو

2. اكبر مدن الصين هي :

- أ. نيانجين ب. هونج كونج ج. شنجهاي د. مكاو

3. اللغة الرسمية لسكان الصين هي :

- أ. الانجليزية ب. اليابانية ج. الهانية د. الفرنسية

4. العملة الرسمية للصين هي :

- أ. الين ب. الدولار ج. اليوان د. اليورو

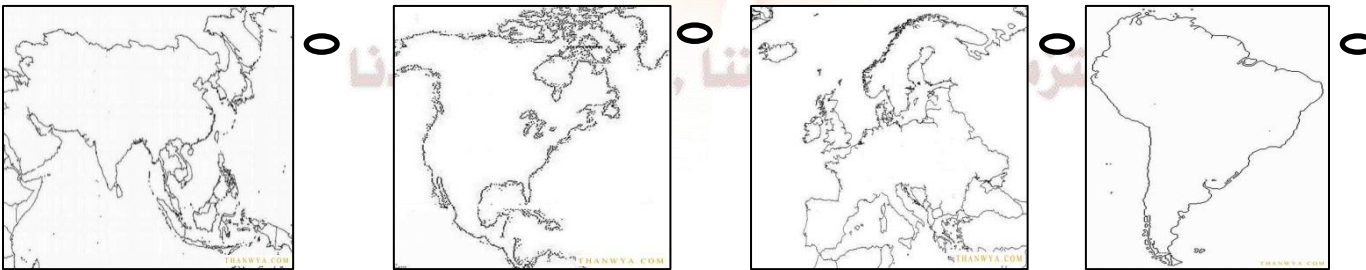
5. الدولة التي عاصمتها " بكين " هي :

- أ. الصين ب. الولايات المتحدة ج. اليابان د. كندا

6. خريطة الدولة التي عاصمتها " بكين " هي :



7. خريطة القارة التي تقع فيها الصين هي :



8. بدأ التاريخ الصيني المكتوب " بالآلاف سنة " قبل :

- أ. 3 ب. 4 ج. 5 د. 6

9. قامت جمهورية الصين الشعبية في العام الميلادي:

د. 1949

ج. 1948

ب. 1947

أ. 1946

10. المجال الذي ارتكزت عليه جمهورية الصين الشعبية منذ عام 1949م لبناء دولة قوية :

د. الثقافي

ج. السياسي

ب. الاقتصادي

أ. الاجتماعي

11. تطل جمهورية الصين الشعبية من جهة الشرق على ساحل المحيط:

د. المتجمد الشمالي

ج. الاطلسي

ب. الهندي

أ. الهادي

12. الدولة التي تحتل المرتبة الرابعة عالميا من حيث المساحة :

د. الصين

ج. كندا

ب. الولايات المتحدة

أ. روسيا

13. الدولة التي تحتل المرتبة الثالثة عالميا من حيث المساحة :

د. الصين

ج. كندا

ب. الولايات المتحدة

أ. روسيا

14. الدولة التي تحتل المرتبة الثانية عالميا من حيث المساحة :

د. الصين

ج. كندا

ب. الولايات المتحدة

أ. روسيا

15. الدولة التي تحتل المرتبة الاولى عالميا من حيث المساحة :

د. الصين

ج. كندا

ب. الولايات المتحدة

أ. روسيا

16. الجهة التي يحد فيها " المحيط الهادي " الصين هي:

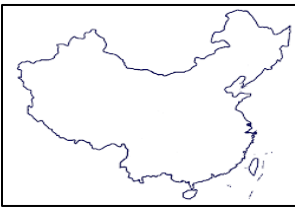
د. الغرب

ج. الجنوب

ب. الغرب

أ. الشمال

17. خريطة الدولة التي تحتل المرتبة الرابعة عالميا من حيث المساحة:



د.



ج.

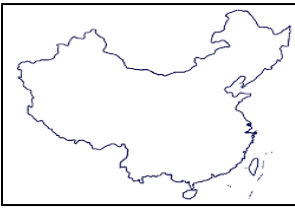


ب.



أ.

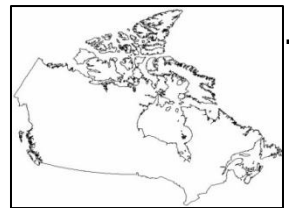
18. خريطة الدولة التي تحتل المرتبة الثالثة عالميا من حيث المساحة:



د.



ج.

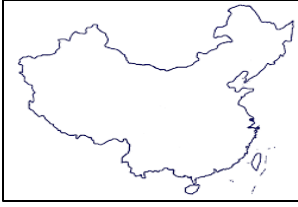


ب.



أ.

19. خريطة الدولة التي تحتل المرتبة الثانية عالميا من حيث المساحة:



د.



ج.

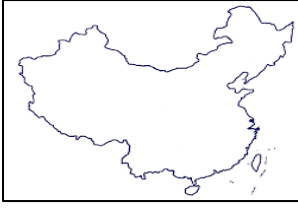


ب.



أ.

20. خريطة الدولة التي تحتل المرتبة الاولى عالميا من حيث المساحة:



د.



ج.



ب.



أ.

21. عدد الدول التي تحيط بجمهورية الصين الشعبية من جهة البر والبحر:

د. 20

ج. 16

ب. 10

أ. 6

22. يصل طول السواحل الصينية بالآلاف كيلومتر حوالي:

د. 20

ج. 18

ب. 16

أ. 14

23. يصل عدد الجزر الصينية:

د. 5800

ج. 5400

ب. 5000

أ. 4500

24. يصل عدد المناطق الادارية التي يتكون منها التقسيم الاداري للصين:

د. 36

ج. 34

ب. 32

أ. 30

25. المدينة الصينية التي كانت تحت الاحتلال البريطاني:

د. ماكاو

ج. شنجهاي

ب. هونج كونج

أ. نيانجين

26. المدينة الصينية التي كانت تحت الاحتلال البرتغالي:

د. ماكاو

ج. شنجهاي

ب. هونج كونج

أ. نيانجين

27. عادت مدينة " هونج كونج " التي كانت تحت الاحتلال البريطاني الى الصين في العام الميلادي:

د. 1999

ج. 1998

ب. 1997

أ. 1996

28. عادت مدينة " ماكاو " التي كانت تحت الاحتلال البرتغالي الى الصين في العام الميلادي :

أ. 1996 ب. 1997 ج. 1998 د. 1999

29. الدولة الاوروبية التي فرضت سيطرتها واحتلالها لمدينة " هونج كونج " قبل ان تستعيدها الصين عام 1997م :

أ. بريطانيا ب. المانيا ج. البرتغال د. فرنسا

30. الدولة الاوروبية التي فرضت سيطرتها واحتلالها لمدينة " ماكاو " قبل ان تستعيدها الصين عام 1999م :

أ. بريطانيا ب. المانيا ج. البرتغال د. فرنسا

31. الهضبة الصينية التي تكونت نتيجة ارتطام الصفيحة الهندية بالصفيحة الأوراسية :

أ. اليمن ب. التبت ج. الدكن د. نجد

32. تقع هضبة " التبت " في دولة:

أ. اليابان ب. الولايات المتحدة ج. كندا د. الصين

33. يصل ارتفاع هضبة " التبت " الصينية فوق مستوى سطح البحر بالأمتار:

أ. 3000 ب. 3500 ج. 4000 د. 4500

34. الدولة التي تحتل المرتبة الاولى عالميا من حيث عدد السكان هي:

أ. اليابان ب. الولايات المتحدة ج. كندا د. الصين

35. النسبة المئوية لسكان الصين بالنسبة لسكان العالم:

أ. 22 ب. 24 ج. 26 د. 28

36. يصل عدد القوميات التي تعيش في الاراضي الصينية :

أ. 25 ب. 35 ج. 45 د. 55

37. يصل عدد الاطفال المسموح انجابهم للأسرة الواحدة حسب السياسة التي طبقتها الصين للحد من الزيادة الطبيعية:

أ. 1 ب. 2 ج. 3 د. 4

38. كانت الصين بناء على معدل الزيادة الطبيعية تتسم بـ:

أ. انخفاض معدل المواليد وارتفاع معدل الوفيات .

ب. انخفاض معدل المواليد وانخفاض معدل الوفيات.

ج. ارتفاع معدل المواليد وانخفاض معدل الوفيات.

- د. ارتفاع معدل الوفيات وانخفاض معدل المواليد.
39. اصبحت الصين اليوم من حيث معدل الزيادة الطبيعية تتسم بـ:
- أ. انخفاض معدل المواليد وارتفاع معدل الوفيات .
- ب. انخفاض معدل المواليد وانخفاض معدل الوفيات.
- ج. ارتفاع معدل المواليد وانخفاض معدل الوفيات.
- د. ارتفاع معدل الوفيات وانخفاض معدل المواليد.
40. تقدمت التنمية الاقتصادية والعلمية والتكنولوجية في الصين ابتداء من القرن الثالث قبل الميلاد الى القرن الميلادي:
- أ. 6 ب. 7 ج. 8 د. 9
41. واحد من الاختراعات الصينية التالية يعد من الادلة البارزة على التطور العلمي في مختلف الفترات الزمنية:
- أ. الاسطرلاب ب. الكمبيوتر ج. الهاتف د. البوصلة
42. بدأت الصين بتطبيق سياسة الاصلاح والانفتاح في اواخر القرن الميلادي:
- أ. 18 ب. 19 ج. 20 د. 21
43. تمكنت الصين من تحقيق معدلات عالية من النمو الاقتصادي بنسبة " 9.2% " في العام الميلادي:
- أ. 2008 ب. 2009 ج. 2010 د. 2011
44. وصلت النسبة المئوية التي حققتها الصين في النمو الاقتصادي بنسبة في عام 2011م:
- أ. 9.1 ب. 9.2 ج. 9.3 د. 9.4
45. يتوقع الخبراء الاقتصاديون ان يصل حجم الاقتصاد في الصين بقدم عام 2020م بالتريليون الى:
- أ. 2 ب. 4 ج. 6 د. 8
46. يتوقع الخبراء الاقتصاديون ان يصل حجم الاقتصاد في الصين الى " 4 تريليون " بقدم عام الى:
- أ. 2019 ب. 2020 ج. 2021 د. 2022
47. وصلت النسبة المئوية لمساهمة قطاع الخدمات في الاقتصاد الصيني عام 2011م الى:
- أ. 10 ب. 34 ج. 47 د. 50
48. وصلت النسبة المئوية لمساهمة قطاع الصناعة في الاقتصاد الصيني عام 2011م الى:

أ. 10 ب. 34 ج. 47 د. 50

49. وصلت النسبة المئوية لمساهمة قطاع الزراعة في الاقتصاد الصيني عام 2011م الى:

أ. 10 ب. 34 ج. 47 د. 50

50. القطاع الاقتصادي الذي وصلت نسبته المئوية في الاقتصاد الصيني " 47% " عام 2011م:

أ. الزراعة ب. الصناعة ج. الصيد د. الخدمات

51. القطاع الاقتصادي الذي وصلت نسبته المئوية في الاقتصاد الصيني " 10% " عام 2011م:

أ. الزراعة ب. الصناعة ج. الصيد د. الخدمات

52. القطاع الاقتصادي الذي وصلت نسبته المئوية في الاقتصاد الصيني " 34% " عام 2011م:

أ. الزراعة ب. الصناعة ج. الصيد د. الخدمات

53. القطاع المشار اليه بالرمز " س " في الشكل المقابل:



أ. الزراعة ب. الصناعة

ج. الصيد د. الخدمات

54. تبلغ مساحة الاراضي الصالحة للزراعة في الصين " بالمليون هكتار " في عام 2011م حوالي:

أ. 111.5 ب. 111.6 ج. 111.7 د. 111.8

55. تصل النسبة المئوية لمساحة الاراضي الصالحة للزراعة في الصين من المساحة الكلية لها في عام 2011م:

أ. 11.93 ب. 11.94 ج. 11.95 د. 11.96

56. وصلت النسبة المئوية لمساحة الاراضي الصالحة للزراعة في الصين من المساحة الكلية " 11.96% " في العام الميلادي:

أ. 2009 ب. 2010 ج. 2011 د. 2012

57. المرتبة التي تحتلها الصين في النشاط الزراعي حسب نتائج الاحصاء الزراعي الاول لمنظمة الاغذية والزراعة الدولية " الفاو " عام 1998م:

أ. الاولى ب. الثانية ج. الثالثة د. الرابعة

58. الدولة التي تحتل المرتبة الاولى عالميا في النشاط الزراعي حسب نتائج الاحصاء الزراعي الاول لمنظمة الاغذية والزراعة الدولية " الفاو " عام 1998م:

أ. اليابان ب. الولايات المتحدة ج. كندا د. الصين
59. حصلت الصين على المرتبة الاولى عالميا في النشاط الزراعي حسب نتائج الاحصاء الزراعي الاول لمنظمة الاغذية والزراعة الدولية " الفاو " في العام الميلادي:

أ. 1996 ب. 1997 ج. 1998 د. 1999

60. الجهة الفرعية التي تتركز فيها المناطق الزراعية في الشمال والشمال:

أ. الشمال الغربي ب. الجنوب الشرقي ج. الشمال الشرقي د. الجنوب الغربي

61. النشاط الاقتصادي الذي يعتبر المصدر الاول لمعيشة شريحة كبيرة من سكان الصين هو:

أ. الزراعة ب. الصناعة ج. الصيد د. التجارة

62. تبلغ النسبة المئوية للعاملين في الزراعة من نسبة العمال الصينيين:

أ. 50 ب. 55 ج. 60 د. 65

63. تصل النسبة المئوية للأراضي المعرضة للتصحر في الصين حوالي:

أ. 36 ب. 37 ج. 38 د. 39

64. تقع المناطق التي تعاني من الجفاف وقلة سقوط الامطار في الصين في الجهة:

أ. الشمالية ب. الجنوبية ج. الشرقية د. الغربية

65. تشكل مساحة الاراضي الصحراوية في الصين من المساحة الاجمالية للبلاد:

أ. الربع ب. الثلث ج. الخمس د. النصف

66. اهم المحاصيل الزراعية في الصين الحبوب و:

أ. البطاطا ب. القمح ج. الارز د. الذرة

67. تصل النسبة المئوية لمساهمة الصين من الارز بالنسبة للإنتاج العالمي عام 2011م حوالي:

أ. 26.7 ب. 27.7 ج. 28.7 د. 29.7

68. وصلت النسبة المئوية لمساهمة الصين من الارز بالنسبة للإنتاج العالمي حوالي " 28.7% " في العام الميلادي:

أ. 2010 ب. 2011 ج. 2012 د. 2013

69. المنطقة التي تتركز فيها زراعة الارز في الطين هي الحوض الاسفل من نهر:

أ. ميكونج ب. الهوانج هو ج. اليانجستي د. سي كيانج

70. المرتبة التي يحتلها نهر اليانجستي من حيث الطول عالميا:

أ. الاولى ب. الثانية ج. الثالثة د. الرابعة

71. المرتبة التي يحتلها نهر النيل من حيث الطول عالميا:

أ. الاولى ب. الثانية ج. الثالثة د. الرابعة

72. المرتبة التي يحتلها نهر الامازون من حيث الطول عالميا:

أ. الاولى ب. الثانية ج. الثالثة د. الرابعة

73. اطول انهار العالم هو:

أ. الامازون ب. اليانجستي ج. المسيسيبي د. النيل

74. ثاني اطول انهار العالم هو:

أ. الامازون ب. اليانجستي ج. المسيسيبي د. النيل

75. ثالث اطول انهار العالم هو:

أ. الامازون ب. اليانجستي ج. المسيسيبي د. النيل

76. يقع مشروع سد " الاودية الثلاثة " الذي تشير اليه الصورة المقابلة في الصين على نهر:



أ. ميكونج ب. هوانج هو

ج. اليانجستي د. سي كيانج

77. بدأ انشاء مشروع سد " الاودية الثلاثة " على نهر اليانجستي في الصين لانتاج الطاقة الكهربائية في العام الميلادي:

أ. 1992 ب. 1993 ج. 1994 د. 1995

78. الطاقة المنتجة من مشروع سد " الاودية الثلاثة " على نهر اليانجستي في الصين :

أ. الحرارية ب. الكهربائية ج. الضوئية د. الميكانيكية

79. تم انشاء اولى قواعد الحديد والصلب في الصين في مدينة تبشي و:

أ. بكين ب. شنجهاي ج. ماكاو د. آنشان

80. تم انشاء اولى قواعد الحديد والصلب في الصين في مدينة آنشان و:

أ. تبشي ب. شنجهاي ج. ماكاو د. بكين

81. النسبة المئوية لمساحة الاراضي الزراعية في الصين بالنسبة لمساحة العالم:

أ. 5 ب. 6 ج. 7 د. 8

82. النسبة المئوية لسكان الاراضي الزراعية في الصين من سكان العالم:

- أ. 21 ب. 22 ج. 23 د. 24

83. النسبة المئوية التي تمتلكها الصين من الفحم في اراضيها حسب احصائية عام 2010م:

- أ. 4.4 ب. 8.6 ج. 19 د. 68

84. النسبة المئوية التي تمتلكها الصين من النفط في اراضيها حسب احصائية عام 2010م:

- أ. 4.4 ب. 8.6 ج. 19 د. 68

85. النسبة المئوية التي تمتلكها الصين من الغاز الطبيعي في اراضيها حسب احصائية عام 2010م:

- أ. 4.4 ب. 8.6 ج. 19 د. 68

86. المرتبة التي تحتلها الصين في صناعة السيارات عام 2011 م :

- أ. الاولى ب. الثانية ج. الثالثة د. الرابعة

87. النسبة المئوية لإنتاج السيارات الصينية من الانتاج العالمي عام 2011م:

- أ. 21 ب. 22 ج. 23 د. 24

88. الدولة التي تحتل المرتبة الاولى عالميا في صناعة السيارات عام 2011م:

- أ. اليابان ب. الولايات المتحدة ج. المانيا د. الصين

89. ارتفع حجم مبيعات الاجهزة الكهربائية المنزلية في الاسواق التجارية في الصين خلال السنوات الاخيرة من " 8 – الى "

- أ. 10 ب. 12 ج. 14 د. 16

90. وصلت النسبة المئوية لمعدل النمو الاقتصادي الهائل في الصين في السنوات الاخيرة الى:

- أ. 10 ب. 12 ج. 14 د. 16

91. ارتفع استهلاك الصين من الطاقة الكهربائية لمواكبة النمو الاقتصادي الهائل في السنوات الاخيرة الى:

- أ. 10 – 11 ب. 11 – 12 ج. 12 – 13 د. 13 – 14

92. القطاع الاقتصادي الذي يركز عليه الاقتصاد الصيني هو:

- أ. الزراعة ب. الصناعة ج. الصيد د. الخدمات

93. وصل عدد المدن الصينية عام 1949م حوالي:

- أ. 58 ب. 85 ج. 193 د. 600

94. وصل عدد المدن الصينية عام 1978م حوالي:

- أ. 58 ب. 85 ج. 193 د. 600

95. وصل عدد المدن الصينية عام 2006م حوالي:

- أ. 58 ب. 85 ج. 193 د. 600

96. أنشأت الصين مجموعة من المؤسسات الصناعية الكبيرة الحجم بداية فترات الاصلاح الاقتصادي في مدينة:

- أ. نيانجين ب. هونج كونج ج. بكين د. ماكاو

97. الدولة المصنعة للسيارة في الصورة المقابلة:

- أ. الولايات المتحدة ب. الصين
ج. اليابان د. ألمانيا



سيارة بيوكة من صنع الصين

السؤال الثاني:

1. " الصين دولة ذات حضارة قديمة وتاريخ عريق وتعد من اهم المواقع التي عاش فيها الانسان القديم " في ضوء العبارة : أ. ما دلالة ذلك؟

ب. متى بدأ تاريخ الصين المكتوب؟

ج. اعط نتيجة ترتبت على توالي الحروب والصراعات بين الاسر الصينية.

د. متى قامت جمهورية الصين الشعبية؟

2. فسري تنوع الاقاليم المناخية في الصين.

3. " تتنوع الظواهر التضاريسية في الصين بشكل كبير بسبب الامتداد المساحي الواسع لها " في ضوء العبارة:

أ. اعط امثلة للأشكال التضاريسية في الصين.

ب. كيف تكونت هضبة التبت؟ وكم يصل ارتفاعها؟

ما اثر الامتداد المساحي على المناخ؟

4. " تعد الصين اكثر دول العالم سكانا "

○ غير موافق

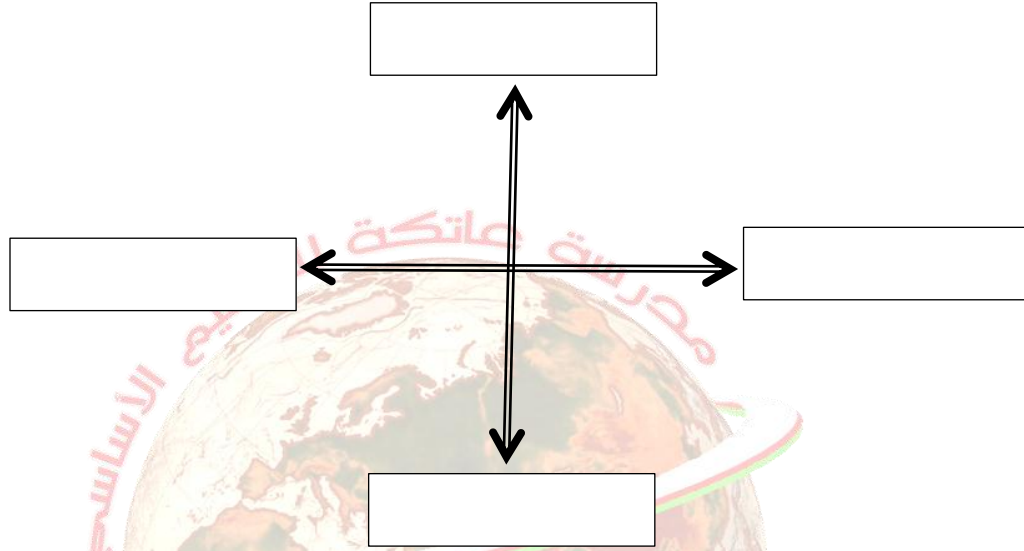
○ موافق

الدليل بالبيانات الاحصائية :

5. عللي تطبيق الصين لسياسة الطفل الواحد.

6. اعط النتيجة الايجابية المترتبة على تطبيق الصين لسياسة الطفل الواحد.

7. اكتب على المخطط التالي اهم الاختراعات الصينية الاربعة التي تشير الى التطور العلمي للصين.



8. " بدأت الصين تطبيق سياسة الاصلاح والانفتاح في اواخر سبعينات القرن العشرين " في ضوء العبارة:

أ. اعط امثلة لهذه السياسة.

ب. عللي تسمية الصين بـ " المارد الصيني " اليوم.

ج. برهني على ارتفاع معدلات النمو الاقتصادي الصيني بالبيانات الاحصائية.

9. وضح مستقبل الاقتصاد الصيني حسب توقع الخبراء الاقتصاديون.

10. ما التحديات التي تمنع الاقتصاد الصيني من استمرارية المحافظة على معدل الانتاج والنمو؟

11. ادرسي الشكل التالي دراسة متأنية واجبي عن الآتي:

أ. ضعي عنوانا مناسباً للشكل.

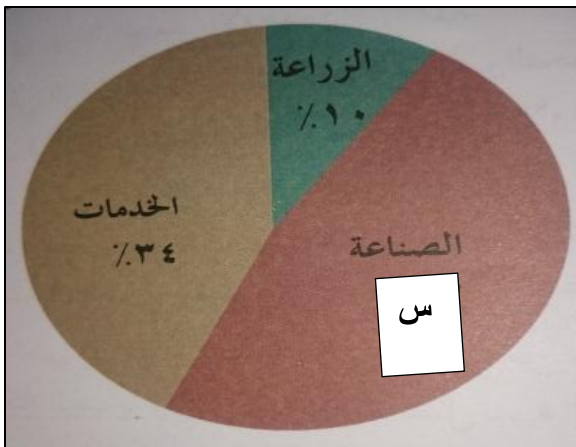
ب. استنتجي القطاعات التي يركز عليها الاقتصاد الصيني.

ج. رتبي القطاعات تنازلياً حسب نسبة مساهمتها في الاقتصاد الصيني.

د. متى كانت هذه النتائج التي حققها الاقتصاد الصيني؟

هـ. احسبي نسبة مساهمة القطاع المشار اليه بالرمز " س " .

و. كم يصل اجمالي مساهمة القطاعات في الشكل.



ز. حولي البيانات الواردة في الشكل الى اعمدة بيانية باستخدام ورق الرسم البياني.

12. ادرسي الشكل التالي دراسة متأنية واجيبي عن الآتي:

اليابان			الصين			المساحة
٢م٣٧٧,٨٣٥			٩,٦ مليون كم٢			
م٢٠٠٥	م٢٠٠٤	م٢٠٠٣	م٢٠٠٥	م٢٠٠٤	م٢٠٠٣	النمو الاقتصادي
%١,٩	%٤,٣	%٢,٧	%٨	%٨,٥	%٩,١	

أ. ضعي عنوانا مناسباً للشكل.

ب. استخرجي الدول العالمية التي يتناولها الجدول.

ج. استنتجي البيانات التي يشير إليها.

د. ما الملاحظ على الدولتين من حيث معدل النمو الاقتصادي.

هـ. كيف تؤثر المساحة على النمو الاقتصادي للدول؟

13. دلي على تصدر الصين للمرتبة الاولى عالميا في النشاط الزراعي عام 1998م.

14. عللي تراجع القطاع الزراعي في الاقتصاد الصيني.

15. " لم تعد الزراعة تمثل المصدر الاول لمعيشة عدد كبير من سكان الصين "

○ غير موافق

○ موافق

الدليل بالبيانات الاحصائية :

16. ما اخطر المشاكل الطبيعية التي تعاني منها المناطق الزراعية والريفية في الصين؟

17. برهني على تعرض الاراضي الزراعية في الصين للتصحّر.

18. عللي تركّز زراعة الارز في الحوض الاسفل من نهر اليانجستي.

19. برهني على اهمية الارز كغذاء رئيسي بالنسبة للصينيين.

20. ما دلالة هذه العبارة للصينيين " هل تناولت ارزك اليوم " ؟

21. " حافظت الصين على المدى الطويل على نمو سريع في انتاج الحبوب وقطاعات التشجير وتربية الدواجن والاسماك " اعط نتيجة ترتبت على ذلك.

22. صممي جدولا بعنوان المشاكل الطبيعية في المناطق الريفية والزراعية باستخدام نموذج " فراير " على ان يشمل:

الاسباب:	امثلة للمشاكل:
النتيجة بالبيانات الاحصائية:	دور الحكومة الصينية:
نسبة الاراضي المعرضة للتصحّر:	

23. ارسمي مخطط السمكة بعنوان " المحاصيل الزراعية " على ان يشمل : " المحاصيل / نسبة مساهمة الصين من الارز عالميا عام 2011م / اماكن زراعة الارز "



24. ما دور الحكومة الصينية للنهوض بالنشاط الزراعي؟

25. ارسمي جدولا بعنوان " نهر اليانجستي " على ان يشمل:

نهر اليانجستي				
الترتيب من حيث الطول	اهم مشروع على النهر	بداية انشاء المشروع	الطاقة المنتجة من المشروع	
				في الصين عالميا

26. برهني على ازدهار الصناعة في الصين.

27. اعط امثلة على اهم القواعد الصناعية الصينية التي انشأت في بداية فترات الاصلاح الاقتصادي.

28. فسري اهتمام الحكومة الصينية بتوزيع الصناعات الاستراتيجية.

29. ارسمي جدولاً بجهود الصين في بناء هيكلها الاقتصادي لتطوير الصناعة الحديثة على ان يشمل:

القواعد الصينية	المؤسسات الصناعية	توزيع الصناعات الاستراتيجية	تأسيس نظام صناعي
اماكن وجودها	اماكن وجودها	مكان وجودها	القطاعات التي يشملها

30. ادرسي الجدول التالي واجيبي عن الآتي:

أ. ضعي عنواناً مناسباً للشكل.

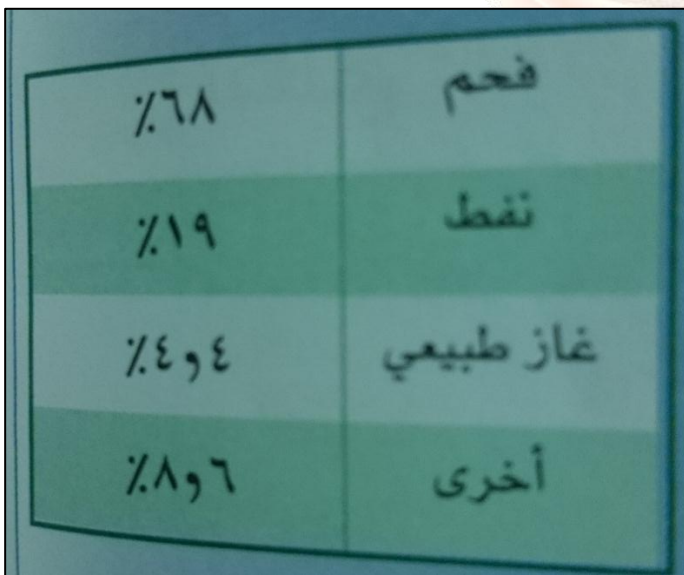
ب. استخرجي مصادر الطاقة من الجدول.

ج. ما المصدر الأكثر استهلاكاً؟ لماذا؟

د. ما المصدر الأقل استهلاكاً؟

هـ. احسبي الفرق بين استهلاك الفحم والنفط في الصين.

و. حولي البيانات الواردة في الجدول إلى اعمدة بيانية.



31. ما السمة المميزة للصناعات الصينية؟ وما النتيجة المترتبة عليها؟

32. ارسمي جدولاً بالصناعات الصينية على ان يشمل:

صناعات اخرى	الاجهزة الكهربائية المنزلية			صناعة السيارات			
	امثلة	سبب الاقبال	حجم المبيعات	الانماط		النسبة المئوية من الانتاج العالمي	المرتبة عام 2011م

33. ارسمي جدولاً بأنماط صناعة السيارات الصينية على ان يشمل:

طريقة تحقيقه	الانماط

34. عللي دمج العديد من شركات السيارات الصغيرة في الصين.

35. " تشهد صناعة الاجهزة الكهربائية المنزلية نموا وانتشارا لافتين في الاسواق التجارية في الصين "

○ غير موافق

○ موافق

الدليل بالبيانات الاحصائية :

36. فسري اقبال المستهلكون على شراء الاجهزة الكهربائية المنزلية.

37. اعط امثلة لأبرز الاجهزة الكهربائية المنزلية الصينية.

38. ادرسي الجدول التالي واجيبي عن الآتي:

الدولة	الإنتاج %
الصين	٢٣
الولايات المتحدة	١٠,٨
اليابان	١٠,٥
ألمانيا	٧,٩
كوريا الجنوبية	٥,٨
الهند	٤,٩
البرازيل	٤,٣
المكسيك	٣,٤
أسبانيا	٢,٩
فرنسا	٢,٩

أ. ضعي عنوانا مناسباً للشكل.

ب. ما الدولة التي تصدر قائمة الانتاج؟

ج. احسبي نسبة انتاج القارة الآسيوية بالاستعانة بالجدول.

د. رتبي دول القارة الأوروبية من حيث نسبة الانتاج.

هـ. حولي البيانات الواردة في الجدول والمتعلقة بقارة امريكا الشمالية الى اعمدة بيانية .

و. ما نوع الترتيب الوارد في الجدول لنسبة الانتاج؟

39. فسري انتاج المنسوجات الحريرية في الصين.

40. عللي تحول الصين من دولة مصدرة لمصادر الطاقة الى دولة مستهلكة.

41. " تحولت الصين من دولة مصدرة الى دولة مستهلكة في مصادر الطاقة " برهني على ذلك بالبيانات الاحصائية.

42. كيف تعمل الصين على حماية البيئة والمحافظة عليها؟

43. ما اهمية قطاع الخدمات في الصين للقطاعات الاخرى؟

44. كيف يتم معالجة التحديات التي تواجه قطاع الخدمات في الصين.

45. ادرسي الجدول التالي واجيبي عن الآتي:

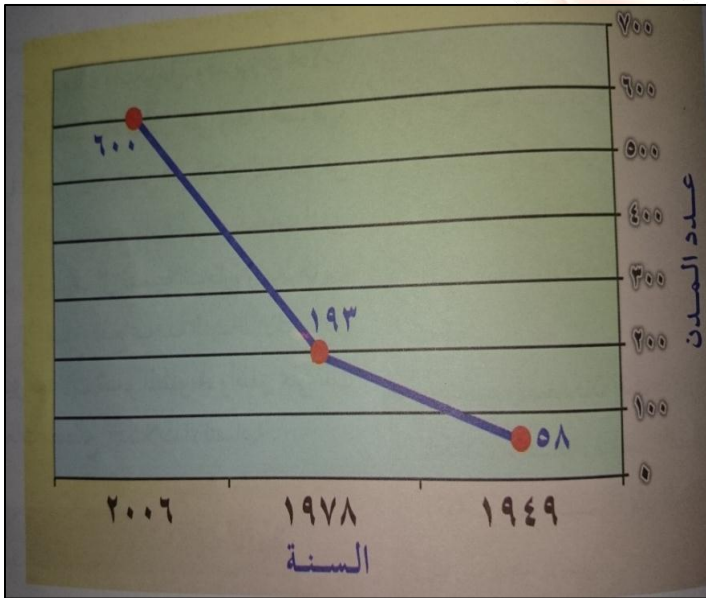
أ. ضعي عنوانا مناسباً للشكل.

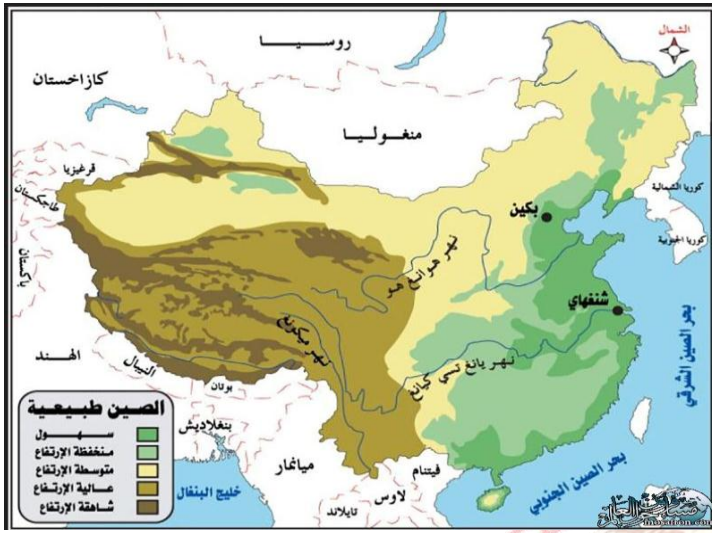
ب. استخرجي الفترة الزمنية التي يتناولها الشكل.

ج. احسبي الفرق في الانتاج بين عامي 1949 و 2006م.

د. حولي البيانات الواردة في الشكل الى جدول.

46. ادرسي الخريطة التالية واجيبي عن الآتي:






- أ. استنتجي الدولة التي تشير إليها الخريطة.
- ب. استخرجي أهم أشكال السطح في الخريطة.
- ج. ضعي دائرة على الخريطة حول النهر الذي يوجد عليه مشروع سد "الأودية الثلاثة".
- د. وقي على الخريطة "هضبة التبت".



47. ادرسي الخريطة التالية واجيبي عن الآتي:
- أ. استنتجي الدولة المشار إليها بالرقم "1" الخريطة.
- ب. ما الجهة التي تقع فيها الدولة في الخريطة المقابلة بالنسبة لآسيا والمشار إليها بالرقم "1".
- ج. ضعي دائرة حول العاصمة في الدولة المشار إليها بالرقم "1".
- د. استخرجي الدول المحيطة بها من جهة البر والبحر.
- هـ. ماذا تمثل المدينة المحاطة بمربع على الخريطة بالنسبة للدولة.
- و. وقي على الخريطة الدولة التي تحدها من جهة الشمال.
- ز. استخرجي رمز المسطح المائي الذي يحدها شرقا.
- ح. ما القارة التي تقع ضمنا الدولة المشار إليها بالرقم "1".



48. ادرسي الخريطة التالية واجيبي عن الآتي:
- أ. استنتجي القارة التي تشير إليها الخريطة.
- ب. وقي الصين على الخريطة.
- ج. ما ترتيب الصين من حيث المساحة في القارة.
49. ادرسي الشكل التالي واجيبي عن الآتي:



أ. استنتجي اسم النهر الصيني في الصورة.

ب. ما اسم المشروع الهيدروليكي الذي أنشأ عليه؟

ج. ما أهميته للصين؟

50. ادرسي الشكل التالي واجيبي عن الآتي

أ. ضعي عنوانا مناسباً للخريطة.

ب. استخرجي المدن التي ترتفع فيها

الكثافة السكانية.

ج. ضعي دائرة حول المدينة التي كانت

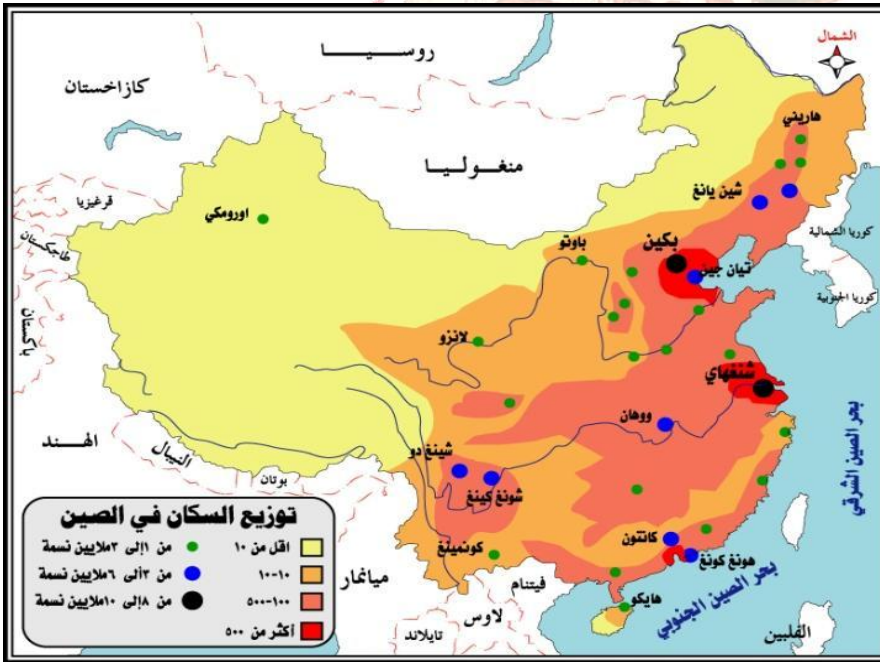
تحت الاستعمار البريطاني.

د. ما السياسة التي اتبعتها الصين

للتقليل من الكثافة السكانية المرتفعة؟

هـ. ما المرتبة التي تحتلها عالميا من

حيث الكثافة السكانية؟



سيارة بيوكة من صنع الصين

51. ادرسي الصورة التالية واجيبي عن الآتي:

أ. استنتجي الصناعة الصينية في الصورة.

ب. ما المرتبة التي احتلتها الصين في انتاجها عام 2011م.

اعداد: نعمة سعيد البريكية /ملحق الاختبارات جميع واضافة اصيلة الخالدي وخديجة السعيد/ مدرسة عاتكة للتعليم الاساسي

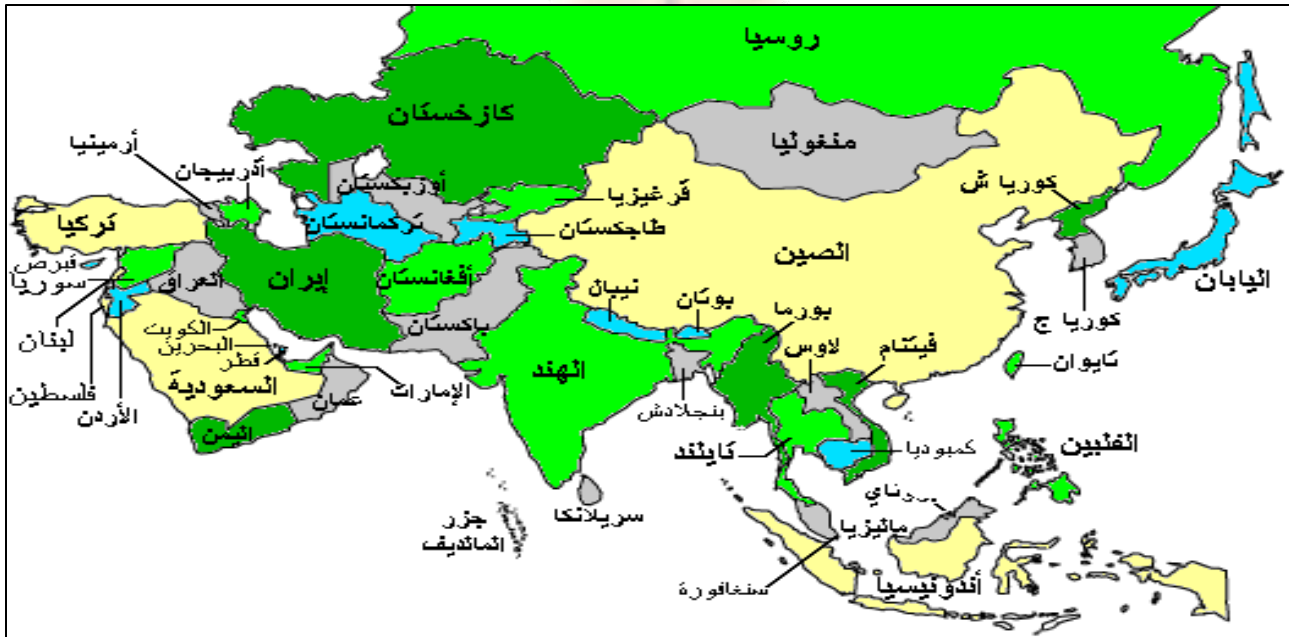
52. ادرسي الخريطة التالية واجيبي عن الآتي:



أ. ضعي عنوانا مناسباً للخريطة.

ب. وقعي على الخريطة الدول العشر الاولى في انتاج السيارات عام 2011م على المستوى العالمي.

خريطة لدول آسيا



اعداد: نعمة سعيد البريكية /ملحق الاختبارات تجميع واضافة اصيلة الخالدي وخديجة السعيد/ مدرسة عاتكة للتعليم الاساسي

53. اكمل الجدول التالي للأحداث التاريخية التي مرت بها الصين:

العام الميلادي	الأحداث المتعلقة بالصين
1949	
1997	
1999	
2011	
2011	
1998	
2011	
1994	
2011	

اجابة النشاط " 5 " ص 94 في الكتاب المدرسي، الإجابة في موادنا أ.

" 1 " يصعب على الصين تحقيق الامن الغذائي لسكانها وذلك لأنها تعد أكثر دول العالم سكانا بالرغم من توافر الارض الزراعية والمياه كما يؤثر ذلك على اتجاه الدولة الى الصناعة والخدمات وابتناعها نوعا ما عن الزراعة كنشاط اقتصادي رئيسي.

" 3 " زيادة رقعة الاراضي الزراعية ، تشجيع العمل فيها بزيادة الاجور والحوافز ، معالجة مشكلة التصحر.

ب.

" 1 " كلما قلت المشكلات البيئية التي تتعرض لها الاراضي والمنتجات الزراعية عموما ازدهرت الزراعة وتطورت ونمت اكثر.

" 2 " يعد الارز من بين اهم المحاصيل في الصين ولا بد من توافر شروط عدة لنجاح زراعته ومنها:

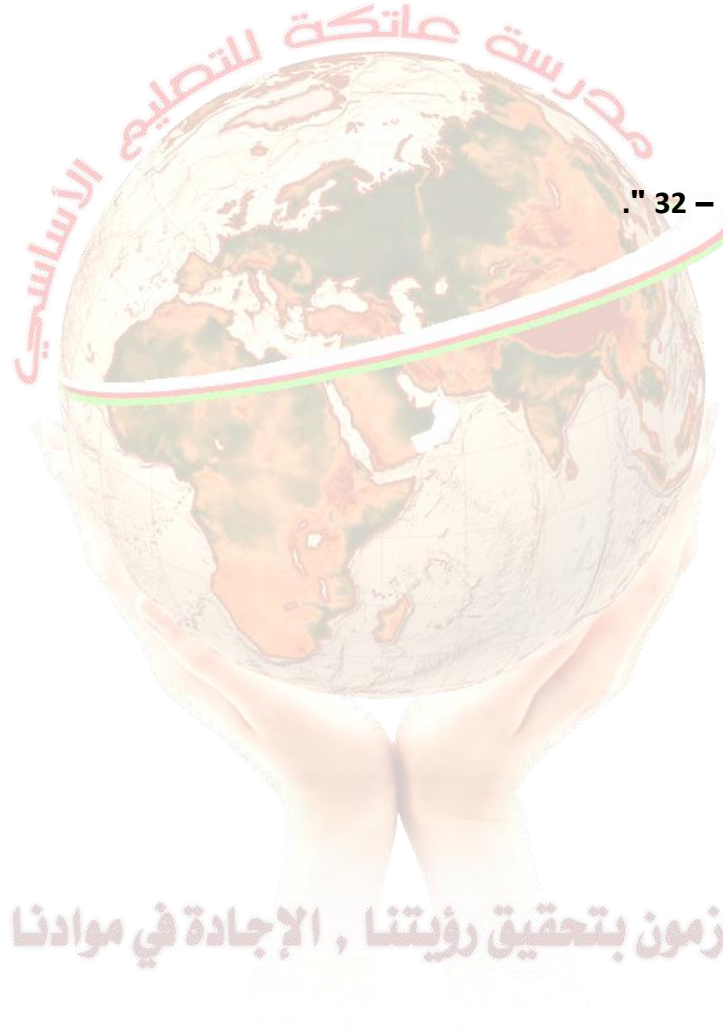
التربة الخصبة .

المياه بكميات جيدة .

اراض منخفضة.

ايدي عاملة.

درجات حرارة معتدلة " 30 - 32 " .



ملتزمون بتحقيق رؤيتنا , الإجابة في موادنا

الصف العاشر

عنوان الوحدة : التكتلات الاقتصادية العالمية

الفصل الدراسي الثاني

عنوان الدرس: التكتلات الاقتصادية في العالم " الاتحاد الاوروبي ، الآسيان "

السؤال الاول : اختاري الاجابة الصحيحة من بين البدائل المعطاة:

1. يشير المفهوم في العبارة التالية " تجمعات لدول متجاورة تهدف الى تنمية التجارة وتحريرها بين الدول الاعضاء لتحقيق معدلات النمو المطلوبة " الى التكتلات :

أ. الاجتماعية ب. السياسية ج. الاقتصادية د. الثقافية

2. يطلق على التكتل الاقتصادي الذي يجمع بين دول امريكا الشمالية اسم:

أ. الآسيان ب. الاتحاد الاوروبي ج. النافتا د. الاتحاد الافريقي

3. يطلق على التكتل الاقتصادي الذي يجمع بين " 28 " دولة اوروبية اسم:

أ. الآسيان ب. الاتحاد الاوروبي ج. النافتا د. الاتحاد الافريقي

4. يطلق على التكتل الاقتصادي الذي يجمع بين معظم الدول الافريقية اسم:

أ. الآسيان ب. الاتحاد الاوروبي ج. النافتا د. الاتحاد الافريقي

5. يطلق على التكتل الاقتصادي الذي يجمع بين سلطنة عمان وسبع دول مطلة على المحيط الهندي اسم:

أ. الاتحاد الاوروبي. ب. مجلس التعاون الخليجي.

ج. الاتحاد الافريقي. د. رابطة الدول المطلة على المحيط الهندي.

6. يطلق على التكتل الاقتصادي الذي يجمع بين دول مجلس التعاون لدول الخليج العربي اسم:

أ. الاتحاد الاوروبي. ب. مجلس التعاون الخليجي.

ج. الاتحاد الافريقي. د. رابطة الدول المطلة على المحيط الهندي

7. يصل عدد دول القارة الاوروبية حالي:

أ. 41 ب. 42 ج. 43 د. 44

8. اطول انهار القارة الاوروبية نهر:

أ. الراين ب. السين ج. الفولجا د. الدانوب

9. اكبر الدول التي تتبع القارة الاوروبية سياسيا:

أ. بريطانيا ب. المانيا ج. اسبانيا د. روسيا

10. اصغر الدول التي تتبع القارة الاوروبية سياسيا:

أ. بلجيكا ب. بولندا ج. الفاتيكان د. استونيا

11. أعلى المناطق ارتفاعاً في القارة الأوروبية جبل:

أ. الروس ب. ألمانيا ج. إسبانيا د. روسيا

12. نشأ الاتحاد الأوروبي بموجب المعاهدة التي وقعت في روما في العام الميلاد:

أ. 1955 ب. 1956 ج. 1957 د. 1958

13. عدد الدول الأوروبية التي تألف منها الاتحاد الأوروبي في بداية نشأته عام 1957م:

أ. 5 ب. 6 ج. 7 د. 8

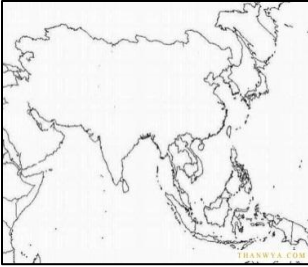
14. المدينة الأوروبية التي وقعت فيها معاهدة الاتحاد الأوروبي عام 1957م:

أ. بروكسل ب. أمستردام ج. باريس د. روما

15. اتفقت ستة من الدول الأوروبية على إنشاء السوق المشتركة بينها وتطورت بعد ذلك إلى قيام الاتحاد الأوروبي بموجب معاهدة " ماسترخت " في العام الميلادي:

أ. 1990 ب. 1992 ج. 1994 د. 1996

16. خريطة القارة الأوروبية هي:



17. يصل عدد النجوم التي يتألف منها علم الاتحاد الأوروبي:

أ. 10 ب. 12 ج. 14 د. 16

18. يرمز الوضع الدائري الذي تشكله النجوم في علم الاتحاد الأوروبي:

أ. التكامل ب. التعاون ج. الوحدة د. السلام

19. بلغ عدد دول المجموعة الأوروبية للفحم والحديد التي انشأت في عام 1951م :

أ. 6 ب. 10 ج. 15 د. 28

20. بلغ عدد دول المجموعة الأوروبية الاقتصادية التي انشأت في الفترة من " 1957 – 1986م " :

أ. 6 ب. 12 ج. 15 د. 28

21. بلغ عدد دول دول الاتحاد الاوروبي الذي انشأ في الفترة من " 1995 – 2007 م " :

- أ. 6 ب. 12 ج. 15 د. 28

22. الدولة الأوروبية التي انضمت الى الاتحاد الاوروبي عام 2013م:

- أ. كرواتيا ب. بلغاريا ج. هنغاريا د. ليتوانيا

23. انضمت بلغاريا الى الاتحاد الاوروبي في العام الميلادي:

- أ. 1995 ب. 2004 ج. 2007 د. 2013

24. اضخم توسع للاتحاد الاوروبي في العام الميلادي:

- أ. 1995 ب. 2004 ج. 2007 د. 2013

25. عدد دول الاتحاد الاوروبي قبل عام 1990م:

- أ. 6 ب. 15 ج. 27 د. 30

26. عدد دول الاتحاد الاوروبي بعد عام 2004م:

- أ. 6 ب. 15 ج. 27 د. 30

27. الوحدة النقدية الاولى التي اطلقتها دول الاتحاد الاوروبي عند تأسيسه عام 1992م هي :

- أ. اليورو ب. بالدولار ج. الين د. الايكو

28. الوحدة النقدية الموحدة التي استبدلتها دول الاتحاد الاوروبي في اجتماع مدريد بإسبانيا عام 1995م هي :

- أ. اليورو ب. بالدولار ج. الين د. الايكو

29. الدولة الأوروبية التي عقد فيها اجتماع دول الاتحاد الاوروبي عام 1995م :

- أ. فرنسا ب. المانيا ج. اسبانيا د. بريطانيا

30. الدولة الأوروبية التي رفضت اعتماد " اليورو " كعملة موحدة بين دول الاتحاد الاوروبي في تعاملاتها النقدية هي:

- أ. فرنسا ب. المانيا ج. اسبانيا د. بريطانيا

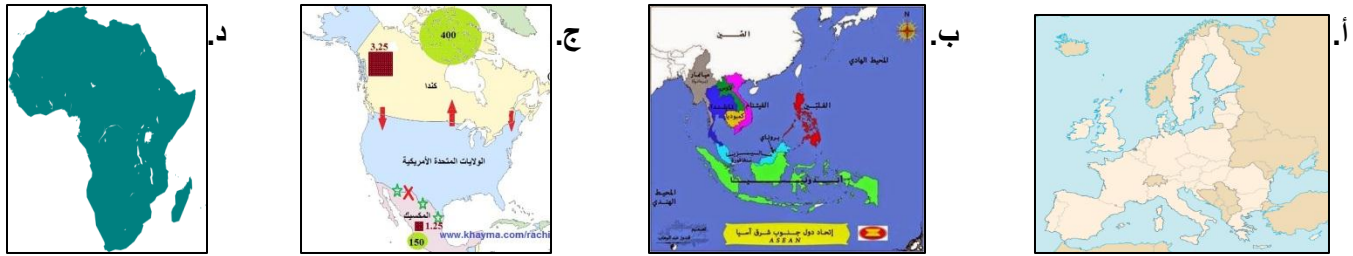
31. العملة النقدية التي تشير اليها الصورة المقابلة هي:



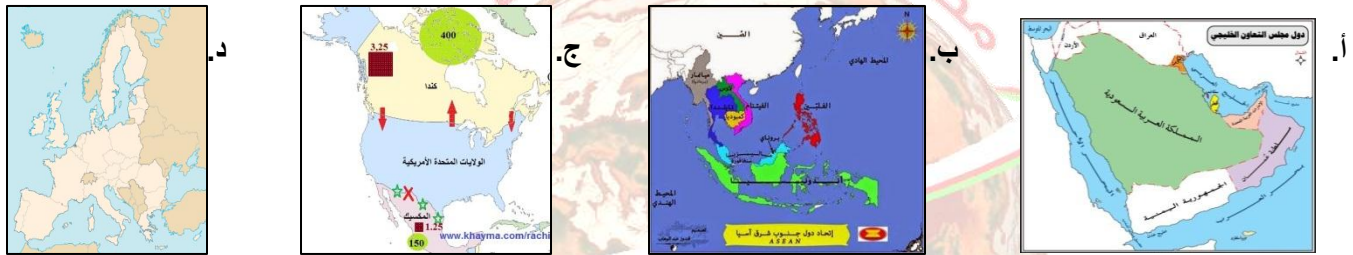
- أ. اليورو ب. بالدولار

- ج. الين د. الايكو

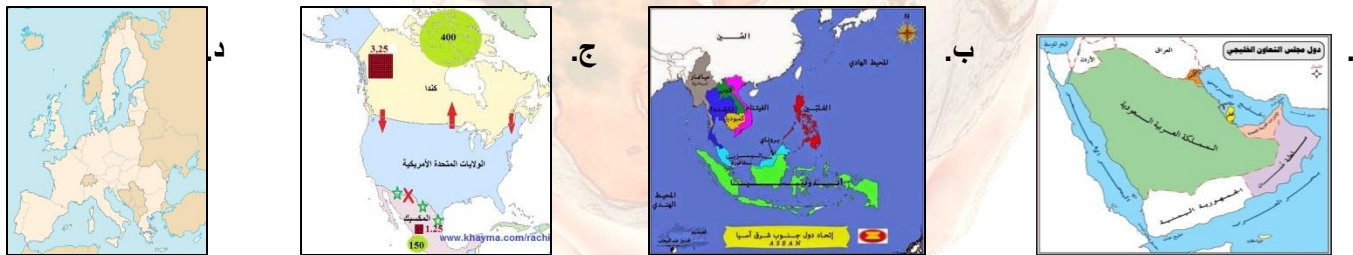
32. خريطة التكتل الاقتصادي المعروف بـ " النفطا " هي:



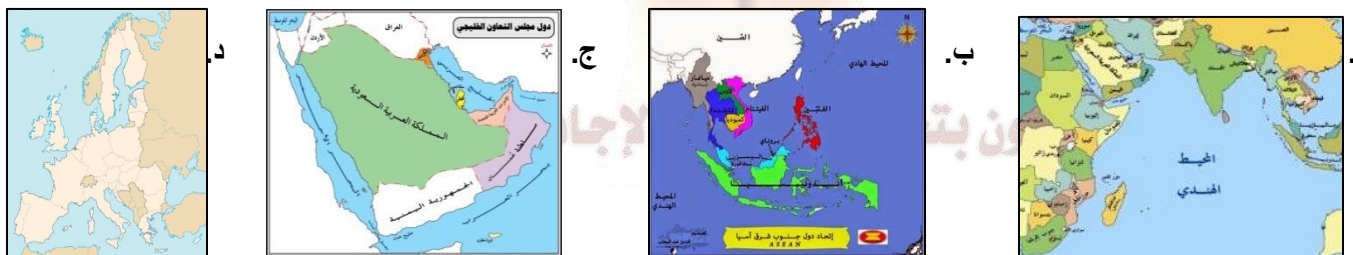
33. خريطة الاتحاد الاوروبي هي:



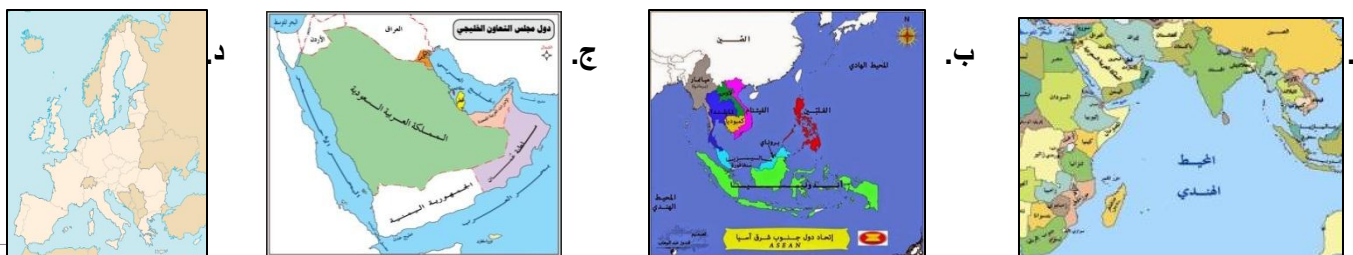
34. خريطة الاتحاد الافريقي هي:



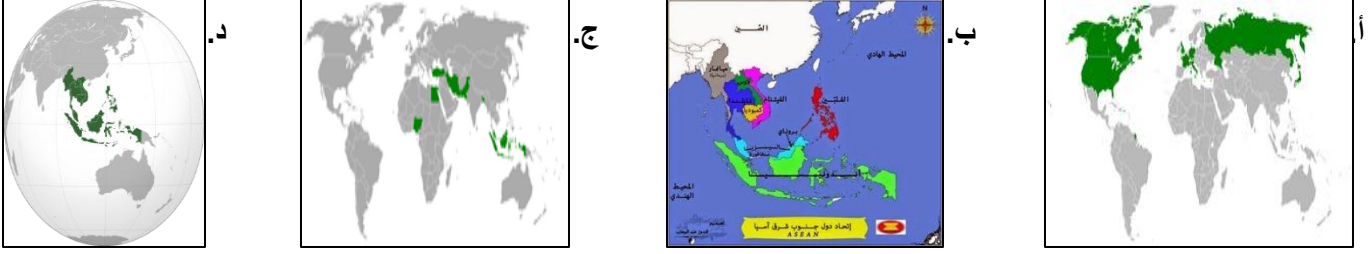
35. خريطة رابطة الدول المطلة على المحيط الهندي هي:



36. خريطة مجلس التعاون لدول الخليج العربي هي:



37. خريطة مجموعة الدول الثماني النامية هي:



38. يصل عدد دول قارة اسيا:

- أ. 45 ب. 46 ج. 47 د. 48

39. اكبر دول القارة الآسيوية مساحة هي :

- أ. الصين ب. روسيا ج. الهند د. جزر المالديف

40. اصغر دول القارة الآسيوية مساحة هي :

- أ. الصين ب. روسيا ج. الهند د. جزر المالديف

41. اطول انهار القارة الآسيوية مساحة هو :

- أ. الجانج ب. الفرات ج. اليانجستي د. دجلة

42. نشأت رابطة الآسيان في العام الميلادي:

- أ. 1975 ب. 1976 ج. 1977 د. 1978

43. مجموع الدول التي يضمها اتحاد الآسيان عام 1976م :

- أ. 5 ب. 7 ج. 9 د. 10

44. الجهة الفرعية التي تقع فيها دول اتحاد الآسيان بالنسبة لآسيا:

- أ. الشمال الغربي ب. الجنوب الشرقي ج. الشمال الشرقي د. الجنوب الغربي

45. مجموع الدول التي بدأ تكوين رابطة اتحاد الآسيان بها :

- أ. 5 ب. 7 ج. 9 د. 10

46. تصنف الدول التي تضمها مجموعة الثماني النامية التي تأسست عام 1997م :

- أ. خليجية ب. عربية ج. اسلامية د. اقليمية

47. . تأسست مجموعة الدول الثماني النامية في تركيا في العام الميلادي:

أ. 1995 ب. 1996 ج. 1997 د. 1998

48. الدولة التي تأسست فيها مجموعة الدول الثماني النامية في تركيا في عام 1997م:

أ. مصر ب. ماليزيا ج. ايران د. تركيا

49. مجال الكامل والتعاون بين المجموعات العالمية الكبرى هو:

أ. الاجتماعي ب. الاقتصادي ج. الثقافي د. السياسي

50. الدول الأوروبية التي لا تسعى للانضمام الى الاتحاد الاوروبي سويسرا و:

أ. مقدونيا ب. ايسلندا ج. الفاتيكان د. صربيا

51. العلم في الصورة المقابلة يشي الى:



أ. الآسيان ب. الاتحاد الاوروبي

ج. النافتا د. الاتحاد الافريقي

السؤال الثاني:

1. فسري ظهور التجارب الاقتصادية في مختلف دول العالم.

2. " برزت مجالات التعاون والتكامل بين المجموعات في مختلف دول العالم في المجال الاقتصادي على وجه الخصوص " على ذلك.

3. ارسى جدولاً بعنوان " التكتلات الاقتصادية " على ان يشمل:

التعريف	الدلائل التي يشير اليها	السبب	الاهمية	النتائج	الامثلة

ملتزمون بتحقيق رؤيتنا ، الإجابة في موادنا

3. ارسمي جدولاً بأهم التكتلات الاقتصادية العالمية على أن يشمل:

المجموعات الاقتصادية	عدد / اسم الدول التي يتألف منها	القارة التابع لها

4. ارسمي مخطط السمكة بعنوان " الاتحاد الأوروبي " على أن يشمل: " اصل الفكرة / الهدف منها / الاسباب / سنة الانشاء " السوق الأوروبية المشتركة " / عدد الدول / سنة الانشاء " .



5. مما يتكون علم الاتحاد الأوروبي ؟ وإلى ما تشير مكوناته؟

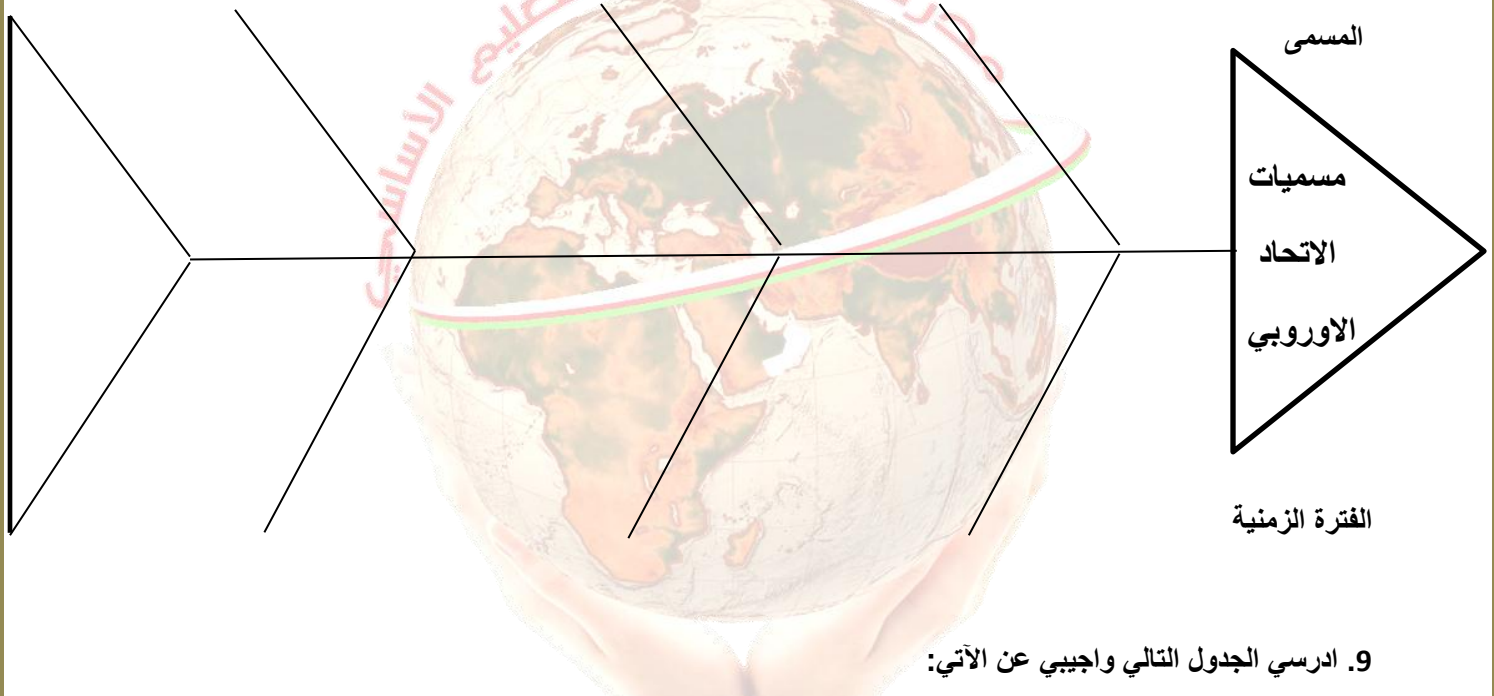
6. " يسعى الاتحاد الأوروبي إلى توسيع مساحته الجغرافية وزيادة عدد الدول المنتسبة له " ما الاهداف التي يسعى إلى تحقيقها من هذا التوسيع؟

7. امامك جدولاً بالأسباب المرتبطة بأهداف توسيع الاتحاد الأوروبي صنفها في الجدول " توفير فرص عمل / تحقيق معدلات نمو سريعة في اقتصاديات الدول المرشحة للانضمام إليه / الانقسام والصراعات / تعزيز اقتصاد الاتحاد الأوروبي / لتصبح أوروبا أكثر اماناً / زيادة قوة الاتحاد الأوروبي على مستوى العالم / تشجيع بقية الدول الأوروبية للانضمام إليه "

اعداد: نعيمة سعيد البريكية /ملحق الاختبارات لجميع واضافة اصيلة الخالدي وخديجة السعيد/ مدرسة عاتكة للتعليم الاساسي

توحيد أوروبا	تحقيق الاستقرار	ايجاد سوق موحد	تحفيز الدول الأوروبية	جذب الاستثمارات الأجنبية

8. ارسى مخطط السمكة لمسميات الاتحاد الأوروبي على ان يشمل " المسمى / الفترة الزمنية "



9. ادرسى الجدول التالي واجيبى عن الآتي:

السنة	الدول	المجموعة الأوروبية للفحم والحديد
١٩٥١ م	ألمانيا، إيطاليا، بلجيكا، فرنسا، لوكسمبورج، هولندا.	المجموعة الأوروبية الاقتصادية
١٩٥٧ م	ألمانيا، إيطاليا، بلجيكا، فرنسا، لوكسمبورج، هولندا.	
١٩٧٣ م	الدنمارك، أيرلندا، بريطانيا	
١٩٨١ م	اليونان	
١٩٨٦ م	البرتغال، إسبانيا	
١٩٩٥ م	النمسا، فنلندا، السويد	الاتحاد الأوروبي
٢٠٠٤ م	قبرص، التشيك، استونيا، لاتفيا، مالطا، بولندا، سلوفاكيا، سلوفينيا، هنغاريا، ليتوانيا	
٢٠٠٧ م	بلغاريا، رومانيا	
٢٠١٣ م	كرواتيا	
سيتم انضمامها في حال استوفت الشروط اللازمة للعضوية	تركيا، صربيا، الجبل الأسود، مقدونيا، أيسلندا	الدول المرشحة للانضمام

أ. ضعي عنوانا مناسباً للجدول.

ب. ما الهدف الرئيسي من قيام الاتحاد الأوروبي؟

ج. تتبعي مراحل نشأة الاتحاد الأوروبي وتطوره.

د. ما الأسباب التي دفعت باقي دول القارة للانضمام إليه؟

10. ادرسي الجدول التالي واجيبي عن الآتي:

عدد الدول	قبل عام ١٩٩٠م	بعد عام ٢٠٠٤م
عدد السكان	٧٤ مليون	٤٩٧,٤٥٦ مليون نسمة
إجمالي الدخل	٤٤٤ مليار يورو	٩,٦١٣ مليار يورو
المساحة	٧٣٨,٥٧٣ كم ^٢	٤,٤٥٦,٣٠٤ مليون كم ^٢

أ. ما التكتل الاقتصادي الذي يشير إليه الجدول؟

ب. ما الملاحظ على عدد الدول بين الفترتين ؟

ج. ما أثر زيادة المساحة على الوضع الاقتصادي؟

11. " تعزيز التنمية المتناسقة للنشاطات الاقتصادية والتوسع المستمر المتوازن والاستقرار المتزايد والارتفاع السريع في مستويات المعيشة وعلاقات اقرب بين دولها " في ضوء النص:

أ. اين ورد هذا النص؟

ب. ماذا يمثل النص اعلاه.

ج. استنتجي العوامل التي ساعدت على تحقيق المبادئ الاساسية للاتحاد الاوروبي في ضوء النص.

12. " تعد السوق الموحدة " السوق الأوروبية المشتركة " من اهم مؤسسات الاتحاد الاوروبي واغوى الاسواق التجارية في العالم " في ضوء العبارة : **التعاون بتحقيق رؤيتنا , الإجابة في موادنا**

أ. متى ظهرت السوق الأوروبية المشتركة ؟

ب. كم عدد الدول المكونة لها ؟

ج. فسري وضع مجموعة من الاهداف للسوق الأوروبية المشتركة.

د. وقعي اسماء الدول المكونة للاتحاد الاوروبي عام 1957م على الخريطة التالية:

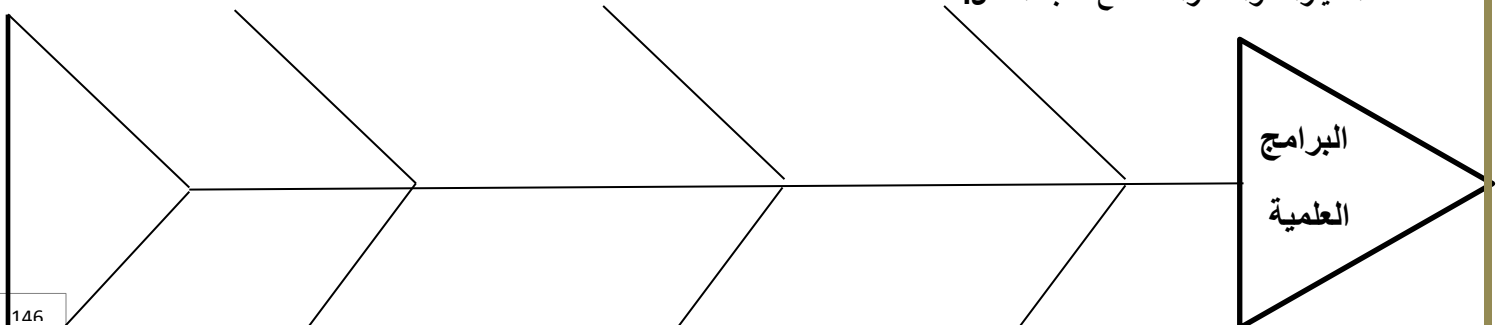


13. ارسمي جدولاً بأهداف السوق الأوروبية المشتركة.

الاهداف					
ازالة الرسوم الجمركية	ازالة العقيبات	وضع سياسة موحدة	سن القوانين	وضع سياسات موحدة	تشجيع حرية الخدمات
الآلية " الطريقة "	السبب	مجالات الانتاج	السبب	السبب	مثال

14. " استطاعت السوق الأوروبية المشتركة بهذه الاهداف ان تتغلب على العديد من العقبات التي ظهرت نتيجة تعدد القوميات واللغات والاتجاهات الوطنية المختلفة " برهني على صحة ذلك بالبيانات الاحصائية.

15. ارسمي مخطط السمة للبرامج الاقتصادية والعلمية الأوروبية المتكاملة على ان يشمل " البرامج الفضائية / الطائرات / السيارات والقطارات " مع كتابة المثال.



اعداد: نعيمة سعيد البريكية /ملحق الاختبارات تجميع و اضافة اصيلة الخالدي /وخديجة السعيد / مدرسة عاتكة للتعليم الاساسي

16. امامك مجموعة من العوامل الطبيعية والبشرية التي ساعدت على قيام الاتحاد الاوروبي صنفها في الجدول التالي: " فتح الحدود بين الدول الاعضاء / الموقع الجغرافي / حرية تنقل السلع والافراد والخدمات / التنوع المناخي / السياسات المشتركة "

العوامل الطبيعية	العوامل البشرية

17. اعط نتيجة ترتبت على الموقع الجغرافي للاتحاد الاوروبي.

18. برهني على التنوع المناخي بين دول الاتحاد الاوروبي.

19. ارسمي مخطط السمكة بعنوان " اتفاقية ماسترخت " على ان تشمل : " العام الميلادي / بنود الاتفاقية / الوحدة النقدية / الدولة التي لم توافق على اعتماد اليورو "



20. فرقي بين درجة اقتصاد الغرب الاوروبي والشرق الاوروبي لدول الاتحاد.

الغرب الاوروبي	الشرق الاوروبي

21. كيف ساعد الاتحاد الاوروبي في النهوض باقتصاد الدول الشرقية للاتحاد؟

22. اعط نتيجة ترتبت على تشجيع الاتحاد الاوروبي الاستثمار في الدول الشرقية للاتحاد.

23. صمم خريطة ذهنية بعنوان " اتحاد الآسيان " على ان يشمل:

العام الميلادي:	عدد الدول:
الموقع من آسيا:	النجاح العالمي:

24. " تعد رابطة الآسيان ذات أهمية كبرى للمنطقة لاسيما على الجانب الاقتصادي والامني " في ضوء العبارة:

- ما العوامل الطبيعية والبشرية التي ساعدت على ذلك؟
 - اذكري الاهداف التي تسعى الى تحقيقها.
 - كم عدد الدول المكونة لها في بداية التأسيس وكم عددها اليوم؟
25. ادرسي الجدول التالي واجيبي عن الآتي:

الدولة	تاريخ الانضمام
إندونيسيا، ماليزيا، سنغافورة، الفلبين ، تايلاند	أغسطس ١٩٦٧م
بروناي	يناير ١٩٨٤م
فيتنام	يوليو ١٩٩٥م
لاوس ، ميانمار (بورما)	يوليو ١٩٩٧م
كمبوديا	أبريل ١٩٩٩م

- ضعي عنوانا مناسباً للجدول.
 - استنتجي الفترة الزمنية التي يشملها.
 - تتبعي مراحل تطور هذا الاتحاد.
 - ما القارة التي تقع ضمنها الدول في الجدول؟
 - ما الجهة التي تقع فيها بالنسبة للقارة؟
26. " ارتبط النمو الاقتصادي للآسيان بالاستقرار الامني في المنطقة " وضح ذلك.

27. ما السمة المميزة للنمو الاقتصادي للآسيان؟ وما النتائج التي ترتبت عليها؟

28. ارسمي جدولاً بعنوان حقانق دول جنوب شرقي آسيا.

الانتكاسة			سبب نجاحها الاقتصادي	الدلائل	المنتجات الصناعية	السياسات الاقتصادية	
النتيجة	السبب	العام				سابقاً	حالياً

29. صممي جدولاً بعنوان "الازمة الاقتصادية" باستخدام نموذج فراير على ان يشمل:

الاسباب:		بداية الازمة:	
		جوانب الازمة:	
النجاحات التي حققتها:		الرابطة اليوم:	

29. ارسمي جدولاً بعنوان "مجموعة الدول الثماني النامية" على ان يشمل:

الخصائص	مكان التأسيس	العام الميلادي	الهدف

30. قارني بين الاتحاد الاوروبي واتحاد الآسيان من حيث:

وجه المقارنة	الاتحاد الاوروبي	اتحاد الآسيان
القارة التابعة له		
عدد الدول		
الاهداف		
الاهمية		
العملة النقدية الموحدة		—

31. ادرسي الشكل التالي واجيبي عن الآتي:

أ. استنتجي اسم المجموعة في الصورة .

ب. كم عددها؟

ج. ما القارات التي تتوزع فيها دولها؟

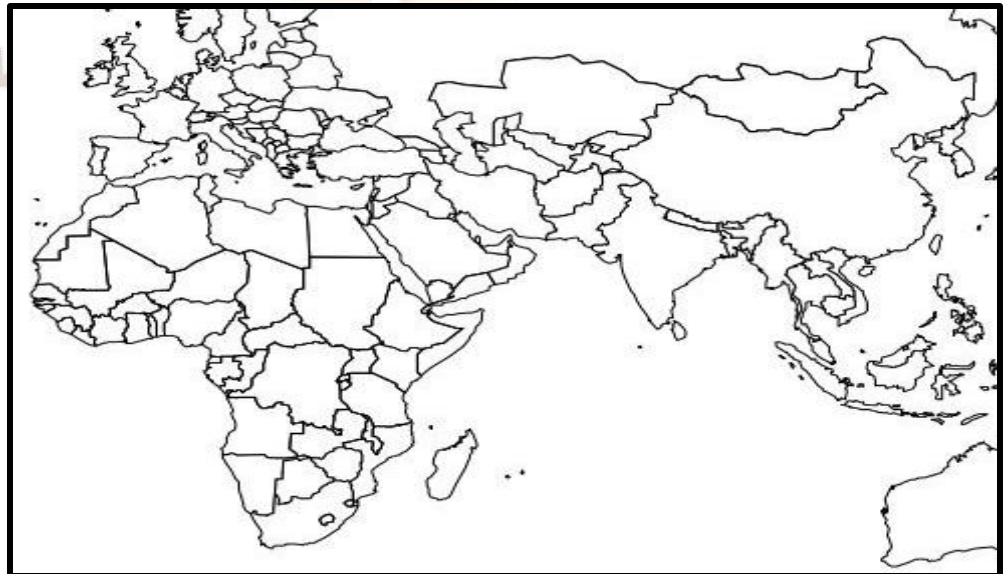
د. متى تأسست؟

هـ. ما ابرز اهدافها؟

ز. ما السمة المشتركة بين دولها؟

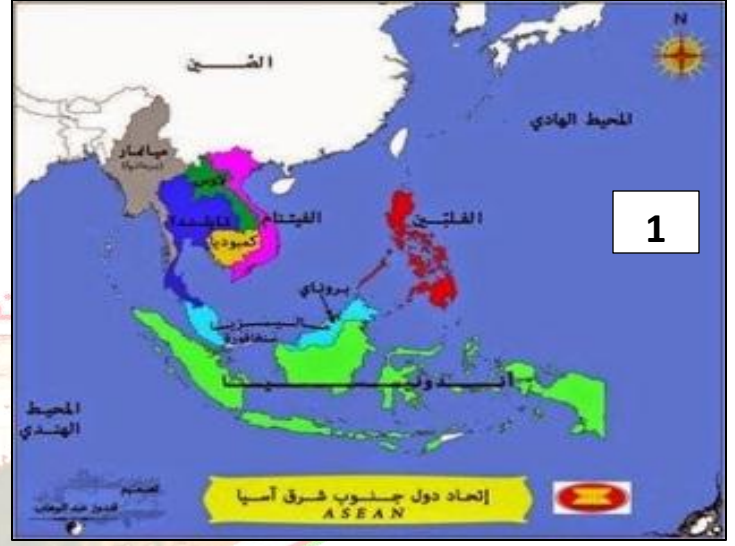
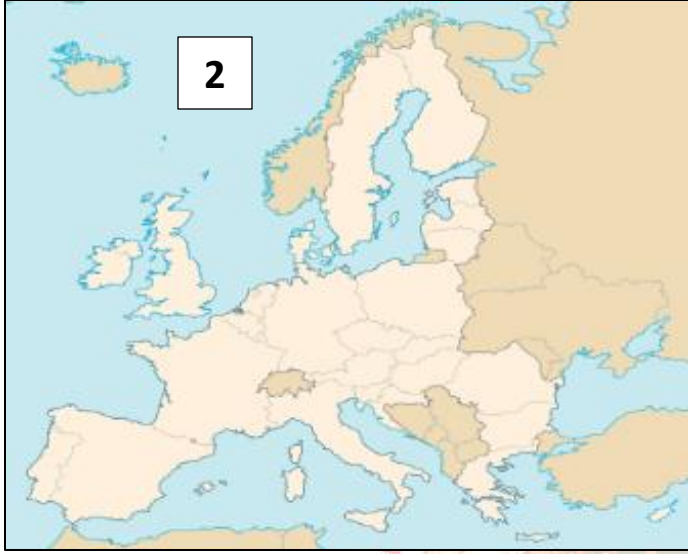
ح. وقعي على الخريطة الدول التي تنتمي اليها

مجموعة الدول الثماني النامية		
مجموعة من أكبر الدول المسلمة		
D-8		
العلم	إجمالي الناتج مليار	عدد السكان مليون
	٥٦,٦	١٣٩,٢
	٧٨,٨	٧٢,٦
	٢٥٧,٦	٢١٧,٦
	١٦٣,٤	٦٧,٠
	١١٨,٣	٢٤,٩
	٧٢,١	١٢٨,٧
	٩٦,١	١٥٢,١
	٣٠٢,٨	٧١,٧



اعداد: نعمة سعيد البريكية /ملحق الاختبارات تجميع واطافة اصيلة الخالدي وخديجة السعيد/ مدرسة عاتكة للتعليم الاساسي

32. ادرسي الخرائط التالية واجيبي عن الآتي:



أ. استنتجي التكتل الاقتصادي في:

- الخريطة رقم " 1 " :

- الخريطة رقم " 2 " :

- القارة التي تتبعها الاتحاد في:

- الخريطة رقم " 1 " :

- الخريطة رقم " 2 " :

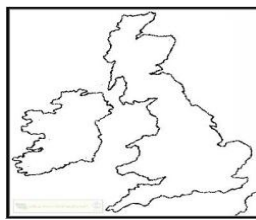
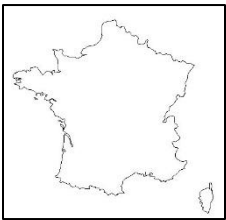
ب. ظللي على الخريطة رقم " 2 " الدولة التي رفضت اعتماد " اليورو " كعملة موحدة في تعاملاتها النقدية اسوة ببقية دول الاتحاد.

ج. وقعي على الخريطة رقم " 2 " الدولة التي وقعت فيها معاهدة مارس / 1957م لإنشاء السوق الأوروبية المشتركة.

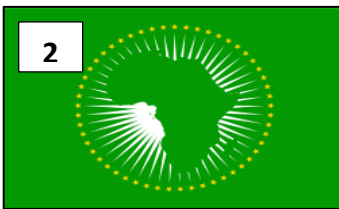
د. ما الجهة الفرعية التي تقع فيها الرابطة في الخريطة رقم " 1 " بالنسبة للقارة التابعة لها؟

هـ. ضعي دائرة على الخريطة رقم " 1 " حول الدولة التي انضمت الى الرابطة عام 1999م.

و. دققي في الخرائط التالية: - اكتبى اسماء الدول التي تشير اليها الخرائط المقابلة: - ما الاتحاد الذي تتبعها؟



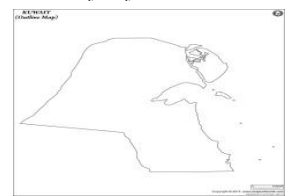
- ما الاتحاد الذي تتبعها؟



34. ادرسي الخرائط التالية واجيبي عن الآتي:



ب. دققى فى الخرائط التالية:



- الى اي الاتحادات الاقتصادية تنتمي الخرائط اعلاه.

- اكتب اسماء الدول التي تشير اليها الخرائط اعلاه.

ج. استنتج القارة التي تتبعها الاتحادات التالية:

- الخريطة رقم " 1 " :

- الخريطة رقم " 2 " :

- الخريطة رقم " 3 " :

د. استخرج دول الاتحاد التي تشير اليها الخريطة رقم " 1 " .

هـ. كم عدد الدول في الاتحادات في التي تشير اليها الخرائط:

- رقم " 1 " :

- رقم " 2 " :

- رقم " 3 " :

و. دقي في الخرائط التالية:

- اكتب اسماء الدول التي تشير

اليها الخرائط المقابلة:

- ما الاتحاد الذي تتبعها؟



35. ادرسي الخريطة التالية واجيبي عن الآتي:

أ. استنتج الاتحاد الذي تشير اليه الخريطة المقابلة.

ب. كم عدد دول الاتحاد؟

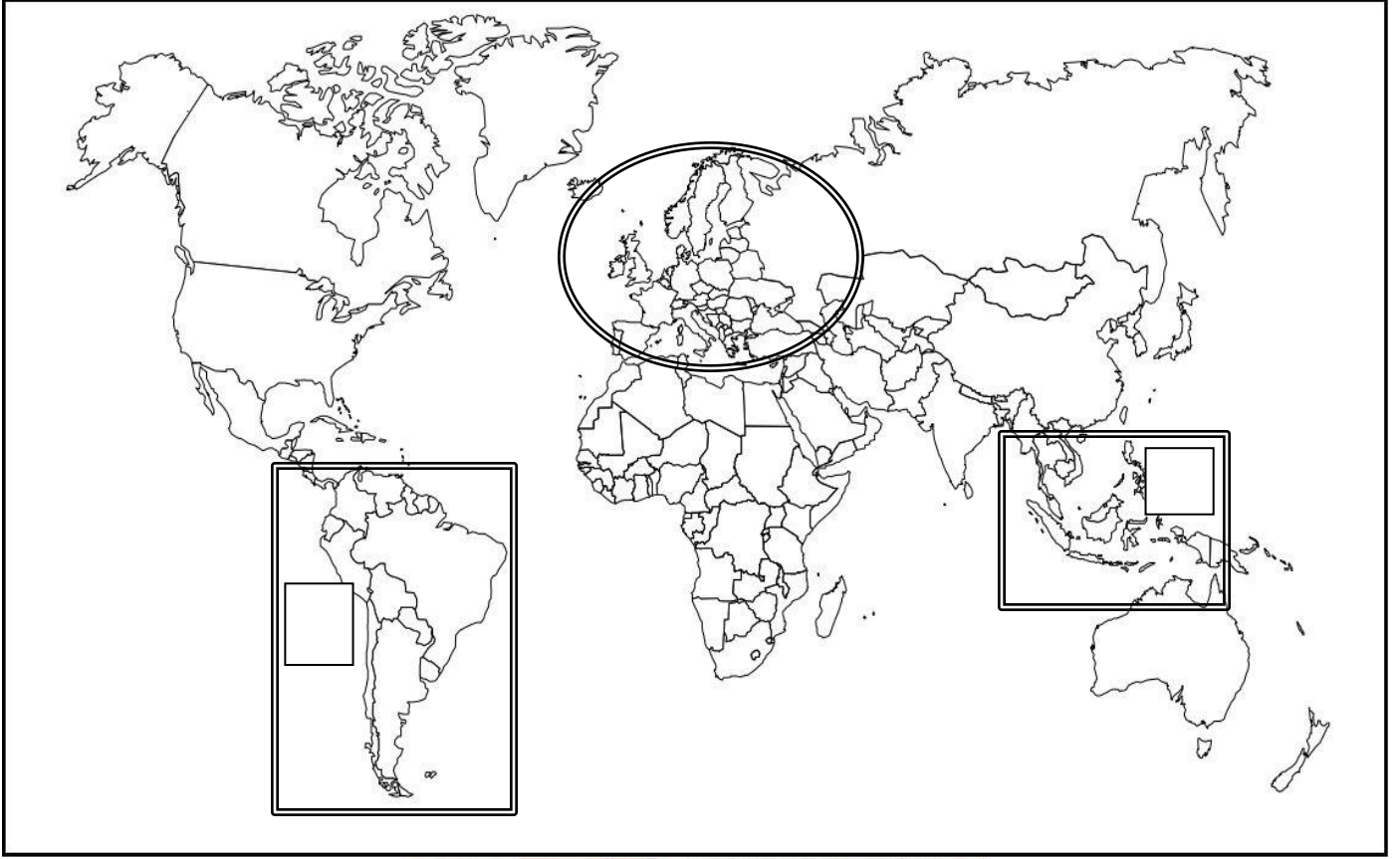
ج. ضعي دائرة على الخريطة حول الدولة الخليجية

التي تتبع هذا الاتحاد.

د. ما القارة التي تتبعها هذه الرابطة؟



36. ادرسي الخريطة التالية واجيبي عن الآتي:



أ. استنتجي اسم الاتحاد المحاط بدائرة على الخريطة.

ب. ما اسم الاتحاد الخليجي بين الاتحادات الاقتصادية؟

ج. ظللي على الخريطة اتحاد النافتا.

د. ضعي الرمز " س " في المربع الذي يشير الى اتحاد الآسيان.

هـ. ظللي على الخريطة الدولة الخليجية التي تتبع رابطة الدول المطلة على المحيط الهندي.



37. اجابة النشاط " 3 " ص 104 في الكتاب المدرسي:

1. خرجوا من اسبانيا ثم فرنسا ، سويسرا ، المانيا ،

هولندا ، بريطانيا ، عودة الى اسبانيا مرة اخرى.

2. تأخر الرحلة اثناء الانتقال من فرنسا الى سويسرا

بسبب عدم انضمام سويسرا الى الاتحاد الاوروبي

مما يلزم اتخاذ التدابير الاضافية في انتقال السياح

وبضائعهم اليها.

3. خروج المجموعة سعيدة بمشتريات وهدايا

من المانيا الى هولندا.

لأن كلتا الدولتين منظمة الى الاتحاد الاوروبي

وتتعامل باليورو مما يسهل عملية البيع والشراء

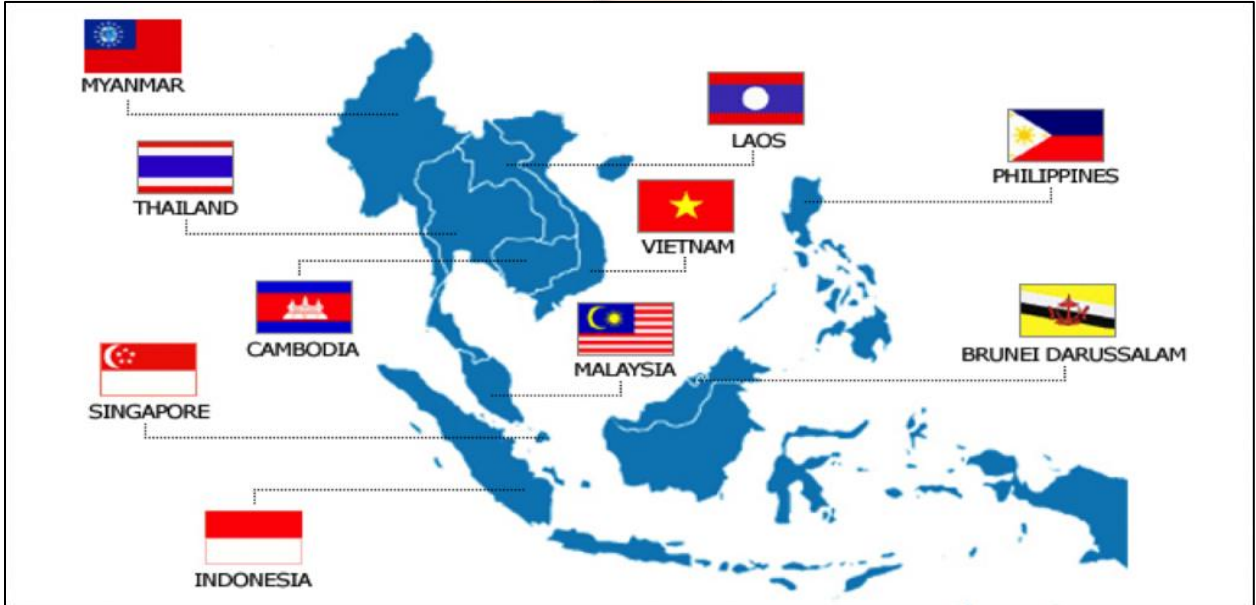
دون الحاجة لتحويل العملة والانتقال بين الدولتين

على الحدود بسهولة.

4. واجه السياح صعوبة مادية عند دخولهم للمملكة المتحدة لأنها لا تتعامل باليورو بل تستخدم عملتها

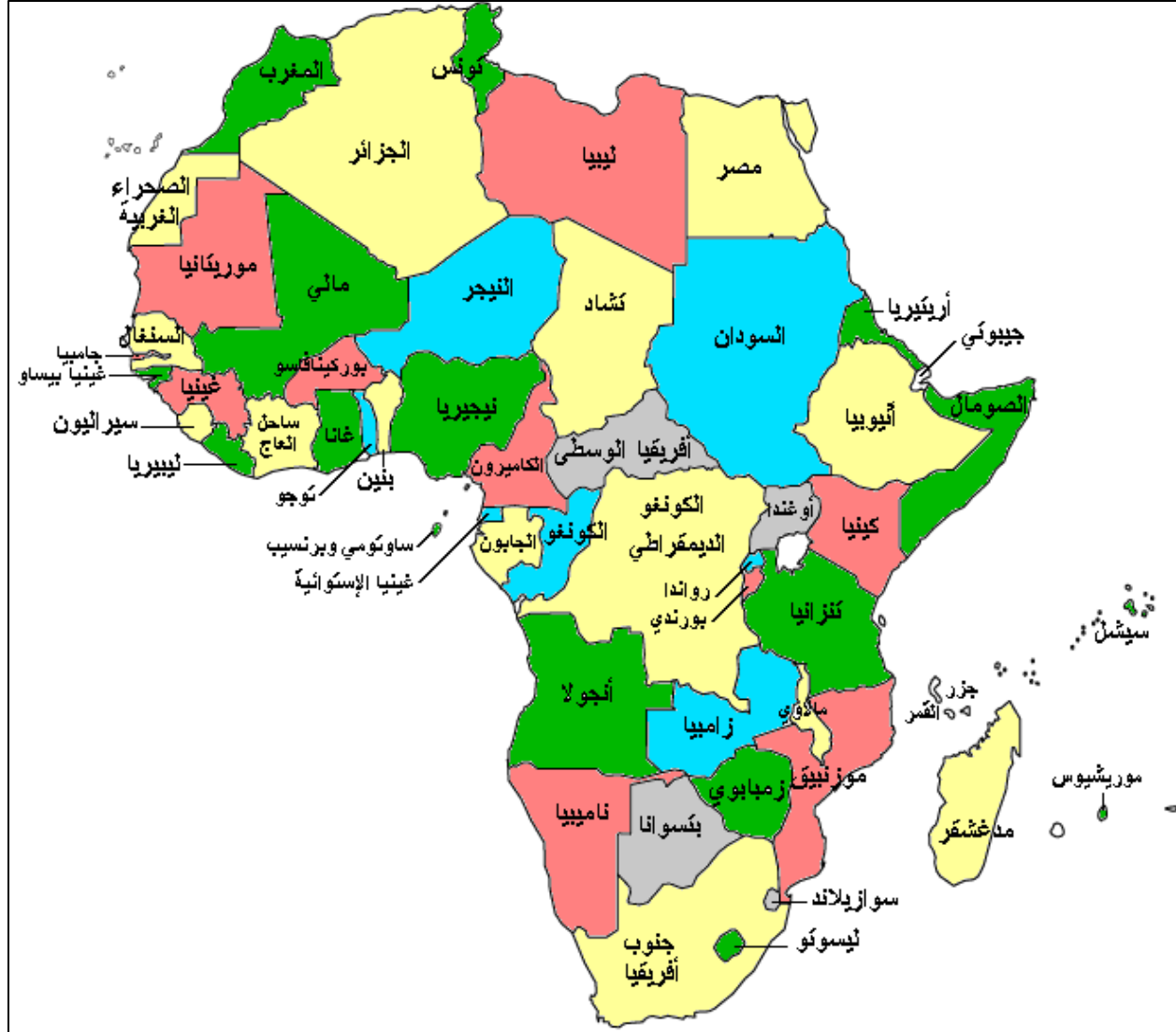
" الجنيه الاسترليني " وهذا يستلزم تحويل عملات اليورو الى الجنيه.

اتحاد الآسيان



اعداد: نعيمة سعيد البريكية /ملحق الاختبارات تجميع واطافة اصيلة الخالدي وخديجة السعيد/ مدرسة عاتكة للتعليم الاساسي

خريطة افريقيا السياسية



ملتزمون بتحقيق رؤيتنا ، الإجابة في موادنا

ملحق بالأسئلة الواردة في الاختبارات النهائية مع الاضافة للوحدتين الخامسة والسادسة

الاحتباس الحراري

1) من خلال الشكل المقابل والذي يمثل طبقات الغلاف الغازي ،أجيب عن الأسئلة الآتية :-

1- كم عدد طبقات الغلاف الغازي ؟

2- ما اسم الطبقة التي توجد فيها الأقمار الصناعية ؟

3- اكتب (طبقة الأوزون) في المكان الصحيح على الشكل .

4- وضح الظاهرة التي تحدث في الطبقة المشار لها

بالرقم (1) .

5- استنتج سبب تفضيل قاندي الطائرات الطيران في

الطبقة المشار إليها بالرقم (2)

6- رتب طبقات الغلاف الغازي من الأسفل الى الأعلى .

2) بعد النظر الى الشكل ادناه أجيب عن الأسئلة الآتية :-

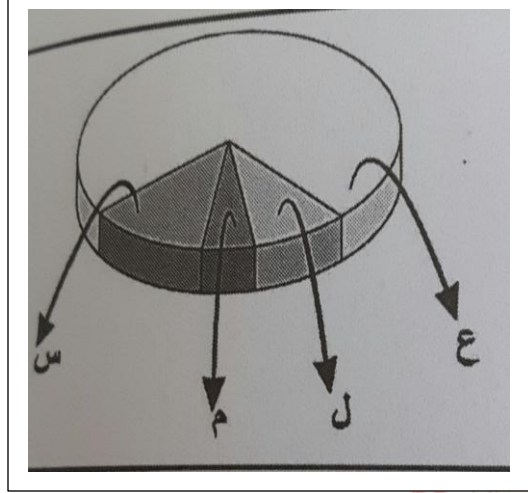


1- ماذا يمثل الشكل الذي أمامك ؟

2- "تعتبر الظاهرة التي يمثلها الشكل السابق ظاهرة طبيعية وضرورة حيوية لاستمرار الحياة على سطح الأرض". فسر العبارة

3- الشكل الذي أمامك يعتبر أفضل مثال لتوضيح احد المشكلات البيئية . اذكر هذه المشكلة ؟

4- وضح العلاقة بين الشكل السابق و الغلاف الغازي .



3) ادرسي الشكل المقابل جيدا ، ثم أجيبني عن الأسئلة التي تليه :-

1-ماذا يوضح الشكل المقابل ؟

2-ما اسم الغاز الذي يمثله الرمز (ع) ، (س) ؟

3-كم تبلغ نسبة زيادة الغاز التي يمثله الرمز (م) ، (ل) ؟

4-عللي سبب زيادة تركيز الغازات التي يمثلهما الشكل المقابل

في الجو .

5-أعط نتيجة لارتفاع هذه الغازات في الجو .


6- رتبي الغازات الآتية ترتيبا تصاعديا :-

(أكسيد النيتروجين – كلوروفلوروكربون – ثاني أكسيد الكربون – الميثان)

7- حولي الشكل المقابل الى أعمدة بيانية .

4) ادرسي الشكلين الآتين جيدا ثم أجيبني عن الأسئلة التي تليهما :-

1- الشكل الذي يوضح تزايد غازات الاحتباس الحراري في الغلاف الجوي .



ص ☐

س ☐

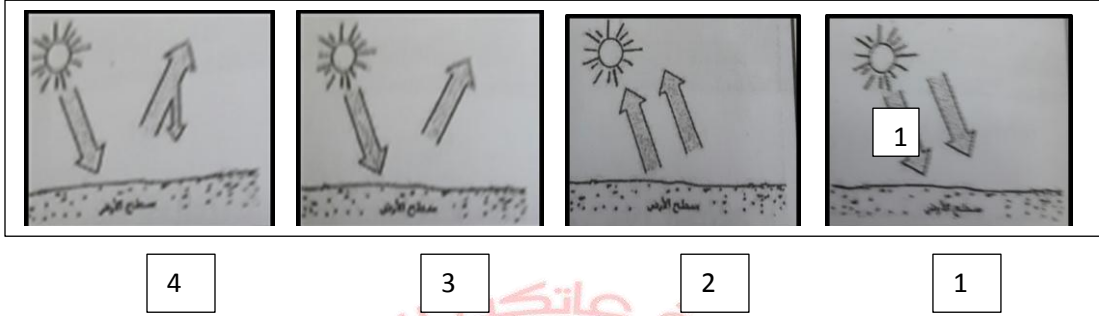
(تخيري الصواب)

2- ما الذي يمثله السهم المشار اليه بالرقم (1) ؟

3- استنتجي من خلال الشكلين سبب تزايد الاحتباس الحراري .

4- اقترحي حولا لتقليل من مشكلة الاحتباس الحراري .

(5) الشكل الذي يمثل ظاهرة الاحتباس الحراري في الغلاف الجوي :-



(1) ما الرقم الذي يشير الى ظاهرة الاحتباس الحراري ؟

(2) اذكر ما يمثله السهم المشار اليه بالرقم (1) .

(6) عددي ثلاثة من المشكلات البيئية الناتجة عن ارتفاع درجة الحرارة في سطح الأرض ؟

(7) سم الغازات التي ارتفعت نسبتها وأدت الى زيادة الاحتباس الحراري ؟

(8) اذكر أهم الطرق والوسائل التي تسهم في الحد من زيادة الاحتباس الحراري ؟

(9) ارسمي شكلا مبسطا يوضح ظاهرة الاحتباس الحراري .



(6) دققي النظر في الصورة المقابلة ثم أجبي عن الأسئلة التي تليها :-

1- ما المشكلة البيئية التي يوضحها الشكل المقابل ؟

2- اذكر العوامل البشرية التي ساهمت في حدوثها ؟

3- وضح الآثار المترتبة على هذه المشكلة .

4- اقترحي حولا للتقليل من هذه المشكلة .

(7) من خلال الشكل المقابل الذي أمامك أجبي

عن الأسئلة الآتية :-

1. سم المشكلة البيئية التي قد تنجم من النشاط البشري

الوارد في الشكل ؟


2. كيف ساهم النشاط البشري الوارد بالشكل في

زيادة المشكلة البيئية السابقة ؟

3. اذكر اثنين من المقترحات للتقليل من حدة

المشكلة البيئية الناتجة عن النشاط البشري

الوارد في الشكل ؟



الدرس الثاني :- التصحر

من خلال الشكل الذي أمامك ، اجيبي عن الأسئلة الآتية :-

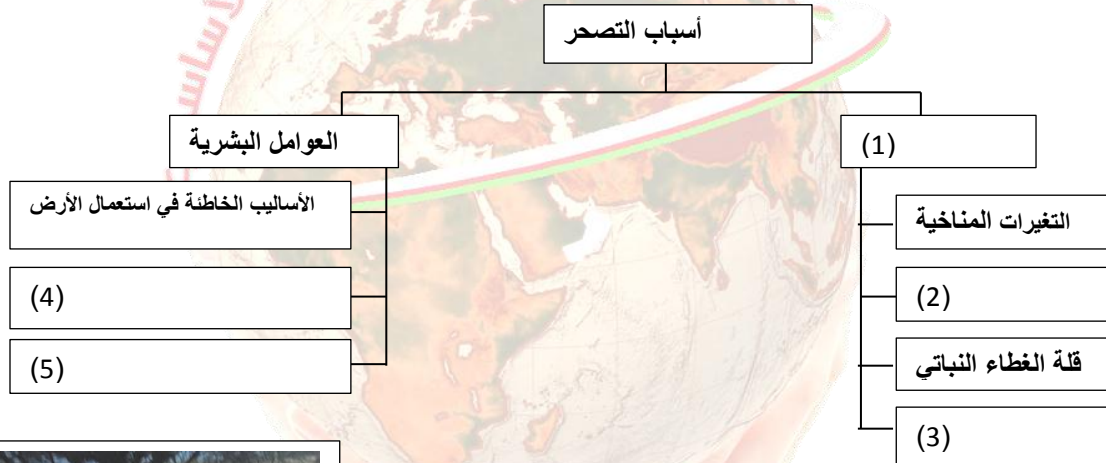
1 (ما اسم الظاهرة البيئية الموضحة في الشكل المقابل ؟

1 (أعط تعريفا مناسباً لهذه الظاهرة .

2 (استنتجي اسم المنطقة التي تكون أكثر عرضة لهذه الظاهرة .

3 (صممي خريطة مفاهيم بالعوامل الطبيعية التي تؤدي لحدوث هذه الظاهرة .

2 (اكملّي الخريطة الذهنية الآتية والتي توضح أسباب التصحر .



3 (ادرسي الصورة ادناه ، ثم أجبي عن الأسئلة التي تليها :-

1- الصورة السابقة توضح أحد العوامل الطبيعية التي تؤدي لحدوث ظاهرة التصحر .

استنتجي هذا العامل؟

2- ما العوامل التي تؤدي الى حدوث العامل الطبيعي

الموضح في الصورة ؟

3- اذكر المناطق التي يزداد فيها هذا العامل الطبيعي ؟

4- عللي سبب ظهور هذا العامل في هذه المناطق.

4 (اربطي بين الصور الآتية والعوامل البشرية التي تؤدي الى حدوث ظاهرة التصحر :-



زراعة الأراضي الهامشية




اتباع أساليب خاطئة في استعمال الأرض



الرعي الجائر

(5) دققي النظر في الصور الآتية ثم أجيب عن الأسئلة التي تليها :-



ج



ب




أ


- 1- اذكر رموز الشكل الأكثر عرضة لمشكلة التصحر ؟
- 2- استنتج رموز الشكل الذي يكون أقل عرضة لمشكلة التصحر . مع تفسير السبب .

بعد النظر الى الشكل المقابل ، أجيب عن الأسئلة الآتية :-

- 1- ماذا يوضح الشكل المقابل ؟
- 2- استنتج المشكلة البيئية المرتبطة بالشكل .
- 3- اربط بعلاقة بين الشكل المقابل والمشكلة البيئية الناتجة عنه ؟



(6) ادرسي الشكل الآتي ثم أجيب عن الأسئلة التي تليها :-



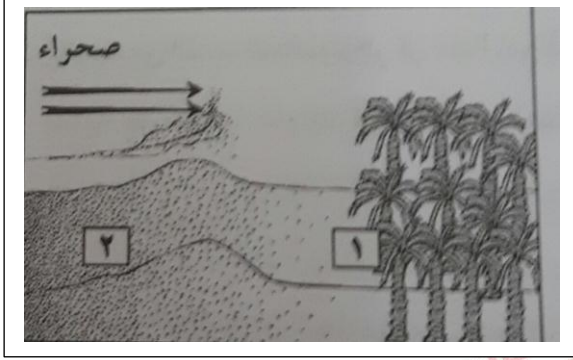
- 1- ما نوع المشكلة البيئية التي يمثلها الشكل السابق ؟
- 2- اذكر اثنين من أدوات المسح التي تستخدمها الدول لدراسة هذه المشكلة ؟
- 3- اقترح اثنين من الحلول لإعادة تخصيب التربة .

7) يمثل الشكل الذي أمامك مشكلة بيئية تتعرض لها بعض مناطق سلطنة عمان ، من خلاله أجبني


عن الأسئلة الآتية :-

أ (هل تؤثر البيئة (2) على البيئة (1) ؟


فسري اجابتك .



10) ادرسي الشكلين الآتيين ثم أجبني عن الأسئلة التي تليه :-



(ص)



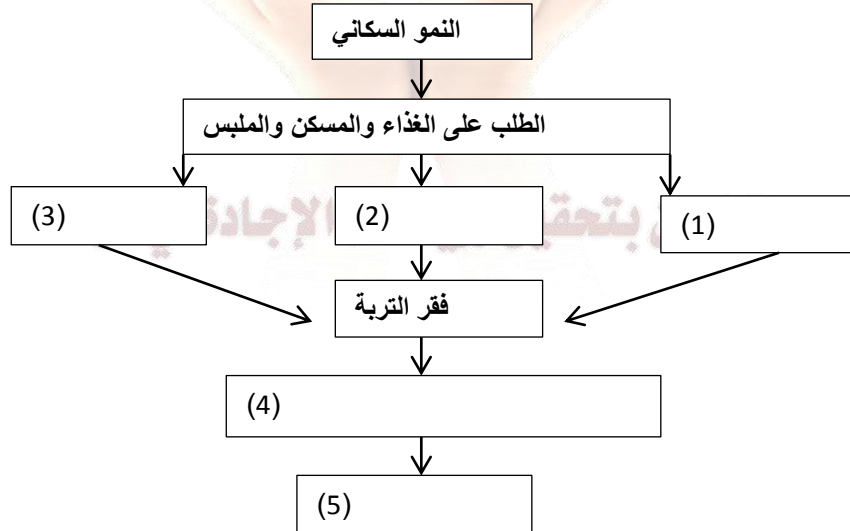
(س)

1- استنتجي من الشكل (س) العامل البشري المسبب في حدوث ظاهرة التصحر .

2- ما الاجراء المتبع لمكافحة التصحر في الشكل (ص) ؟

3- وضح أثر العامل البشري الموضح بالشكل (س) والاجراء المتبع بالشكل (ص) على التربة .

11) اكمل المخطط الآتي والذي يوضح العوامل البشرية التي تؤدي الى ظاهرة التصحر :-



اعيدي تركيب المخطط السابق عن طريق استبدال العوامل السلبية بأخرى ايجابية بحيث تختفي ظاهرة التصحر .

12) من خلال الخريطة التي أمامك ، أجبني عن الأسئلة الآتية :-



- 1- أعط عنوانا مناسباً للخريطة التي أمامك .
 - 2- ما القارة التي تتركز فيها المناطق شديدة الجفاف ؟
 - 3- اذكر نوع المنطقة الحرارية التي تندرج فيها سلطنة عمان ؟
 - 4- أين تتركز المناطق شديدة الجفاف والجافة وشبه الجافة بالنسبة لدائرة الاستواء؟
 - 5- صممي من خلال مفتاح الخريطة خريطة مفاهيم توضح أقسام المناطق الجافة في العالم .
- 13) اكمل الجدول الآتي والذي يوضح توزيع السكان في المناطق الجافة :-

المنطقة	السكان %
شديدة الجفاف
.....	27
شبه الجافة

14) صنفني الصور التي أمامك وفق حالة التصحر التي تنتمي إليها (التصحر الطفيف – التصحر الشديد – التصحر الشديد جدا) وذلك حسب الجدول الآتي :-



(3)



(2)



(1)

رقم الصورة	حالة التصحر
1	
2	
3	

15) ادرسي الصورة الآتية ، ثم أجيب عن الأسئلة التي تليها :-




- 1- ما نوع حالة التصحر التي تنتمي اليها الصورة السابقة ؟
- 2- أين ينتشر هذا النوع من التصحر ؟
- 3- أعط نتيجة لهذا التصحر .
- 4- فسري السبب في ظهور هذا النوع من التصحر .



16) دققي النظر في الصورة المقابلة ثم أجبي عن الأسئلة التالية :

- 1- اذكر نوع حالة التصحر في الصورة المقابلة ؟
- 2- أين يظهر هذا النوع من التصحر ؟
- 3- ما النتيجة المترتبة على هذا النوع من التصحر ؟

17) بعد النظر الى الصورة الآتية أجبي عن الأسئلة الآتية :-



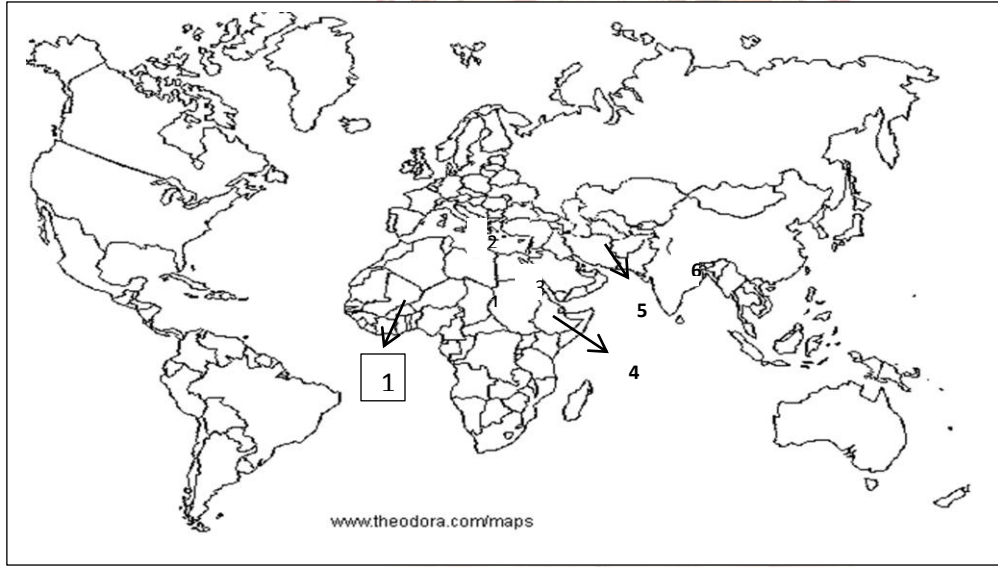
- 1- سم نوع حالة التصحر في الصورة السابقة ؟
- 2- صفي هذا النوع من التصحر .
- 3- قارني بين هذا النوع من التصحر والنوع السابق من حيث :-
امكانية استصلاح الأرض - التكلفة الاقتصادية لاستصلاح الأرض .

(18) أمامك مجموعة من الطرق التي يمكن اتباعها لمكافحة التصحر ،صنفها حسب الجدول الآتي :-

(تشجير مساحات واسعة – انشاء السدود الترابية أو الاسمنتية – استعمال الأسمدة العضوية)

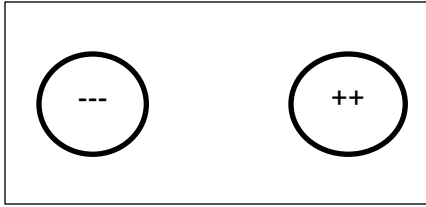
الاجراء	الطريقة
تخصيب التربة	
مكافحة الرياح	
دور الحكومات	

(19) ادرسي الخريطة التي أمامك ، ثم أجيب عن الأسئلة الآتية :-



- 1- ما الرقم الدال على الدولة استخدمت نظام الفوجارات لمكافحة التصحر .
- 2- اذكر العوامل الطبيعية للتصحر في الدولة المشار اليها بالرقم (5)؟
- 3- وضح أسباب التصحر في الدولة المشار اليها بالرقم (4).
- 4- عددي اثنين من الطرق التي استخدمت لمكافحة التصحر في الدولة المشار اليها بالرقم (6)؟
- 5- وقي الرمز (●) في الدولة التي ظهر فيها التصحر بسبب استخدام مضخات المياه لري المزروعات .

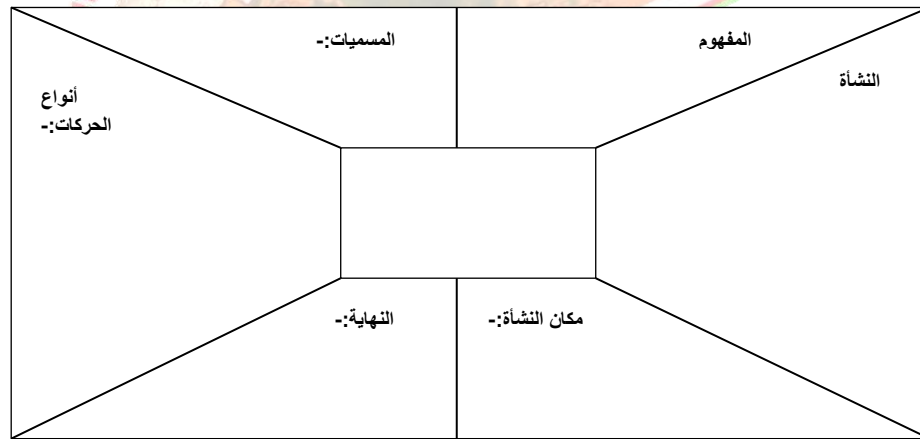
عنوان الدرس :- الأعاصير المدارية



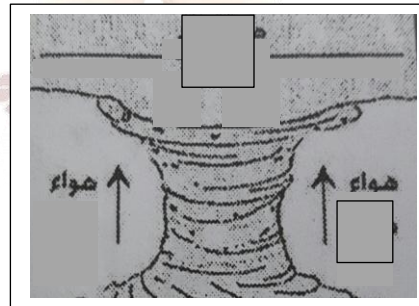
1) دققي النظر في الشكل المقابل ثم أجبي عن الأسئلة التي الآتية :-

- 1- ماذا يوضح الشكل المقابل ؟
- 2- ما الذي تشير اليه الرموز في الشكل.
- 3- ارسم اسهم توضح الحركة الصحيحة للرموز الموضحة في الشكل المقابل .

2) اكمل البطاقة التعريفية في الشكل الآتي والتي توضح الأعاصير المدارية :-

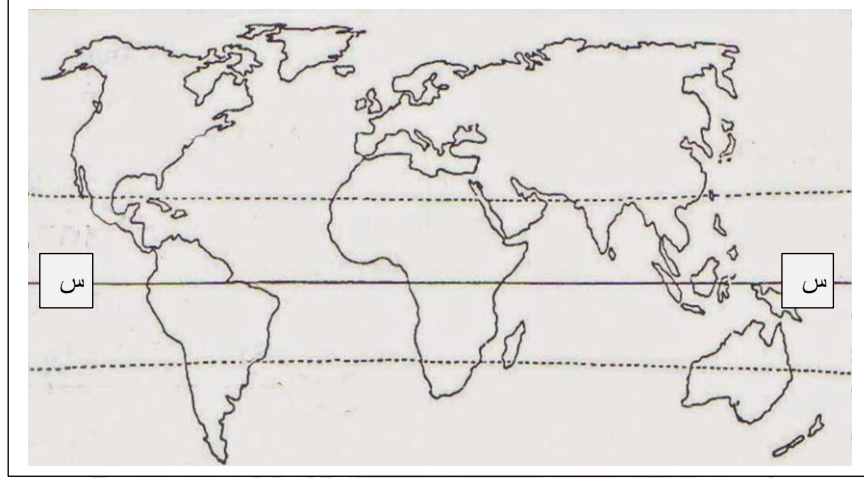


3) اكمل الشكل الآتي والذي يمثل حركة الهواء عند حدوث الاعصار :-



- 1- ما الهيئة (الشكل) الذي يتحرك به الهواء عند حدوث الاعصار ؟
- 2- اكتب في المربع المناسب الموقع الصحيح لكل من :-
 أ) الهواء البارد
 ب) الهواء الدافئ
- 3- ارسم الاتجاه الصحيح للسهم الذي يشير الى حركة الهواء البارد .

(4) ادرسي الخريطة الآتية ، ثم أجبني عن الأسئلة التي تليها :-



- 1- ماذا يطلق على الاعاصير في المنطقة المشار إليها بالرمز (س) ؟
- 2- اكتب اسم المسطح المائي الذي يتعرض لأعاصير الهاريكين (Hurricane).
- 3- ضع الرمز (ع) على المنطقة التي تتعرض لأعاصير (Cyclone) .

(5) صنف الدول الآتية حسب اسم الاعصار الذي يؤثر عليها وذلك باستعمال الجدول الذي يليها :-

(اليابان – الولايات المتحدة الأمريكية – المكسيك – الفلبين – هندوراس)

اسم الاعصار	اسم الدولة
Cyclone	
Hurricane	
Typhoon	

(6) اقري الخبر الصحفي المقابل ثم اجب عن الاسئلة المقابلة :-

(أ) استنتج درجة الاعصار بناء على سرعة الرياح

(ب) حسب المقياس الدولي للأعاصير

(saffir simpson scale)

ب-تسمى الاعاصير التي تضرب اليابان :-

Cyclone

Hurricane

Typhoon

(ضعي دائرة حول الاجابة الصحيحة)

اعصار فاتفون يضرب اليابان

تعرضت اليابان لاعصار قوي عرف باعصار "فاتفون" صباح يوم الاثنين الذي شل أجزاء واسعة من اليابان من بينها المناطق القريبة من العاصمة طوكيو بما حمله من رياح عاتية وأمطار غزيرة . وقتل من جراء الاعصار عدد من الضحايا وانقطع التيار الكهربائي . وعلفت شركات الخطوط الجوية اليابانية العديد من رحلاتها . ولقد وصلت سرعة الرياح الى نحو 180 كم /ساعة مما تسبب في تطبيق عمليات البحث عن المفقودين جراء ثوران بركان في اليابان الأسبوع الماضي .

(جريدة الوطن 10/14 /2014 م)

(7) أدرسي الجدول الآتي ثم أجيب عن الأسئلة التي تليه :-

درجة الاعصار	السرعة (كم /الساعة)	القوة	طبيعة الدمار
1	82-64	خفيف	دمار بسيط للمباني غير الثابتة مع فيضان بسيط في الشواطئ واقتلاع اللوحات غير المثبتة جيدا .
2	95-83	متوسط	بعض الدمار لشرفات المباني والأبواب والنوافذ مع أضرار كبيرة بالمساكن غير الثابتة ، وسقوط بعض الأشجار وتأثر بعض القوارب على الشاطئ.
3	113-96	قوي	دمار كبير لبعض المباني والمنشآت الصغيرة لاسيما غير الثابتة مع فيضان على الشاطئ .
4	135-114	قوي جدا	انهيار كامل لجدران وشرفات المنشآت والمباني الصغيرة مع حدوث انهيارات في الشواطئ .
5	أكثر من 136	عنيف	حدوث دمار شامل بالمنشآت والمباني وانهيار المنازل والمصانع واحتراقها ، كما تسبب الفيضانات دمارا واسعا للأراضي ويتطلب الأمر عمليات اجلاء السكان .


- 1- كم عدد درجات الإعصار حسب المقياس الدولي للأعاصير ؟
- 2- ماذا يطلق على المقياس الدولي للأعاصير ؟
- 3- اذا كان الاعصار يصنف من ضمن الاعاصير القوية . فكم درجة هذا الاعصار ؟
- 4- تعرضت مدينة ما الى اعصار كانت سرعة الرياح فيه 95-83 كم / ساعة . فكم كانت درجة هذا الاعصار ؟ وما الآثار التدميرية له ؟

(8) صنف الآثار الواردة بين القوسين حسب المقياس الدولي للأعاصير من حيث القوة وذلك وفق الجدول الذي يليها :-

(اقتلاع اللوحات غير المثبتة – انهيار السواحل الشاطئية – دمار لبعض المنشآت الصغيرة – سقوط بعض الأشجار)

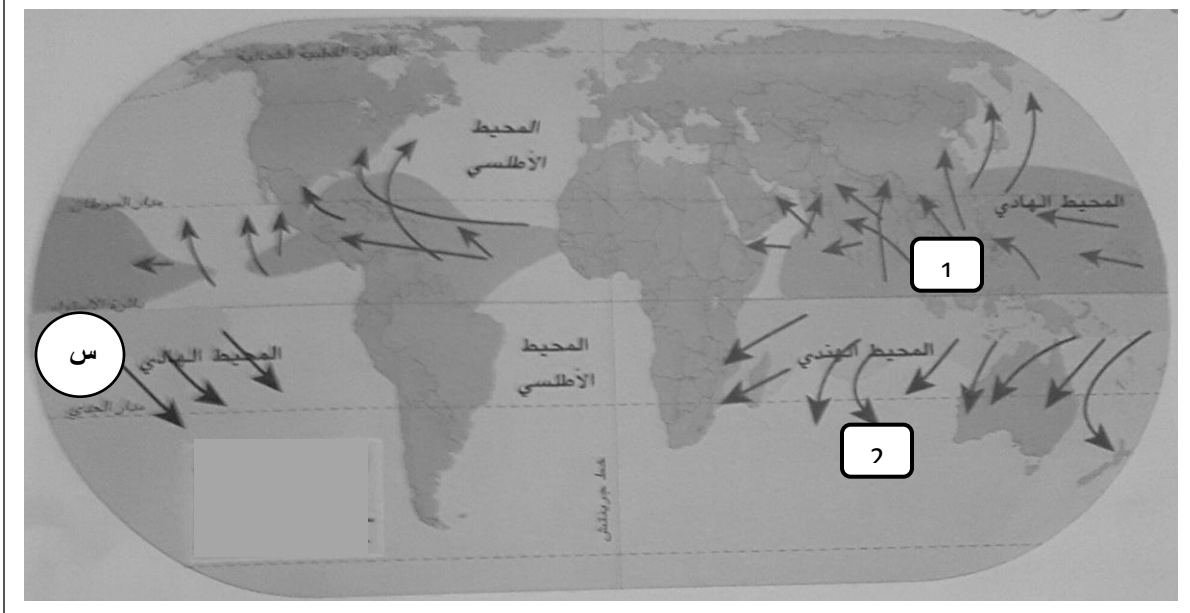
الآثر	القوة
	خفيف
	متوسط
	قوي
	قوي جدا

9)دققي النظر في الشكل الآتي ثم أجيب عن الأسئلة التي تليه :-



- 1- ماذا يوضح الشكل السابق ؟
- 2- اكتب على الشكل ما يوضحه الرقم (1) .
- 3- ما الرقم الذي يشير الى بداية الاعصار في الشكل ؟
- 4- استنتجي ما يشير اليه كل من السهم (↑) والسهم (↓) في الشكل السابق .

10)من خلال الخريطة التي أمامك أجيب عن الأسئلة الآتية :-



- 1- أعط عنوانا مناسباً للخريطة التي أمامك ؟
- 2- في أي المناطق الحرارية تحدث الأعاصير المدارية ؟
- 3- اذكر الرقم الذي يشير الى الاتجاه السائد للعواصف المدارية شتاء في النصف الجنوبي من الكرة الأرضية .
- 4- ضعي دائرة حول المسطح المائي الذي تحدث فيه أعاصير (Hurricane) .
- 5- ارسمي الرمز (+++++) في المنطقة التي تتعرض للعواصف المدارية في فصل الصيف .
- 6- حددي على الخريطة مسار الأعاصير في المنطقة المشار لها بالرمز (س) .
- 7- استنتجي من خلال الخريطة الفصل الي تتعرض فيه سلطنة عمان للعواصف المدارية

11) عبري عن كل صورة فيما يلي بالعبارة المناسبة للآثار التي تخلفها الأعاصير والعواصف المدارية على البيئة الطبيعية وذلك وفق الجدول الآتي :-



5

4


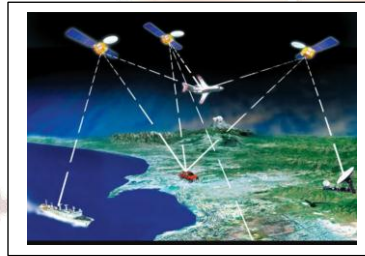
3

2

1

رقم الصورة	العبارة

12) بعد النظر الى الصور الآتية ، أجيب عن الأسئلة التي تليها :-



- 1- ما العامل الذي ساعد على الحصول على معلومات مفصلة ودقيقة عن سرعة الاعصار واتجاهه والمكان المتوقع أن يصل اليه .
- 2- اذكر ما تشير اليه الصورة رقم (3) ؟
- 3- استنتج الوسيلة التي تستخدم لتوجيه الناس للبقاء في منازلهم عند حدوث الاعاصير والعواصف المدارية .

4- من وجهة نظرك هل أثر التقدم التكنولوجي في التقليل من الخسائر التي قد تنجم من الأعاصير ؟
وضحي اجابتك .

(13) ادرسي الجدول الآتي ثم أجيب عن الأسئلة التي تليه :-

السنة	الدولة	اجمالي الضحايا
2005	الولايات المتحدة الأمريكية	1,300
2003	الولايات المتحدة الأمريكية	15
1991	بنجلاديش	125,000
1989	الفلبين	3,200
1979	فلوريدا (الولايات المتحدة الأمريكية)	1,024
1977	الهند	100,000
1977	استراليا	47
1974	هندوراس	8000
1973	المكسيك	200
1972	الولايات المتحدة الأمريكية	118
1970	بنجلاديش	500,000
1969	الولايات المتحدة الأمريكية	256

- 1- ما الدولة الأكثر ضحايا من الأعاصير في العالم ؟
- 2- اذكر العام الذي تعرضت فيه هذه الدولة لهذا الإعصار ؟
- 3- فسري أسباب ارتفاع عدد الضحايا في هذه الدولة .
- 4- استنتجي سبب قلة حجم الخسائر البشرية في الولايات المتحدة الأمريكية .
- 5- مثلي الجدول الذي أمامك بالأعمدة البيانية .
- 6- استخلصي العلاقة بين هذا الجدول والخريطة شكل (17) الواردة في الكتاب المدرسي ص 48 من حيث المناطق التي تتأثر بالأعاصير .

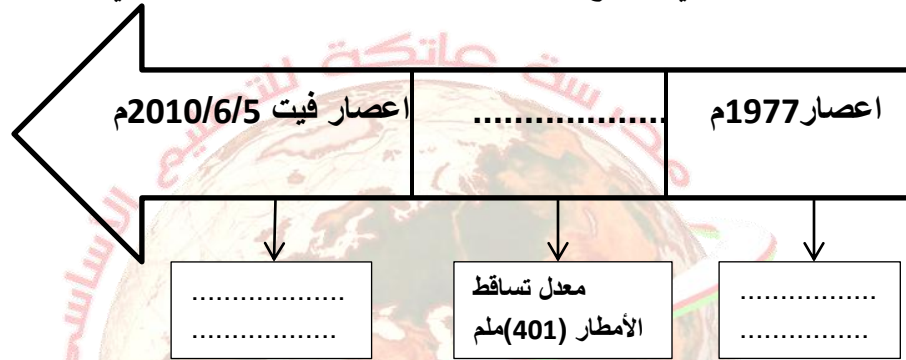
(14) ادرسي الخريطة الآتية جيدا ثم أجيب عن الأسئلة التي تليها :-



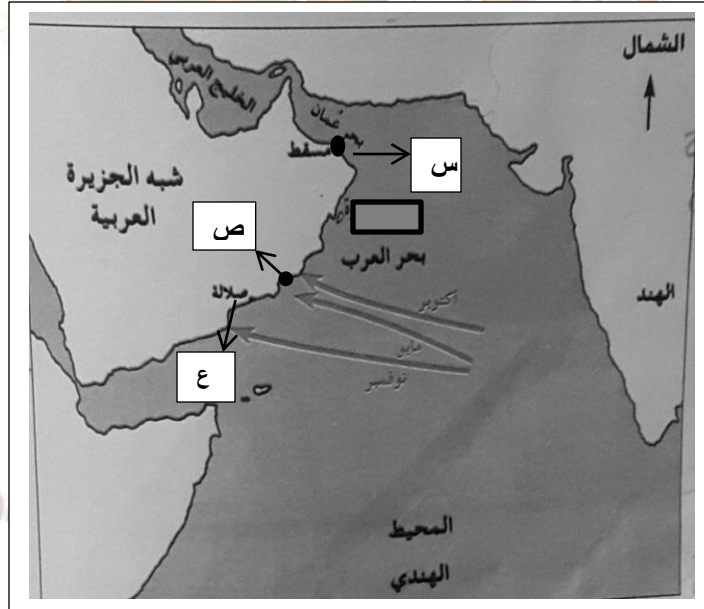
- 1- ما الدولة التي تحتل المرتبة الثالثة من حيث عدد ضحايا الأعاصير في العالم وفق احصائية عام 1977م ؟

- 2- وقعي على الخريطة الدولة الأقل في عدد ضحايا الأعاصير في العالم .
- 3- ظللي الدولة الأكثر عدد من الضحايا نتيجة الأعاصير في العالم .
- 4- استخرجي من الخريطة الرقم الذي يشير الى الدولة التي بلغ فيها عدد ضحايا الإعصار عام 1977م (47) شخصا .

15) اكملِي المسطرة الزمنية التي توضح سنوات الأعاصير وكميات الأمطار التي تأثرت بها سلطنة عمان :-




16) انظر الى الخريطة التي أمامك ثم أجيبِي عن الأسئلة التي تليها :-




- 1- اكتبِي في المربع على الخريطة الولاية التي تعرضت لإعصار مداري قوي عام 1977 م.
- 2- كم بلغت كمية الأمطار نتيجة الاعصار في هذه الولاية ؟
- 3- ما اسم الاعصار المداري الذي تعرضت له المناطق الممتدة بين الرمز (س و ص) عام 2007م ؟
- 4- اذكرِي الشهر الذي تتعرض له المنطقة المشار لها بالرمز (ع) للإعصار ؟
- 5- ارسمي (●) في الموقع الذي تعرض لأكبر كمية من الأمطار في اعصار فيت .

(17) رتبي حركة اعصار جونو – عام 2007م باستخدام الارقام (1-3) :-



3



2



1


(1) اربطي بين الصور والعبارة التي تدل على المخاطر الأولية للزلازل فيما يلي :-



حركة الأرض وتصدعها
وانهيار المباني .



تدمير الشوارع والسكك
الحديدية ومترو الانفاق .



الزجاج المتطاير من
المباني المحطمة .



قطع خطوط الكهرباء
وأنابيب المياه .

(2) أنسبي كل صورة فيما يلي الى الخطر الثانوي للزلازل الذي تمثله :-



٥



4



2



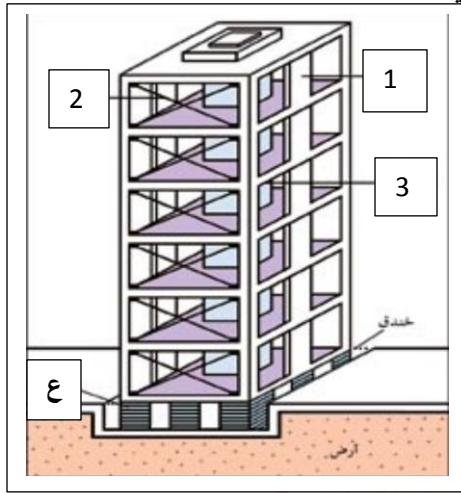
٦



1

الخطر الثانوي للزلازل	رقم الصورة

3) دققي النظر في الشكل المقابل ثم أجبي عن الأسئلة التي تليه :-



1- ماذا يوضح الشكل المقابل ؟

2- اذكرى الفائدة التي تعود من استخدام ما

هو موضح في الشكل المقابل ؟

3- اكتبى ما يشير الى كل مما يلي على

الرقم المناسب في الشكل :-

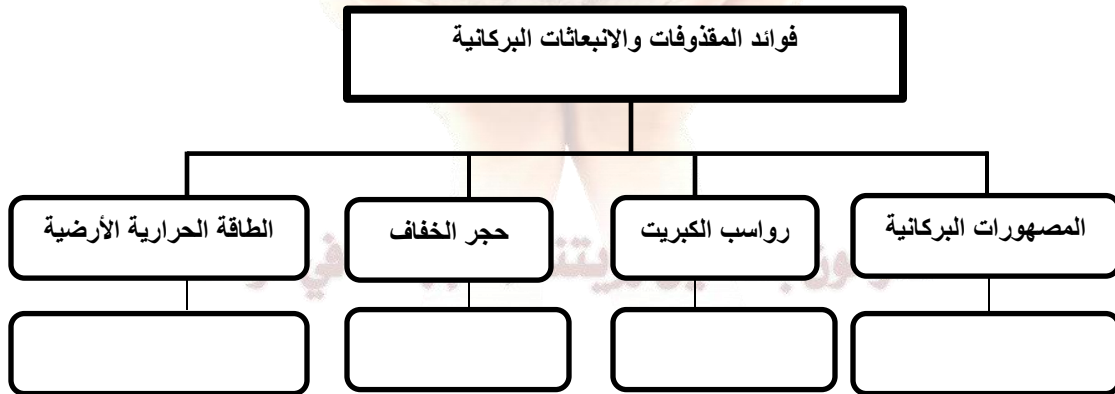
عمود قص (لب) - تدعيم مقاطع - جدار قص

4- سمي الجزء المشار له بالرمز (ع) ؟

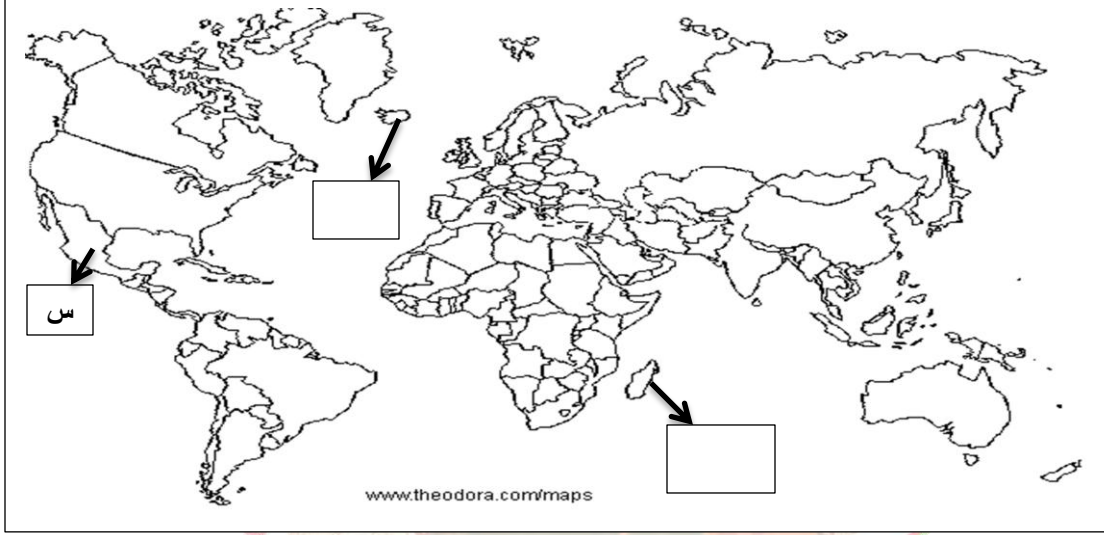
4) اكمل الجدول الآتي :-

أهم الأخطار الناتجة	المواد البركانية
.....	السحب الترابية
تدمير المباني واثلاف الأجهزة الكهربائية
تسمم الحيوانات في المرعى
.....	السيول الطينية
.....	احتباس ثاني أكسيد الكربون
تقوم بحرق كل شيء في طريقها

5) اكمل المخطط الاتي والذي يوضح فوائد المقذوفات والانبعثات البركانية:-



(6) من خلال خريطة العالم التي أمامك أجيب عن الأسئلة الآتية :-



- 1- وقعي على الخريطة في المربع المناسب الدولة التي تستفيد من الينابيع البركانية في تدفئة المنازل .
- 2- ما القارة التي تقع فيها الدولة التي تستغل البراكين في إنتاج الطاقة الكهربائية والمشار لها بالرمز (س) .
- 3- ظللي الدولة الواقعة في قارة أوروبا والمستخدم الطاقة الحرارية الأرضية لإنتاج الكهرباء .
- 4- ضعي دائرة حول نيوزلندا.

(7) صممي بطاقة تعريفية لموجات المد البحري .

الاسم الذي اطلق عليها :-	
أصل الكلمة:-	المعنى الحرفي للكلمة :-
المفهوم :-	
الفترة الزمنية التي حدثت فيه :-	الشدة :-
القارة :-	المنطقة :-
أسباب النشأة:-	المسطح المائي :-
أسباب الخطورة:-	

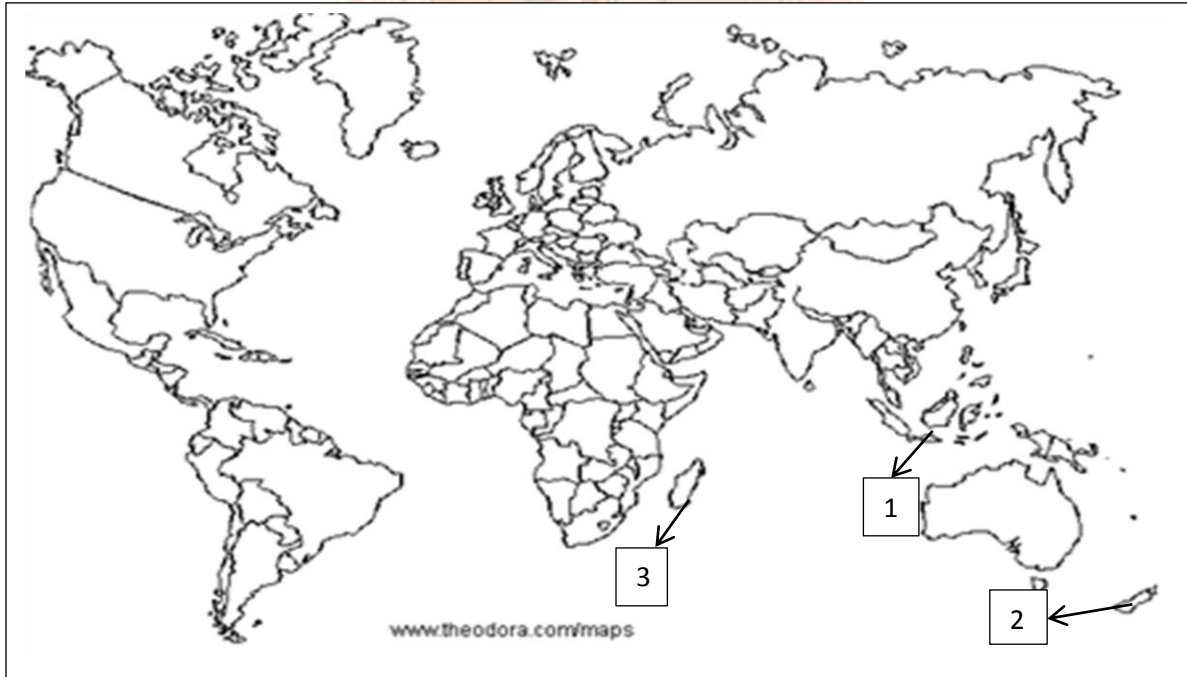
(8) ادرسي الجدول الآتي ثم أجيب عن الأسئلة التي تليه :-

م	سنة حدوث الزلزال	أسباب حدوث تسونامي	عدد ضحايا تسونامي
1	1883م	انفجار بركان كراكاتو في جزيرة سومطرة وجاوا الأندونيسيتين	36 ألف شخص
2	1896م	زلزال بحري مقابل جزيرة هونشو اليابانية	26 ألف شخص
3	1998م	زلزال بحري مقابل سواحل شمال غرب غينيا الجديدة (بابوا)	2000 شخص
4	2004م	زلزال بحري مقابل جزيرة سومطرة الأندونيسية	275 ألف شخص

الجدول التاريخي لزلزال تسونامي (تقرير وزارة البيئة والشؤون المناخية بسلطنة عمان عن تسونامي)

- 1- ما الحركات التكتونية المسببة لظاهرة تسونامي ؟
- 2- اذكر مصدر البيانات الموضحة في الجدول ؟
- 3- في أي سنة كانت الخسائر البشرية الناجمة عن التسونامي أقل ؟
- 4- عللي سبب حدوث التسونامي في عام 1883 م .
- 5- حولي البيانات الواردة في الجدول السابق الى شكل بياني .

(9) من خلال الخريطة التي أمامك أجيب عن الأسئلة الآتية :-



- 1- استخرجي الرقم الدال على الدولة التابعة لها جزيرة جاوا .

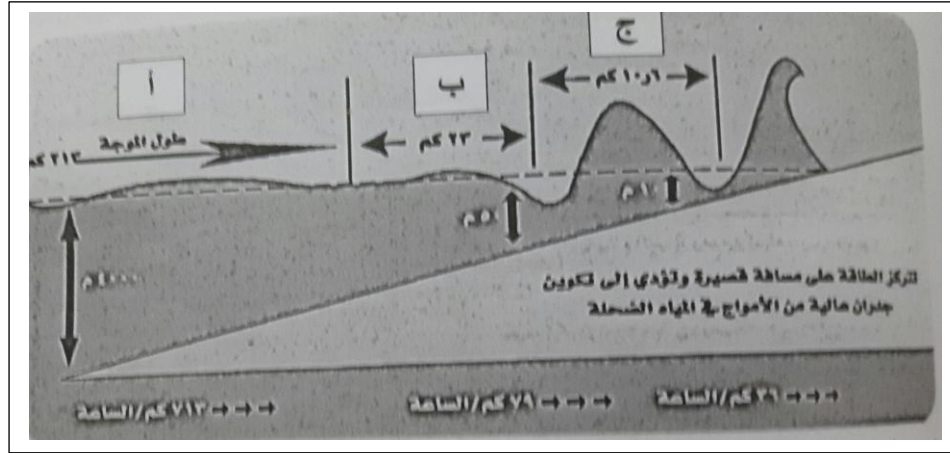
- 2- ضعي دائرة حول الدولة التي تعرضت لزلزال بحري في العام الميلادي 1896 م .
- 3- وقعي على الخريطة المسطح المائي الذي حدث فيه التسونامي .
- 4- ظللي الجزيرة الاندونيسية التي تعرضت لزلزال بحري (تسونامي) عام 2004.
- 5- حددي الجهة التي تقع فيها غينيا الجديدة بالنسبة لقارة استراليا .

(10) ادرسي الخريطة التي أمامك ثم أجيب عن الأسئلة التي تليها:-



- 1- سم الدولة المتضررة من كارثة تسونامي والواقعة في شرق الدولة المشار إليها بالرمز (ع) ؟
- 2- استخرجي من الخريطة الأرقام الدالة على كلا من :- بورما – ماليزيا .
- 3- وقعي في المربع الظاهر على الخريطة اسم الجزيرة التي تعرضت لكارثة تسونامي .
- 4- حددي الجهة التي تعرضت للمد البحري (تسونامي) في سلطنة عمان .
- 5- ضعي دائرة حول الموقع المنطقة التي كانت مركز زلزال تسونامي .
- 6- ظللي الجزء الأفريقي الذي تعرض للمد البحري (تسونامي) .

11) ادرسي الشكل الآتي ثم أجيب عن الأسئلة التي تليه :-



1- يشير الشكل السابق الى احدى الكوارث :-

(اختاري الاجابة)

البشرية

الطبيعية

(الصحيحة)

- 2- ما اسم الكارثة الي يوضحها الشكل ؟
- 3- في أي عام حدثت هذه الكارثة الموضحة في الشكل ؟
- 4- اذكر سرعة المد البحري في هذه الكارثة ؟
- 5- كم يبلغ طول الموجة في هذا المد البحري ؟
- 6- استخلص العلاقة بين ارتفاع الأمواج والعمق ؟
- 7- استنتجي ما تلاحظينه على سرعة الأمواج في المياه الضحلة ؟ وما السبب برأيك ؟
- 8- فرقي بين الموجة (أ) والموجة (ب) والموجة (ج) من حيث (طول الموجة).

الفرق	الموجة (أ)	الموجة (ب)	الموجة (ج)
طول الموجة			

12) ادرسي الجدول الآتي ثم أجيب عن الأسئلة التي تليه :-

الدولة	عدد الضحايا
تايلاند	5187
سريلانكا	30196
اندونيسيا	94100
الهند	15275

- 1- ما القارة التي تمثلها الدول الموضحة في الجدول السابق ؟
- 2- رتبي الدول الموضحة في الجدول ترتيبا تصاعديا من حيث عدد الضحايا .

- 3- علي ارتفاع عدد الضحايا في اندونيسيا .
- 4- كم بلغ اجمالي عدد الضحايا في الهند وسيرلانكا .
- 5- مثلي البيانات الواردة في الجدول المقابل الى رسم بياني بالأعمدة .

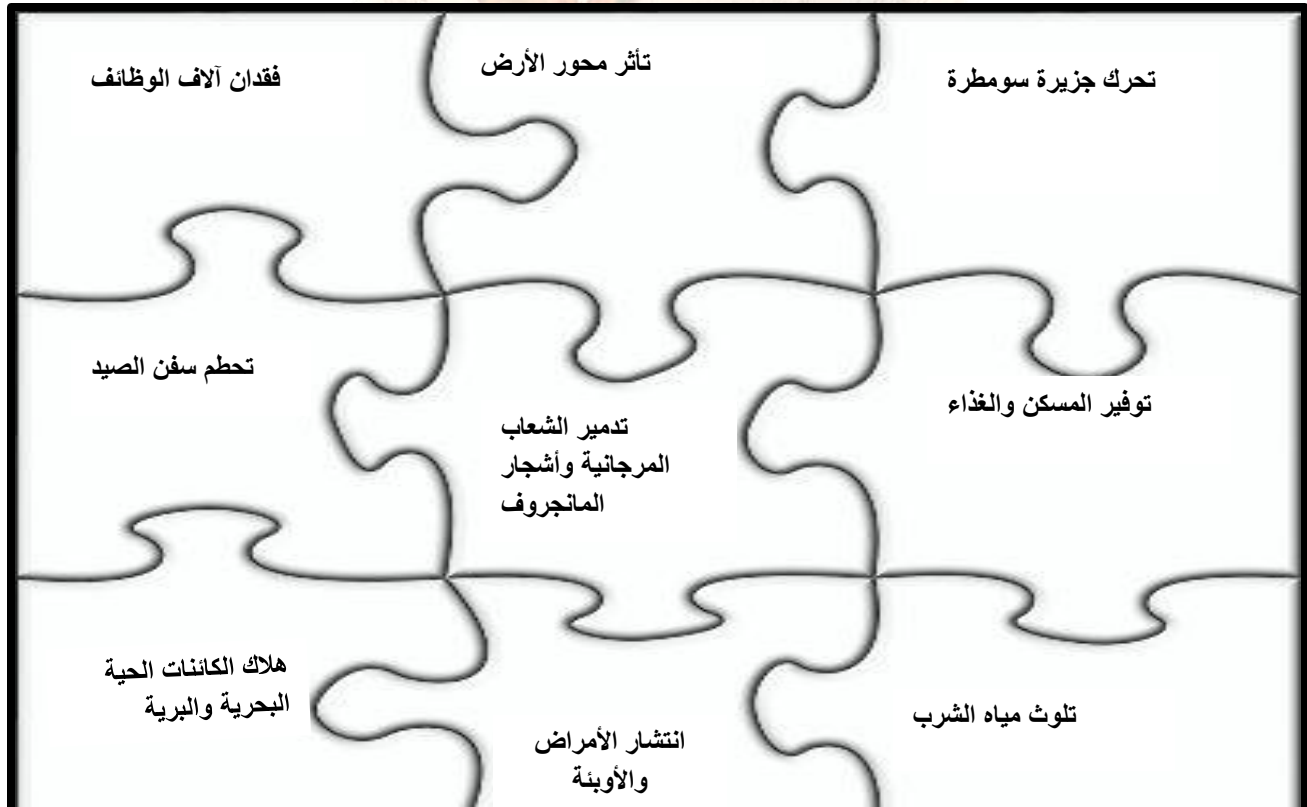
(13) صنفى الآثار الناتجة عن المد الزلزالي الآتية الى آثار اقتصادية وبيئية وجغرافية وفق الجدول الآتي :-

(تأثر محور الأرض – فقدان آلاف الوظائف – تدمير الشعاب المرجانية – تحرك جزيرة سومطرة – تحطم سفن الصيد – تلوث مياه الشرب – انتشار الأمراض والأوبئة – هلاك الكائنات الحية – توفير المسكن والغذاء)

الآثار الاقتصادية	الآثار البيئية	الآثار الجغرافية

(14) من خلال لعبة البازل الموضحة أدناه قومي بما هو مطلوب منك :-

- 1- تلوين الآثار الاقتصادية للمد البحري (تسونامي) باللون الأحمر.
- 2- تلوين الآثار البيئية للمد البحري (تسونامي) باللون الأخضر.
- 3- تلوين الآثار الجغرافية للمد البحري (تسونامي) باللون الأزرق.



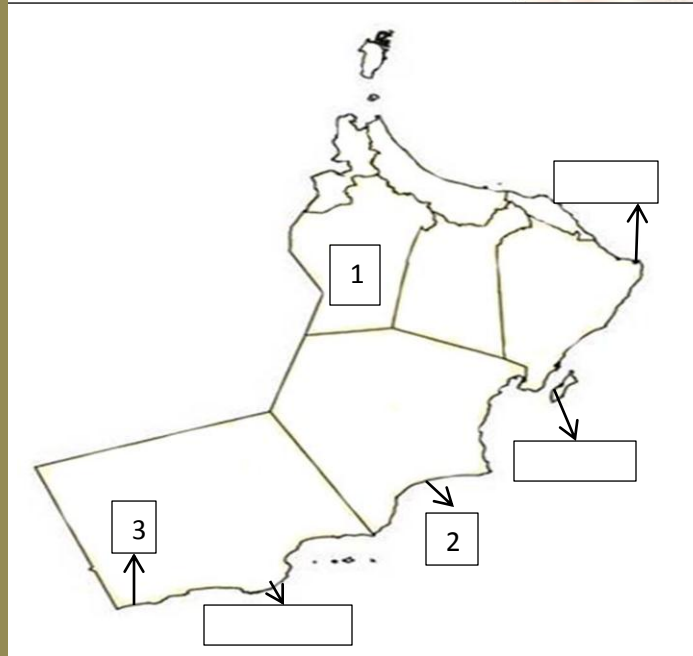
15)دقي النظر في الخريطة الآتية ثم أجيب عن الأسئلة الآتية :-



- 1- سم الموقع الذي كان فيه مركز الزلزال البحري (تسونامي) ؟
- 2- وقعي على الخريطة المسطح المائي الذي حدثت فيه تغيرات نتيجة المد البحري (تسونامي) .
- 3- اذكر الطبقات التكتونية التي حدث فيها الزلزال البحري (تسونامي) ؟
- 4- فرقي بين الطبقات التكتونية التي تحولت للخارج والطبقات التكتونية التي تحولت للداخل .

16)من خلال خريطة سلطنة عمان أجيب عن الأسئلة الآتية :-

- 1- ما الرقم الذي يشير الى ولاية ضلكوت .
- 2- اكتب على الخريطة في المستطيل المناسب الموقع الذي تعرض للزلزال البحري (تسونامي)
- 3- ظللي الأجزاء العمانية التي تعرضت لتعاضم الأمواج البحرية (تسونامي) ؟
- 4- فسري تعرض سواحل السلطنة لتعاضم الأمواج البحرية .



17)دقي النظر في الشكل الآتي مع الاستعانة بالكتاب المدرسي صفحة (62) ثم أجيب عن الأسئلة التي تليه:-



- 1- ماذا يوضح الشكل الذي أمامك ؟
- 2- كم عدد المراحل التي يمر بها الشكل الموضح أمامك ؟
- 3- تتبعي المراحل التي يمر بها هذا الشكل .
- 4- وضح ما يجب عمله لدى اكتمال المرحلة الأخيرة من هذا الشكل
- 5- هل توجد علاقة بين الكارثة التي وقعت في جنوبي آسيا والشكل المقابل ؟ وضح اجابتك ؟
- 6- اذكر المسطح المائي الذي بدأت الدول المطلة عليه في العمل بما هو موضح في الشكل ؟

ملتزمون بتحقيق رؤيتنا , الإجابة في موادنا

ملحق بأسئلة الاختبارات السابقة

** أختار الإجابة الصحيحة من بين البدائل المعطاة فيما يلي:-

1) الترتيب التنازلي الصحيح لأكثر المناطق التي وفد منها المهاجرون إلى الولايات المتحدة الأمريكية:

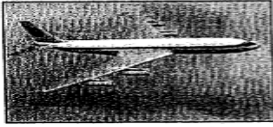
أ. أمريكا الوسطى - آسيا - أوروبا

ب. أمريكا الوسطى - أوروبا - آسيا


ج. أوروبا - آسيا - أمريكا الوسطى

د. آسيا - أمريكا الوسطى - أوروبا

ب. رمز الصورة الدالة على الصناعة التي تحتل فيها اليابان المرتبة الأولى عالمياً:



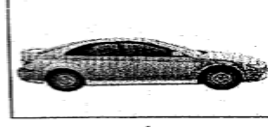
د



ج



ب



أ

ت. العام الميلادي التي أنشأت فيه رابطة الآسيان:

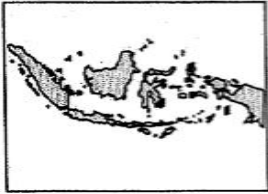
د- 1986

ج- 1976

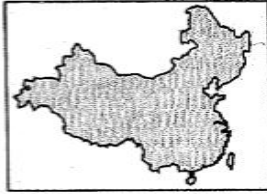
ب- 1967

أ- 1957

ث. رمز الخريطة التي تمثل دولة الصين:



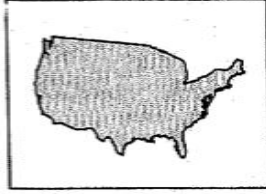
د



ج



ب



أ

ج. الجدول الذي يدل على البطالة السريعة الصحيحة لليابان:

المساحة	2773.835 كم ²
العملة	اليوان
العاصمة	نجازاكي

ب

المساحة	2773.835 كم ²
العملة	اليوان
العاصمة	طوكيو

أ

المساحة	2773.835 كم ²
العملة	الين
العاصمة	طوكيو

د

المساحة	2773.835 كم ²
العملة	الين
العاصمة	نجازاكي

ج

ح. أنشئ الاتحاد الأوروبي في العام الميلادي:

د- 1975

ج- 1973

ب- 1957

أ- 1951

خ. الترتيب التنازلي للأعاصير الواردة في الجدول المقابل حسب عدد الضحايا:

اسم الإعصار	الدولة	السنة	عدد الضحايا
نينيا	الصين	1975م	100000
يهولا	بنجلاديش	1970م	500000
هايان	الفلبين	2013م	12000

- (أ) نينيا - يهولا - هايان
(ب) هايان - نينيا - يهولا
(ج) يهولا - نينيا - هايان
(د) هايان - يهولا - نينيا

د. الجدول الذي يدل على البطاقة التعريفية الصحيحة للصين:

المساحة	9.6 مليون كم2
العملة	الين
العاصمة	تشي

ب

المساحة	9.6 مليون كم2
العملة	اليوان
العاصمة	بكين

أ

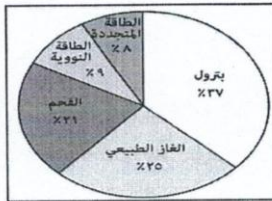
المساحة	6.9 مليون كم2
العملة	اليوان
العاصمة	شنجهاي

د

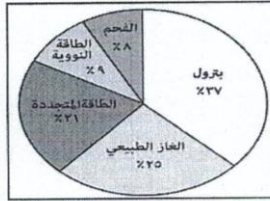
المساحة	6.9 مليون كم2
العملة	الدولار
العاصمة	أنشان

ج

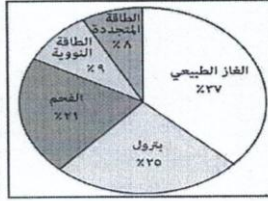
ذ. رمز الشكل الصحيح لاستهلاك الطاقة في الولايات المتحدة الأمريكية:



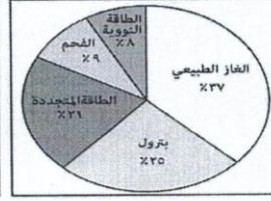
د



ج



ب



أ

ر. الصورة التي تدل على المحصول الزراعي الذي حقق أعلى معدل إكتفاء ذاتي في اليابان:



د



ج



ب

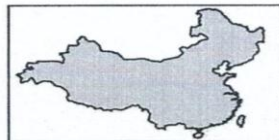


أ

ز. رمز الخريطة التي تمثل دولة اليابان:



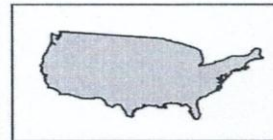
د



ج



ب



أ

س. يطلق على الصين اليوم اسم "المارد الصيني" بسبب:

- أ- قوتها الاقتصادية ب- كثرة سكانها ج- كبر مساحتها د- قوتها العسكرية

ش. الرمز الذي يوضح حركة الصادرات والواردات في أنشطة الخدمات التجارية في اليابان حسب الجدول الآتي:

الرمز	الدولة الأكثر تصديرا إلى اليابان	الدولة الأكثر استيرادا من اليابان
أ	الصين	الولايات المتحدة الأمريكية
ب	الولايات المتحدة الأمريكية	الصين
ج	كوريا الجنوبية	الولايات المتحدة الأمريكية
د	الولايات المتحدة الأمريكية	كوريا الجنوبية

ص. القطاع الاقتصادي الأول للدول الثلاث (الولايات المتحدة الأمريكية - اليابان - الصين):

الدولة	القطاع الاقتصادي
أمريكا	الزراعة
اليابان	الزراعة
الصين	الخدمات

د

الدولة	القطاع الاقتصادي
أمريكا	الزراعة
اليابان	الخدمات
الصين	الصناعة

ج

الدولة	القطاع الاقتصادي
أمريكا	الصناعة
اليابان	الزراعة
الصين	الخدمات

ب

الدولة	القطاع الاقتصادي
أمريكا	الخدمات
اليابان	الخدمات
الصين	الصناعة

أ

ض. أول رئيس للولايات الأمريكية المتحدة بعد استقلالها:

- أ- جورج واشنطن ب- جورج بوش ج- جورج كيندي د- أمريكو فسبوتشي

ط. الدولة التي لم تعترف باليورو كعملة موحدة:

- أ- بريطانيا ب- فرنسا ج- المانيا د- اسبانيا



ظ. تمثل الخريطة المقابلة خارطة دولة:

- أ- الصين ب- الولايات المتحدة ج- اليابان د- اندونيسيا

ع. وصل معدل نمو الإنتاج الصناعي في اليابان في العام الميلادي 2009م حوالي:

- أ- 10% ب- 11% ج- 12% د- 13%

غ. الترتيب الصحيح للدول الآتية من حيث المساحة الأكبر فالأصغر هو:

1	الصين
2	اليابان
3	الولايات المتحدة

ج

1	الولايات المتحدة
2	اليابان
3	الصين

ب

1	اليابان
2	الولايات المتحدة
3	الصين

أ

1	الصين
2	الولايات المتحدة
3	اليابان

ف. العام الميلادي الذي تعرض فيه العالم الصناعي لأزمة اقتصادية والتي عرفت بالكساد الكبير:

- أ- 1829 ب- 1892 ج- 1929 د- 1992

ق. تضم الولايات المتحدة الأمريكية مقاطعة واحدة هي:
أ- هاواي ب- ألاسكا ج- كولومبيا د- نيويورك


ك. يعد سكان اليابان من أكثر مجتمعات العالم شيخوخة بسبب:
أ- ارتفاع معدل الخصوبة ب- ارتفاع معدل الهجرة

ج- انخفاض معدل الخصوبة د- انخفاض معدل الهجرة

ل. جميع ما يأتي من أسباب الأزمة الاقتصادية الآسيوية عام 1997م عدا:
أ- تراخي الضوابط المصرفية ب- صرف قروض طويلة الأجل

ج- ارتفاع مديونية الشركات د- السياسات المرنة لأسعار الصرف

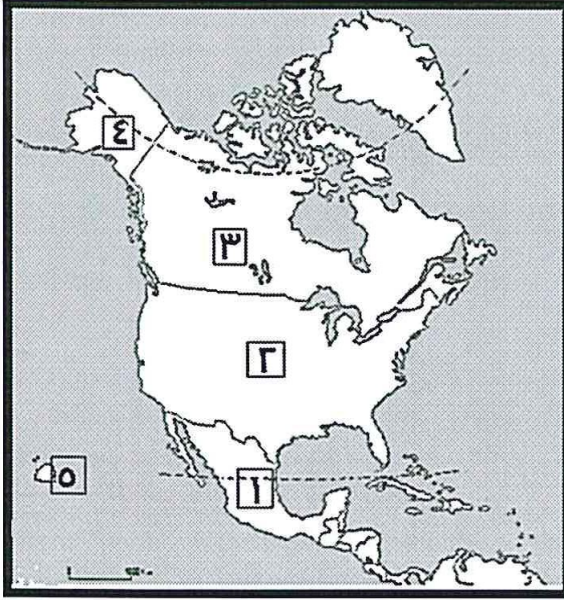
م. الشكل الذي تمثل تنمية مساهمة القطاعات الاقتصادية في الصين:



** استعن بخريطة العالم الآتية للإجابة عن 27/26:



هـ. الرقم الذي يشير إلى دولة المكسيك التي تستخدم الطاقة الحرارية الأرضية لإنتاج الكهرباء:
أ- 1 ب- 2 ج- 3 د- 4



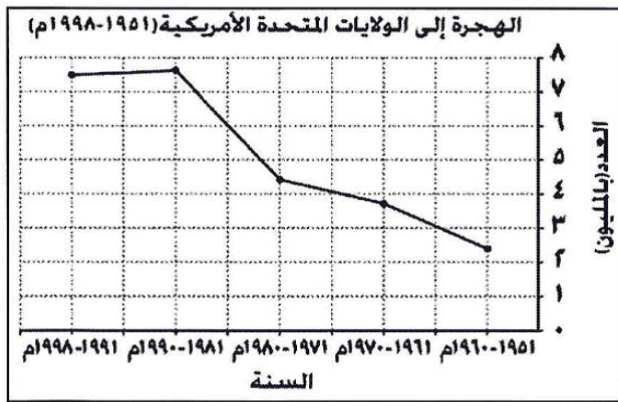
و. المرتبة التي تحتلها الدولة المشار إليها بالرقم (2) في الاقتصاد العالمي:
أ- الأولى
ب- الثانية
ج- الثالثة

**من خلال الخريطة التي أمامك أجب عن السؤالين 29/28:

ي. الرقمان اللذان يشيران إلى الولايتين الأمريكيتين اللتين تقعان خارج حدود الولايات المتحدة الأمريكية:
أ- (3،1)
ب- (5،1)
ج- (5،4)
د- (4،3)

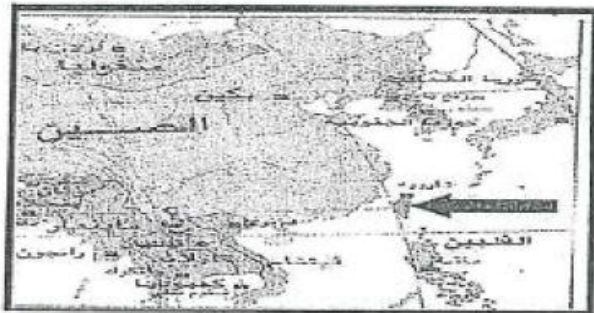
أ. التكتل الاقتصادي (النافتا) يشمل الدول المشار إليها بالأرقام:
أ- (3،1)
ب- (3،2،1)
ج- (4،3،2)
د- (4،2)

ب. الفترة الزمنية التي تمثل ثبات نسبي في معدلات الهجرة إلى الولايات المتحدة الأمريكية حسب الشكل المقابل:



أ- 1951-1970م
ب- 1970-1991م
ج- 1980-1990م
د- 1960-1998م

ت. الجزيرة المشار إليها بالسهم في الخريطة المقابلة تتبع دولة:



أ- الفلبين
ب- الصين
ج- اليابان
د- فيتنام

*دلل: مدى نجاح السوق الأوروبية.

** علل:

1- الأهمية الكبرى لرابطة الآسيان.

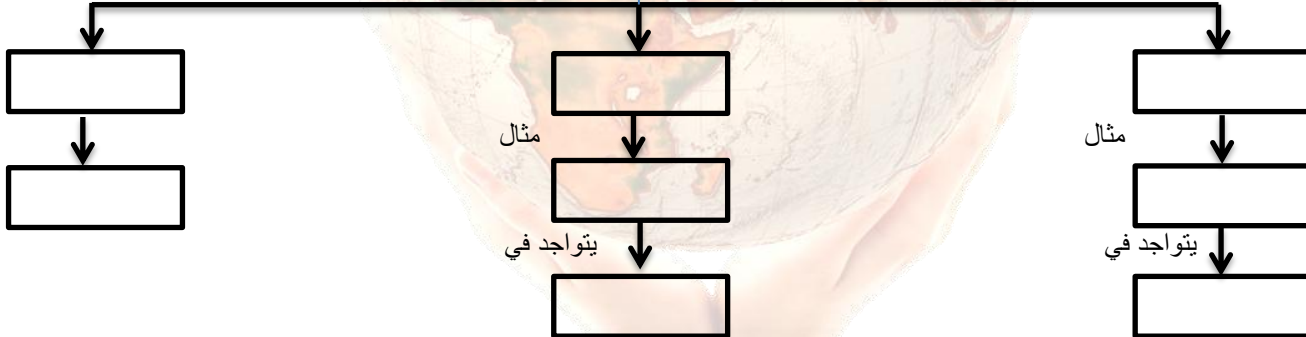
**عرف ما يلي:

- 1- النافتا.....
- 2- مجموعة الثماني للدول النامية.....
- 3- الكساد الكبير (أزمة 1929م).....
- 4- الثورة الخضراء.....
- 5- الحرب الباردة.....
- 6- اليورو.....

*أولا : أكمل المخطط الآتي مستفيدة من الكلمات المحددة بين القوسين:
(الخدمات – الفراولة – ديترويت – النقل – السيارات – الزراعة – الصناعة – كاليفورنيا)

قطاعات الناتج الإجمالي القومي الأمريكي...

يتكون من

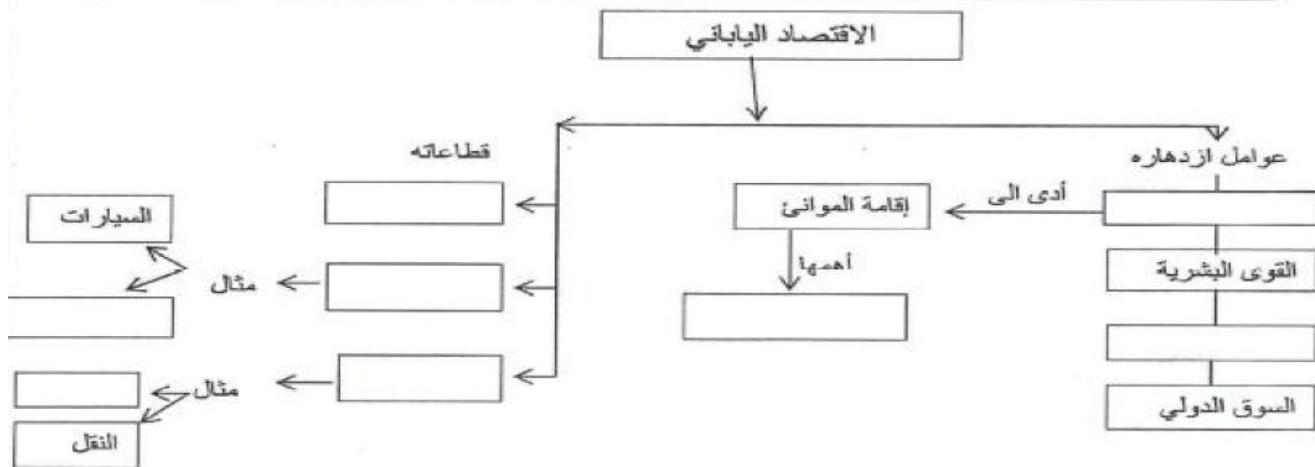


اكتب السبب أو النتيجة فيما يأتي :

النتيجة	السبب
.....	(١) نشوب خلاف بين الحكومة البريطانية والمهاجرين إلى الولايات المتحدة الأمريكية عام ١٧٧٦م.
التنوع العرقي في الولايات المتحدة الأمريكية.	(٢)
تعرض اليابان للزلازل والبراكين المدمرة بكثرة.	(٣)
.....	(٤) زيادة مساحة الأراضي الصحراوية وجفافها والإفراط في استغلال الأراضي في الصين .

ثالثاً: أكمل المخطط الآتي بكتابة الكلمات الواردة في الصندوق.

اوزاكا / السفن / الخدمات / الصناعة / الزراعة / البنوك / السياسات الاقتصادية / الموقع الجغرافي



**أمامك جدول يوضح معدل الاكتفاء الذاتي لأهم المحاصيل الزراعية في اليابان ، ادرسه جيداً ثم أجب عن الأسئلة الآتية:

المحاصيل الزراعية	معدل الاكتفاء الذاتي
الأرز	95,9
القمح	13,4
الحبوب	6,8
الخضروات	83,4
الفواكه	44,3

1- أي المحاصيل الزراعية الأكثر استيراداً؟

2- أي المحاصيل الزراعية الأقل استيراداً؟

3- لماذا لم تصل اليابان إلى الاكتفاء الذاتي من الأرز؟

4- عدد اثنين من طرق حماية القطاع الزراعي وتطويره في اليابان؟

**ادرس الجدول الذي أمامك ثم أجب عن الأسئلة التي تليه:

المحاصيل الزراعية	الانتاج المحلي بالألف طن	الاستيراد بالألف طن	الاستهلاك المحلي بالألف طن	معدل الاكتفاء الذاتي %
الأرز	٩.٠٧٠	٨٨٢	٩.٤٥٩	٩٥.٩
القمح	٨٢٩	٤.٩٧٣	٦.٢٠٣
البطاطا	٤.٠٩٩	٧٦٨	٤.٨٦٦	٨٤.٤
الحبوب	٣٩٥	٥.٣٨٧	٥.٧٧٠	٦.٨

١- رتب المحاصيل الزراعية في اليابان بناءً على الكمية المزروعة .

٢- احسب معدل الاكتفاء الذاتي لمحصول القمح إذا ما علمت أن معدل الاكتفاء الذاتي يستخرج بقسمة الناتج

المحلي على الاستهلاك مضروباً في ١٠٠ .

-1

الدولة	الولايات المتحدة الأمريكية	الصين	اليابان
الصناعة	٢٠,٤%	٤٨,١%	٢٥,٣%
الزراعة	٠,٩%	١١,٩%	١,٦%
الخدمات	٧٨,٦%	٤٠%	٧٣,١%

2- رتب الدول الواردة تنازلياً حسب مساهمة قطاع الخدمات في ناتجها المحلي؟

3- من خلال الجدول يتضح أن أحد القطاعات الاقتصادية المساهمة في الناتج المحلي لليابان لا تزيد نسبته عن (6,1%) فقط . علل ذلك.

(النسبة المئوية لمساهمة بعض القطاعات الاقتصادية في الناتج المحلي لبعض الدول لعام ٢٠١٠م)

ج-٢- أمامك جدول يمثل النسبة المئوية لمساهمة بعض القطاعات الاقتصادية في الناتج المحلي لكل دولة حسب إحصائية عام ٢٠١٠م، ادرسه جيداً ثم أجب عن الأسئلة التي تليه:

الدولة	الولايات المتحدة الأمريكية	الصين	اليابان
الصناعة	٢٠,٤%	٤٨,١%	٢٥,٣%
الزراعة	٠,٩%	١١,٩%	١,٦%
الخدمات	٧٨,٦%	٤٠%	٧٣,١%

أ- كم بلغت نسبة مساهمة القطاع الذي يمثل العمليات الرئيسية لسير القطاعات الأخرى في الولايات المتحدة الأمريكية من ناتجها المحلي؟

ب- رتب الدول تنازلياً حسب نسبة مساهمة قطاع الصناعة من الناتج المحلي لكل دولة.

ج- علل: يمثل أحد القطاعات الاقتصادية الواردة في الجدول نسبة (١١,٩ %) من الناتج المحلي للصين، بينما لا يمثل للولايات المتحدة الأمريكية سوى (٠,٩ %) .

**أولاً : " تتجه معظم دول العالم لتكوين تكتلات اقتصادية حتى أصبحت لا تخلو قارات العالم منها " في ضوء هذه العبارة أجب عن الآتي:

1- أذكر اثنين من التكتلات الاقتصادية التي ترتبط بها سلطنة عمان؟

2- ما أهمية الارتباط بالتكتلات الاقتصادية؟

** ما النتيجة المترتبة على:

أ- معدل الإنجاب ومعدل الوفيات عند تطبيق الصين سياسة الطفل الواحد.

ب- الإفراط في استغلال الأراضي الزراعية في الصين.

**ثانياً: " شهدت صناعة السيارات في الصين نمواً سريعاً خلال السنوات الأخيرة ، وتتجه هذه الصناعة نحو نمطين مختلفين". في ضوء هذه العبارة أجب عما يلي:

1- أذكر النمطين الذين اتجهت إليهم صناعة السيارات الصين؟

2- ما المرتبة التي احتلتها الصين في إنتاج السيارات لعام 2010م.

3- لو كنت أحد المشرفين في هذا المجال فما هو النمط الذي ستأخذ به ؟ ولماذا؟

4- عدد طرق مواجهة الصناعة الصينية للصناعات الأخرى ذات الجودة العالية؟

5- اكتب اثنين من الأدلة على التطور العلمي للصين في مختلف الفترات الزمنية؟

**ثالثاً: " ارتبط النمو الاقتصادي للآسيان بالاستقرار الأمني في المنطقة ، حيث أسهمت الرابطة في إيجاد الحلول للعديد من المشكلات الأمنية التي كانت تسود المنطقة"

في ضوء العبارة السابقة أجب عن الآتي:

1- ما نوع التكتل الذي تمثله رابطة الآسيان؟

2- كم عدد

الدول التي تتكون منها رابطة الآسيان؟

ت) ما النتيجة المترتبة على :

1- ضعف السوق الأمريكية في القطاع الزراعي؟

2- ارتفاع الضرائب التي تفرضها الولايات المتحدة على مصانع النسيج؟

**رابعاً: " تعد من أبرز الروابط والتكتلات الاقتصادية على مستوى العالم حيث تضم في عضويتها عشر دول من جنوب شرقي آسيا وقد حققت نجاحات اقتصادية باهرة" في ضوء العبارة السابقة أجب عن الأسئلة الآتية:

1- ما اسم هذه الرابطة؟

2- سم الدولة التي تم فيها تأسيس الرابطة؟

3- اعط مثالين على النجاحات الاقتصادية التي حققتها الرابطة؟

خامساً: " يعد من أبرز التكتلات الاقتصادية والمنظمات السياسية نشأ بموجب المعاهدة التي وقعت في روما عام 1957م" في ضوء العبارة السابقة أجب عما يأتي:

- 1- ما اسم هذا التكتل؟
- 2- كم عدد الدول التي انضمت له؟
- 3- أذكر اثنين من أهداف توسع هذا التكتل؟

*** أجب عن الأسئلة الآتية:

**أولاً:

أ-رتب الأحداث الآتية من الأقدم إلى الأحدث بوضع الأرقام (١-٤) بين القوسين:

- () إنشاء سد الأودية الثلاثة على نهر اليانجستي.
- () انضمام أسبانيا إلى الاتحاد الأوروبي.
- () استعادة الصين مكاو من البرتغال.
- () توقيع اتفاقية التجارة الحرة بين سلطنة عمان والولايات المتحدة الأمريكية.

ب رتب الأحداث التالية من الأقدم إلى الأحدث بوضع الأرقام (١ - ٤) بين القوسين:

- () قيام جمهورية الصين الشعبية.
- () انضمام النمسا للاتحاد الأوروبي.
- () أصبحت هاواي ولاية أمريكية.
- () استعادة الصين هونغ كونج من بريطانيا.

ج- رتب الأحداث التالية من الأقدم إلى الأحدث بوضع الأرقام (1-4) بين القوسين:

- () بداية الأزمة الاقتصادية في آسيا.
- () إنشاء الاتحاد الأوروبي بموجب معاهدة روما.
- () عودة المستعمرة البرتغالية (مكاو) إلى السيادة الصينية.
- () تأسيس رابطة الآسيان في العاصمة التايلندية بانكوك.

د- رتب الأحداث التالية من الأقدم إلى الأحدث بوضع الأرقام (1-4) بين القوسين:

() إنشاء سد الأودية الثلاثة على نهر اليانجستي.

() انضمام إسبانيا إلى الاتحاد الأوروبي.

() استعادة الصين مكاو من البرتغال.

() توقيع اتفاقية التجارة الحرة بين سلطنة عمان والولايات المتحدة الأمريكية.

****ثانيا:**

أ- صنف الدول الآتية (المكسيك - بولندا - مصر - رومانيا - كندا - هنغاريا - ماليزيا - قبرص) حسب المنظمة الاقتصادية التي تنتمي إليها وفق الجدول الآتي:

*المنظمة	الناftا	الاتحاد الأوروبي	مجموعة الدول الثماني النامية
*الدولة			

ب- واجهت الدول التي قمت بدراستها بعض المشكلات والتحديات الاقتصادية والاجتماعية والسياسية واتخذت في ذلك عدد من الحلول والتدابير اللازمة للتقليل منها " . في ضوء هذه العبارة اكتب الحل الذي وضعته كل دولة مقابل المشكلة التي تعرضت لها في الجدول الآتي:

م	المشكلة / التحدي	الحل الذي وضعته الدولة
١	المنافسة التي تعرضت لها الولايات المتحدة من قبل الصين في مجال صناعة النسيج
٢	قلة مساحة الأراضي الصالحة للزراعة في اليابان
٣	الزيادة الهائلة في عدد السكان في الصين
٤	تلوث المدن الكبرى في الصين

ج- اكتب السبب الرئيس لكل نتيجة حسب الجدول الآتي:

السبب الرئيس	النتيجة
أ-	*تنوع المحاصيل الزراعية في الولايات المتحدة الأمريكية.
ب-	*تطبيق الصين لسياسة الطفل الواحد.

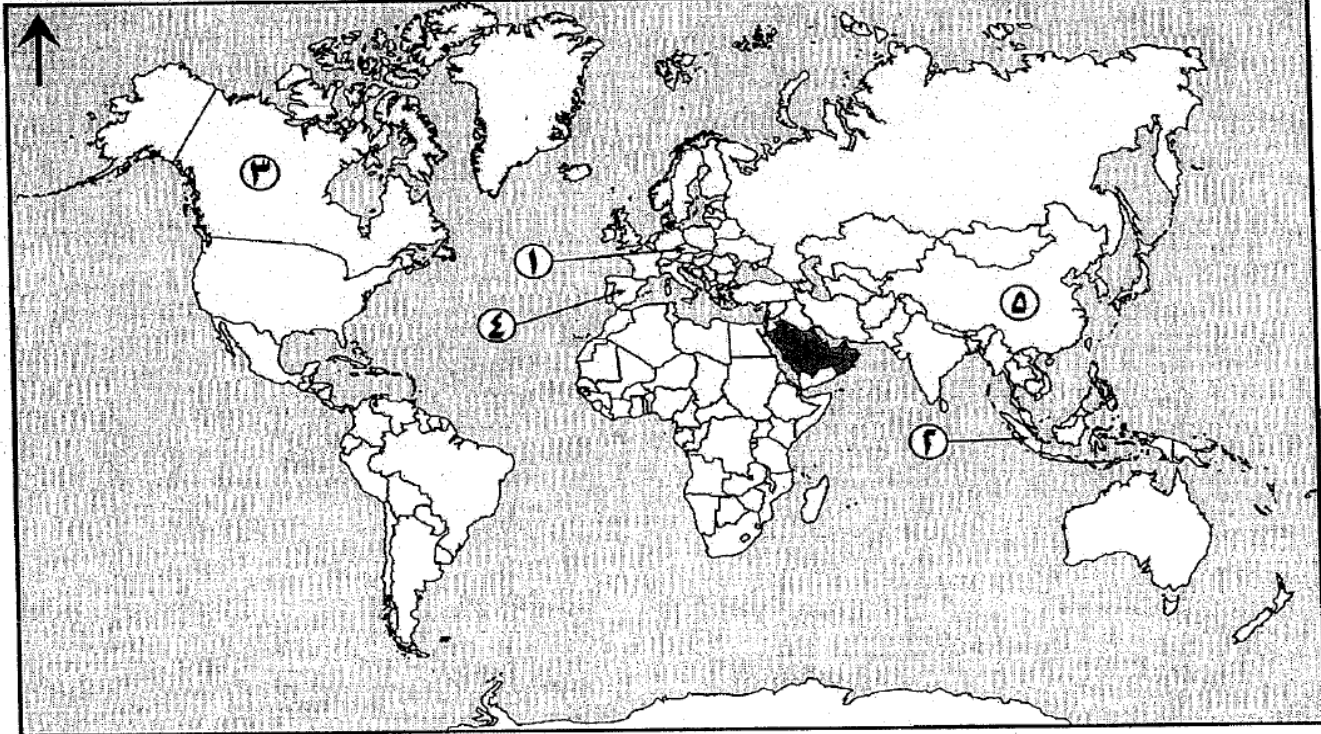
د- من خلال الجدول قارني بين الولايات المتحدة الأمريكية واليابان من حيث (العاصمة / العملة):-

اليابان	الولايات المتحدة الأمريكية	
		*العاصمة
		*العملة

هـ - اكتب اسم التكتل الاقتصادي المناسب للعبارات الآتية:

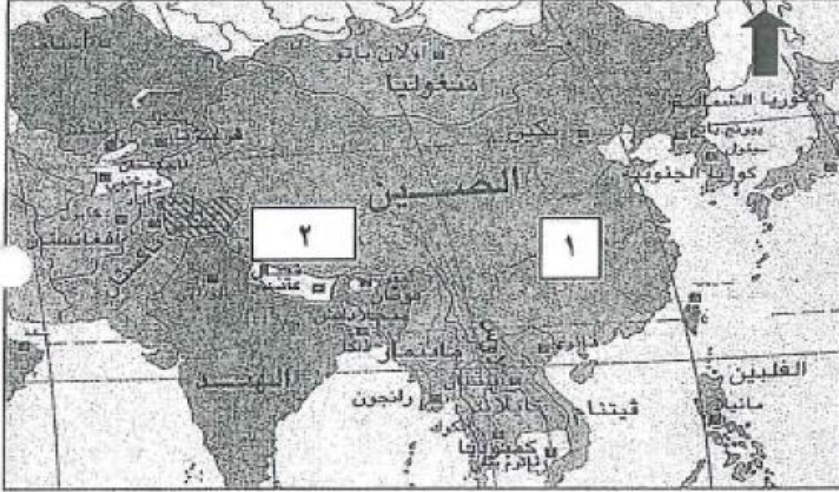
- 1- يضم سبع دول مطلة على المحيط الهندي منها سلطنة عمان.(.....)
- 2- من أهم مؤسسات الاتحاد الأوروبي وأقوى الأسواق التجارية في العالم وأنشئت عام 1958م.(.....)

*أولا : أمامك خريطة العالم ، أدرسها جيدا ثم أجب عن الأسئلة التالية:

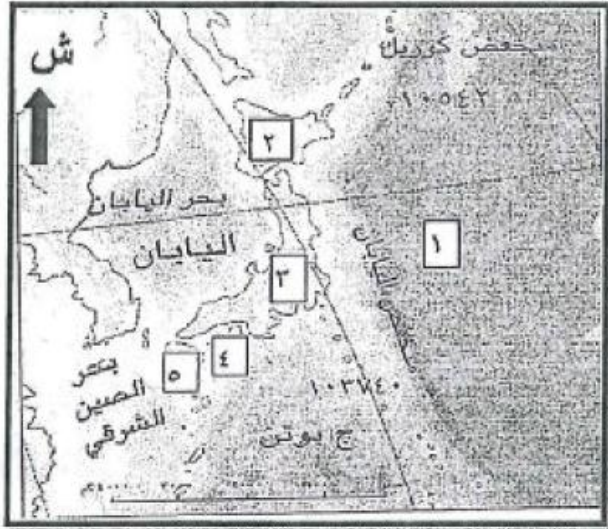


- 1- وقع على الخريطة اسم المسطح المائي الذي يقع غرب الولايات المتحدة الأمريكية.
- 2- ما التكتل الاقتصادي الذي يجمع الدول المظللة في الخريطة.
- 3- فسر تاخر السياح الاوروبيين أثناء انتقالهم إلى الدولة المشار إليها بالرقم (1).
- 4- ما الرقم الذي يشير إلى الدولة التي تنتمي لرابطة الآسيان.

ثانيا: أمامك خريطة الصين، أدرسها جيدا ثم أجب عن الأسئلة الآتية:



- 1- ضع دائرة حول جزيرة تايوان.
- 2- سمّ النهر المشار إليه بالرقم (1).
- 3- ما اسم الهضبة المشار إليها بالرقم (2)؟
- 4- ما الجهة الفرعية التي تقع فيها الهند بالنسبة للصين؟



- ثالثا: أمامك خريطة اليابان، ادرسها جيدا ثم أجب عن الأسئلة الآتية:
- 1- ضع دائرة حول جزيرة هوكايدو.
- 2- ما الرقم الذي يمثل الجزيرة التي تقع فيها عاصمة اليابان؟
- 3- ما الجهة الرئيسية التي تقع فيها جزر بوتن بالنسبة لليابان؟
- 4- ما اسم المحيط المشار إليه بالرقم (1)؟

****أمامك خريطة الولايات المتحدة الأمريكية ، ادرسها جيدا ثم أجب عن الأسئلة الآتية:**



١) يقسم سطح الأرض في الولايات المتحدة الأمريكية الى ثلاثة اقسام رئيسية وهي المرتفعات الشرقية ، والسهول الوسطى ، والمرتفعات الغربية. في ضوء ذلك:-

أ- ضلل على الخريطة الاقسام الثلاثة باستخدام المفتاح الآتي :

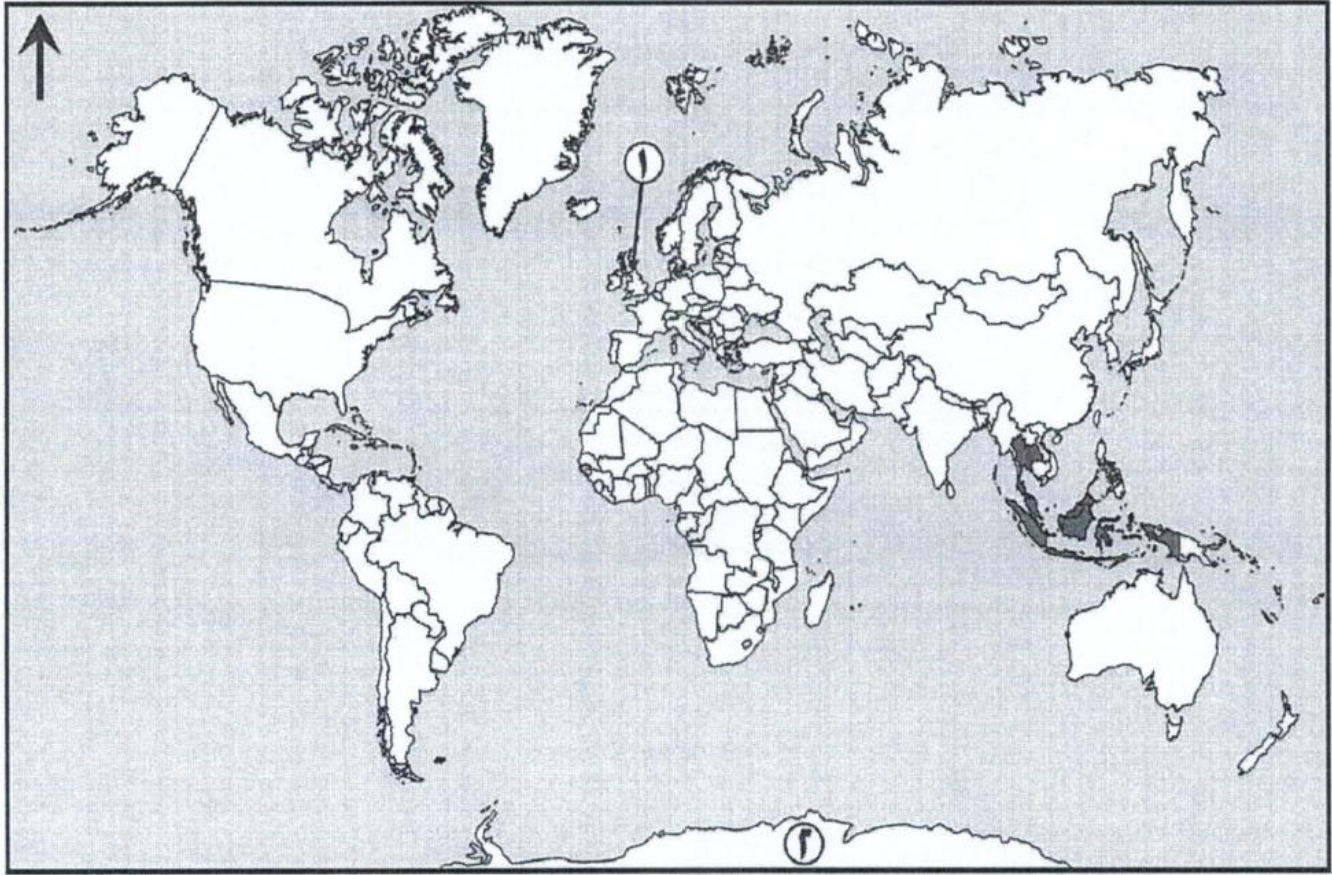
الغربية	الوسطى	الشرقية

ب- ما المنطقتين اللتين تتلقيان أمطار أكثر من غيرها ؟

٢) ظلل على الخريطة المقاطعة الغربية التي تقع في الشمال الغربي من كندا.

٣) ماذا يطلق على الظاهرة الطبيعية المشار اليها بالرقم (٣) ؟

ادرسها جيدا ثم أجب عن الأسئلة التالية:



1- ما اسم الرابطة الاقتصادية التي تجمع الدول المظللة باللون الأسود؟

2- فسر: يواجه السياح الأوروبيون صعوبة مادية عند دخولهم للدولة المشار إليها بالرقم (1).

3- وقع على الخريطة اسم المسطح المائي الذي يقع شرق الولايات المتحدة الأمريكية.

ملتزمون بتحقيق رؤيتنا ، الإجابة في موادنا